

**САМАРСКИЙ ГОСУДАРСТВЕННЫЙ АЭРОКОСМИЧЕСКИЙ
УНИВЕРСИТЕТ имени академика С. П. КОРОЛЕВА**

ЛИНЕЙНАЯ АЛГЕБРА

Контрольные работы

САМАРА 1999

МИНИСТЕРСТВО ОБЩЕГО И ПРОФЕССИОНАЛЬНОГО
ОБРАЗОВАНИЯ РОССИЙСКОЙ ФЕДЕРАЦИИ

САМАРСКИЙ ГОСУДАРСТВЕННЫЙ АЭРОКОСМИЧЕСКИЙ
УНИВЕРСИТЕТ имени академика С. П. КОРОЛЕВА

ЛИНЕЙНАЯ АЛГЕБРА

Контрольные работы для студентов-заочников

САМАРА 1999

Составитель: *Прокофьев Л. Н.*

УДК 510. 2(075)

Линейная алгебра: Контрольные работы для студентов-заочников/ Самарский гос. аэрокосмический ун-т ; Сост. *Л. Н. Прокофьев.* Самара, 1999, 87 с.

Контрольные работы по линейной алгебре предназначены для индивидуальной, самостоятельной работы студентов I курса факультета заочного обучения университета специальности 220 200 "Автоматизированные системы обработки информации и управления". Они включают в себя основные типы задач, необходимых для усвоения курса линейной алгебры.

Подготовлены на кафедре прикладной математики факультета информатики.

Печатаются по решению редакционно-издательского совета Самарского государственного аэрокосмического университета имени академика С. П. Королева

Семестр 1

Контрольная работа № 1

Определители. Матрицы. Системы линейных алгебраических уравнений.

(30 вариантов по 6 задач)

Решение типового варианта

Контрольная работа № 1 (30 вариантов по 6 задач)

1. Для данного определителя Δ найти миноры алгебраические дополнения элементов a_{i2} , a_{3j} . Вычислить определитель Δ : а) разложив его по элементам i -й строки; б) разложив его по элементам j -го столбца; в) получив предварительно нули в i -ой строке.

$$1.1. \begin{vmatrix} 1 & 1 & -2 & 0 \\ 3 & 6 & -2 & 5 \\ 1 & 0 & 6 & 4 \\ 2 & 3 & 5 & -1 \end{vmatrix},$$

$i=4, j=1.$

$$1.1. \begin{vmatrix} 2 & 0 & -1 & 3 \\ 6 & 3 & -9 & 0 \\ 0 & 2 & -1 & 3 \\ 4 & 2 & 0 & 6 \end{vmatrix},$$

$i=3, j=3.$

$$1.2. \begin{vmatrix} 2 & 7 & 2 & 1 \\ 1 & 1 & -1 & 0 \\ 3 & 4 & 0 & 2 \\ 0 & 5 & -1 & -3 \end{vmatrix},$$

$i=4, j=1.$

$$1.2. \begin{vmatrix} 4 & -5 & -1 & -5 \\ -3 & 2 & 8 & -2 \\ 5 & 3 & 1 & 3 \\ -2 & 4 & -6 & 8 \end{vmatrix},$$

$i=1, j=3.$

$$1.3. \begin{vmatrix} 3 & 5 & 3 & 2 \\ 2 & 4 & 1 & 0 \\ 1 & -2 & 2 & 1 \\ 5 & 1 & -2 & 4 \end{vmatrix},$$

$i=2, j=4.$

$$1.3. \begin{vmatrix} 3 & 2 & 0 & -5 \\ 4 & 3 & -5 & 0 \\ 1 & 0 & -2 & 3 \\ 0 & 1 & -3 & 4 \end{vmatrix},$$

$i=1, j=2.$

$$1.4. \begin{vmatrix} 2 & -1 & 2 & 0 \\ 3 & 4 & 1 & 2 \\ 2 & -1 & 0 & 1 \\ 1 & 2 & 3 & -2 \end{vmatrix}$$

$$i=2, j=3.$$

$$1.5. \begin{vmatrix} 0 & 4 & 1 & 1 \\ -4 & 2 & 1 & 3 \\ 0 & 1 & 2 & -2 \\ 1 & 3 & 4 & -3 \end{vmatrix}$$

$$i=4, j=3.$$

$$1.6. \begin{vmatrix} 5 & -3 & 7 & -1 \\ 3 & 2 & 0 & 2 \\ 2 & 1 & 4 & -6 \\ 3 & -2 & 9 & 4 \end{vmatrix}$$

$$i=3, j=4.$$

$$1.7. \begin{vmatrix} 1 & 8 & 2 & -3 \\ 3 & -2 & 0 & 4 \\ 5 & -3 & 7 & -1 \\ 3 & 2 & 0 & 2 \end{vmatrix}$$

$$i=1, j=4.$$

$$1.8. \begin{vmatrix} 3 & 1 & 2 & 3 \\ 4 & -1 & 2 & 4 \\ 1 & -1 & 1 & 1 \\ 4 & -1 & 2 & 5 \end{vmatrix}$$

$$i=1, j=3.$$

$$1.9. \begin{vmatrix} 1 & -1 & 0 & 3 \\ 3 & 2 & 1 & -1 \\ 1 & 2 & -1 & 3 \\ 4 & 0 & 1 & 2 \end{vmatrix}$$

$$i=3, j=1.$$

$$1.4. \begin{vmatrix} 3 & 2 & 0 & -2 \\ 1 & -1 & 2 & 3 \\ 4 & 5 & 1 & 0 \\ -1 & 2 & 3 & -3 \end{vmatrix}$$

$$i=3, j=1.$$

$$1.5. \begin{vmatrix} 0 & -2 & 1 & 7 \\ 4 & -8 & 2 & -3 \\ 10 & 1 & -5 & 4 \\ -8 & 3 & 2 & -1 \end{vmatrix}$$

$$i=4, j=2.$$

$$1.6. \begin{vmatrix} 4 & -1 & 1 & 5 \\ 0 & 2 & -2 & 3 \\ 3 & 4 & 1 & 2 \\ 4 & 1 & 1 & -2 \end{vmatrix}$$

$$i=1, j=2.$$

$$1.7. \begin{vmatrix} 2 & -3 & 4 & 1 \\ 4 & -2 & 3 & 2 \\ 3 & 0 & 2 & 1 \\ 3 & -1 & 4 & 3 \end{vmatrix}$$

$$i=2, j=4.$$

$$1.8. \begin{vmatrix} 3 & 1 & 2 & 0 \\ 5 & 0 & -6 & 1 \\ -2 & 2 & 1 & 3 \\ -1 & 3 & 2 & 1 \end{vmatrix}$$

$$i=3, j=2.$$

$$1.9. \begin{vmatrix} 5 & 0 & 4 & 2 \\ 1 & -1 & 2 & 1 \\ 4 & 1 & 2 & 0 \\ 1 & 1 & 1 & 1 \end{vmatrix}$$

$$i=2, j=4.$$

$$1.10. \begin{vmatrix} 6 & 2 & -10 & 4 \\ -5 & -7 & -4 & 1 \\ 2 & 4 & -2 & -6 \\ 3 & 0 & -5 & 4 \end{vmatrix},$$

$i=2, j=3.$

$$1.10. \begin{vmatrix} -1 & -2 & 4 & 1 \\ 2 & 3 & 0 & 6 \\ 2 & -2 & 1 & 4 \\ 3 & 1 & -2 & -1 \end{vmatrix},$$

$i=4, j=3.$

$$1.11. \begin{vmatrix} 1 & 2 & 3 & 4 \\ -2 & 1 & -4 & 3 \\ 3 & -4 & -1 & 2 \\ 4 & 3 & -2 & -1 \end{vmatrix},$$

$i=1, j=2.$

$$1.11. \begin{vmatrix} -1 & 1 & -2 & 3 \\ 1 & 2 & 2 & 3 \\ -2 & 3 & 1 & 0 \\ 2 & 3 & -2 & 0 \end{vmatrix},$$

$i=3, j=2.$

$$1.12. \begin{vmatrix} -1 & 2 & 0 & 4 \\ 2 & -3 & 1 & 1 \\ 3 & -1 & 2 & 4 \\ 2 & 0 & 1 & 3 \end{vmatrix},$$

$i=4, j=4.$

$$1.12. \begin{vmatrix} 4 & 1 & 2 & 0 \\ -1 & 2 & 1 & -1 \\ 3 & -1 & 2 & 1 \\ 5 & 0 & 4 & 2 \end{vmatrix},$$

$i=3, j=2.$

$$1.13. \begin{vmatrix} 4 & 3 & -2 & -1 \\ -2 & 1 & -4 & 3 \\ 0 & 4 & 1 & -2 \\ 5 & 0 & 1 & -1 \end{vmatrix},$$

$i=2, j=3.$

$$1.13. \begin{vmatrix} 3 & -5 & 1 & 2 \\ 0 & 1 & -1 & -2 \\ 3 & 1 & -3 & 0 \\ 1 & 2 & -1 & 2 \end{vmatrix},$$

$i=4, j=1.$

$$1.14. \begin{vmatrix} 2 & -2 & 0 & 3 \\ 3 & 2 & 1 & -1 \\ 1 & 1 & -2 & 1 \\ 3 & 4 & -4 & 0 \end{vmatrix},$$

$i=3, j=4.$

$$1.14. \begin{vmatrix} 6 & 0 & -1 & 1 \\ 2 & -2 & 0 & 1 \\ 1 & 1 & -3 & 3 \\ 4 & 1 & -1 & 2 \end{vmatrix},$$

$i=1, j=2.$

$$1.15. \begin{vmatrix} -1 & -2 & 3 & 4 \\ 2 & 0 & 1 & -1 \\ 3 & -3 & 1 & 0 \\ 4 & 2 & 1 & -2 \end{vmatrix},$$

$i=4, j=4.$

$$1.15. \begin{vmatrix} -4 & 1 & 2 & 0 \\ 2 & -1 & 2 & 3 \\ -3 & 0 & 1 & 1 \\ 2 & 1 & -2 & 3 \end{vmatrix},$$

$i=2, j=2.$

2. Даны две матрицы А и В. Найти: а) АВ; б) ВА; в) А-1; г) АА-1; д)

А-1А.

$$2.1. \quad A = \begin{pmatrix} 2 & -1 & -3 \\ 8 & -7 & -6 \\ -3 & 4 & 2 \end{pmatrix}, \quad B = \begin{pmatrix} 2 & -1 & -2 \\ 3 & -5 & 4 \\ 1 & 2 & 1 \end{pmatrix}$$

$$2.2. \quad A = \begin{pmatrix} 3 & 5 & -6 \\ 2 & 4 & 3 \\ -3 & 1 & 1 \end{pmatrix}, \quad B = \begin{pmatrix} 2 & 8 & -5 \\ -3 & -1 & 0 \\ 4 & 5 & -3 \end{pmatrix}$$

$$2.3. \quad A = \begin{pmatrix} 2 & 1 & -1 \\ 2 & -1 & 1 \\ 1 & 0 & 1 \end{pmatrix}, \quad B = \begin{pmatrix} 3 & 6 & 0 \\ 2 & 4 & -6 \\ 1 & -2 & 3 \end{pmatrix}$$

$$2.4. \quad A = \begin{pmatrix} -6 & 1 & 11 \\ 9 & 2 & 5 \\ 0 & 3 & 7 \end{pmatrix}, \quad B = \begin{pmatrix} 3 & 0 & 1 \\ 0 & 2 & 7 \\ 1 & -3 & 2 \end{pmatrix}$$

$$2.5. \quad A = \begin{pmatrix} 3 & 1 & 2 \\ -1 & 0 & 2 \\ 1 & 2 & 1 \end{pmatrix}, \quad B = \begin{pmatrix} 0 & -1 & 2 \\ 2 & 1 & 1 \\ 3 & 7 & 1 \end{pmatrix}$$

$$2.6. \quad A = \begin{pmatrix} 2 & 3 & 2 \\ 1 & 3 & -1 \\ 4 & 1 & 3 \end{pmatrix}, \quad B = \begin{pmatrix} 3 & 2 & -1 \\ 3 & 1 & 2 \\ 5 & 3 & 0 \end{pmatrix}$$

$$2.7. \quad A = \begin{pmatrix} 6 & 7 & 3 \\ 3 & 1 & 0 \\ 2 & 2 & 1 \end{pmatrix}, \quad B = \begin{pmatrix} 2 & 0 & 5 \\ 4 & -1 & -2 \\ 4 & 3 & 7 \end{pmatrix}$$

$$2.8. \quad A = \begin{pmatrix} -2 & 3 & 4 \\ 3 & -1 & -4 \\ -1 & 2 & 2 \end{pmatrix}, \quad B = \begin{pmatrix} 3 & 3 & 1 \\ 0 & 6 & 2 \\ 1 & 9 & 2 \end{pmatrix}$$

$$2.9. \quad A = \begin{pmatrix} 1 & 7 & 3 \\ -4 & 9 & 4 \\ 0 & 3 & 2 \end{pmatrix}, \quad B = \begin{pmatrix} 6 & 5 & 2 \\ 1 & 9 & 2 \\ 4 & 5 & 2 \end{pmatrix}$$

$$2.10. \quad A = \begin{pmatrix} 2 & 6 & 1 \\ 1 & 3 & 2 \\ 0 & 1 & 1 \end{pmatrix}, \quad B = \begin{pmatrix} 4 & -3 & 2 \\ -4 & 0 & 5 \\ 3 & 2 & -3 \end{pmatrix}$$

$$2.11. A = \begin{pmatrix} 6 & 9 & 4 \\ -1 & -1 & 1 \\ 10 & 1 & 7 \end{pmatrix}$$

$$B = \begin{pmatrix} 1 & 1 & 1 \\ 3 & 4 & 3 \\ 0 & 5 & 2 \end{pmatrix}$$

$$2.12. A = \begin{pmatrix} 1 & 0 & 3 \\ 3 & 1 & 7 \\ 2 & 1 & 8 \end{pmatrix}$$

$$B = \begin{pmatrix} 3 & 5 & 4 \\ -3 & 0 & 1 \\ 5 & 6 & -4 \end{pmatrix}$$

$$2.13. A = \begin{pmatrix} 5 & 1 & -2 \\ 1 & 3 & -1 \\ 8 & 4 & -1 \end{pmatrix}$$

$$B = \begin{pmatrix} 3 & 5 & 5 \\ 7 & 1 & 2 \\ 1 & 6 & 0 \end{pmatrix}$$

$$2.14. A = \begin{pmatrix} 2 & 2 & 5 \\ 3 & 3 & 6 \\ 4 & 3 & 4 \end{pmatrix}$$

$$B = \begin{pmatrix} 1 & -1 & 1 \\ 2 & 3 & 3 \\ 1 & -2 & -1 \end{pmatrix}$$

$$2.15. A = \begin{pmatrix} 1 & -2 & 5 \\ 3 & 0 & 6 \\ 4 & 3 & 4 \end{pmatrix}$$

$$B = \begin{pmatrix} -1 & 1 & 1 \\ 2 & 3 & 3 \\ 1 & -2 & -1 \end{pmatrix}$$

$$2.16. A = \begin{pmatrix} 5 & 4 & 2 \\ 1 & 2 & 4 \\ 3 & 0 & 5 \end{pmatrix}$$

$$B = \begin{pmatrix} 5 & 4 & -5 \\ 3 & -7 & 1 \\ 1 & 2 & 2 \end{pmatrix}$$

$$2.17. A = \begin{pmatrix} 3 & 1 & 0 \\ 4 & 3 & 2 \\ 2 & 2 & -7 \end{pmatrix}$$

$$B = \begin{pmatrix} 2 & 7 & 0 \\ 5 & 3 & 1 \\ 1 & -6 & 1 \end{pmatrix}$$

$$2.18. A = \begin{pmatrix} 8 & -1 & -1 \\ 5 & -5 & -1 \\ 10 & 3 & 2 \end{pmatrix}$$

$$B = \begin{pmatrix} 3 & 2 & 5 \\ 3 & 2 & 1 \\ 1 & 0 & 2 \end{pmatrix}$$

$$2.19. A = \begin{pmatrix} 3 & -7 & 2 \\ 1 & -8 & 3 \\ 4 & -2 & 3 \end{pmatrix}$$

$$B = \begin{pmatrix} 0 & 5 & -3 \\ 2 & 4 & 1 \\ 2 & 1 & -5 \end{pmatrix}$$

$$2.20. A = \begin{pmatrix} 3 & -1 & 0 \\ 3 & 5 & 1 \\ 4 & -7 & 5 \end{pmatrix}$$

$$B = \begin{pmatrix} -1 & 0 & 2 \\ 1 & -8 & 5 \\ 3 & 0 & 2 \end{pmatrix}$$

$$2.21. A = \begin{pmatrix} 2 & -1 & -4 \\ 4 & -9 & 3 \\ 2 & -7 & -1 \end{pmatrix}$$

$$B = \begin{pmatrix} 0 & 0 & 4 \\ 5 & -6 & 4 \\ 7 & -4 & 1 \end{pmatrix}$$

$$2.22. \quad A = \begin{pmatrix} 8 & 5 & -1 \\ 1 & 5 & 3 \\ 1 & 1 & 0 \end{pmatrix}, \quad B = \begin{pmatrix} 4 & -7 & -6 \\ 3 & 2 & -1 \\ 0 & 1 & 2 \end{pmatrix}$$

$$2.23. \quad A = \begin{pmatrix} 1 & 1 & -1 \\ 2 & -4 & 1 \\ 4 & -3 & 1 \end{pmatrix}, \quad B = \begin{pmatrix} 1 & 0 & -4 \\ 2 & 5 & -3 \\ 4 & -3 & 2 \end{pmatrix}$$

$$2.24. \quad A = \begin{pmatrix} 5 & -8 & -4 \\ 7 & 0 & -5 \\ 4 & 1 & 0 \end{pmatrix}, \quad B = \begin{pmatrix} 1 & 5 & 5 \\ 1 & 2 & 1 \\ 2 & -1 & -3 \end{pmatrix}$$

$$2.25. \quad A = \begin{pmatrix} 1 & 2 & 1 \\ 1 & -2 & 4 \\ 3 & -5 & 3 \end{pmatrix}, \quad B = \begin{pmatrix} 7 & 5 & 1 \\ 5 & 3 & -1 \\ 1 & 2 & 3 \end{pmatrix}$$

$$2.26. \quad A = \begin{pmatrix} -3 & 4 & 2 \\ 1 & -5 & 3 \\ 0 & 1 & 2 \end{pmatrix}, \quad B = \begin{pmatrix} 1 & 4 & 4 \\ 1 & 3 & 2 \\ -4 & 1 & 2 \end{pmatrix}$$

$$2.27. \quad A = \begin{pmatrix} -3 & 4 & 0 \\ 4 & 5 & 1 \\ -2 & 3 & 3 \end{pmatrix}, \quad B = \begin{pmatrix} 1 & 7 & -1 \\ 0 & 2 & 6 \\ 2 & -1 & 1 \end{pmatrix}$$

$$2.28. \quad A = \begin{pmatrix} -3 & 4 & -3 \\ 1 & 2 & 3 \\ 5 & 0 & -1 \end{pmatrix}, \quad B = \begin{pmatrix} 2 & -2 & 0 \\ 5 & 4 & 1 \\ 1 & -1 & 2 \end{pmatrix}$$

$$2.29. \quad A = \begin{pmatrix} -1 & 0 & 2 \\ 2 & 3 & 2 \\ 3 & 7 & 1 \end{pmatrix}, \quad B = \begin{pmatrix} 3 & 1 & 0 \\ -3 & 1 & 7 \\ 1 & 3 & 2 \end{pmatrix}$$

$$2.30. \quad A = \begin{pmatrix} 4 & 1 & -4 \\ 2 & -4 & 6 \\ 1 & 2 & -1 \end{pmatrix}, \quad B = \begin{pmatrix} 0 & -1 & 1 \\ 2 & 5 & 0 \\ 1 & -1 & 2 \end{pmatrix}$$

3. Исследовать систему уравнений на совместность и в случае совместности решить ее: а) по формулам Крамера; б) с помощью обратной матрицы (матричным методом); в) методом Гаусса.

$$3.1. \begin{cases} 2x_1 + x_2 + 3x_3 = 7, \\ 2x_1 + 3x_2 + x_3 = 1, \\ 3x_1 + 2x_2 + x_3 = 6. \end{cases}$$

$$3.2. \begin{cases} 2x_1 - x_2 + 2x_3 = 3, \\ x_1 + x_2 + 2x_3 = -4, \\ 4x_1 + x_2 + 4x_3 = -3. \end{cases}$$

$$3.3. \begin{cases} 3x_1 - x_2 + x_3 = 12, \\ x_1 + 2x_2 + 4x_3 = 6, \\ 5x_1 + x_2 + 2x_3 = 3. \end{cases}$$

$$3.4. \begin{cases} 2x_1 - x_2 + 3x_3 = -4, \\ x_1 + 3x_2 - x_3 = 11, \\ x_1 - 2x_2 + 2x_3 = -7. \end{cases}$$

$$3.5. \begin{cases} 3x_1 - 2x_2 + 4x_3 = 12, \\ 3x_1 + 4x_2 - 2x_3 = 6, \\ 2x_1 - x_2 - x_3 = -9. \end{cases}$$

$$3.6. \begin{cases} 8x_1 + 3x_2 - 6x_3 = -4, \\ x_1 + x_2 - x_3 = 2, \\ 4x_1 + x_2 - 3x_3 = -5. \end{cases}$$

$$3.7. \begin{cases} 4x_1 + x_2 - 3x_3 = 9, \\ x_1 + x_2 - x_3 = -2, \\ 8x_1 + 3x_2 - 6x_3 = 12. \end{cases}$$

$$3.8. \begin{cases} 2x_1 + 3x_2 + 4x_3 = 33, \\ 7x_1 - 5x_2 = 24, \\ 4x_1 + 11x_3 = 39. \end{cases}$$

$$3.9. \begin{cases} 2x_1 + 3x_2 + 4x_3 = 12, \\ 7x_1 - 5x_2 + x_3 = -33, \\ 4x_1 + x_3 = -7. \end{cases}$$

$$3.10. \begin{cases} x_1 + 4x_2 - x_3 = 6, \\ 5x_2 + 4x_3 = -20, \\ 3x_1 - 2x_2 + 5x_3 = -22. \end{cases}$$

$$3.11. \begin{cases} 3x_1 - 2x_2 + 4x_3 = 21, \\ 3x_1 + 4x_2 - 2x_3 = 9, \\ 2x_1 - x_2 - x_3 = 10. \end{cases}$$

$$3.12. \begin{cases} 3x_1 - 2x_2 - 5x_3 = 5, \\ 2x_1 + 3x_2 - 4x_3 = 12, \\ x_1 - 2x_2 + 3x_3 = -1. \end{cases}$$

$$3.13. \begin{cases} 4x_1 + x_2 + 4x_3 = 19, \\ 2x_1 - x_2 + 2x_3 = 11, \\ x_1 + x_2 + 2x_3 = 8. \end{cases}$$

$$3.14. \begin{cases} 2x_1 - x_2 + 2x_3 = 0, \\ 4x_1 + x_2 + 4x_3 = 6, \\ x_1 + x_2 + 2x_3 = 4. \end{cases}$$

$$3.15. \begin{cases} 2x_1 - x_2 + 2x_3 = 8, \\ x_1 + x_2 + 2x_3 = 11, \\ 4x_1 + x_2 + 4x_3 = 22 \end{cases}$$

$$3.16. \begin{cases} 2x_1 - x_2 - 3x_3 = -9, \\ x_1 + 5x_2 + x_3 = 20, \\ 3x_1 + 4x_2 + 2x_3 = 15. \end{cases}$$

$$3.17. \begin{cases} 2x_1 - x_2 - 3x_3 = 0, \\ 3x_1 + 4x_2 + 2x_3 = 1, \\ x_1 + 5x_2 + x_3 = -3. \end{cases}$$

$$3.18. \begin{cases} -3x_1 + 5x_2 + 6x_3 = -8, \\ 3x_1 + x_2 + x_3 = -4, \\ x_1 - 4x_2 - 2x_3 = -9. \end{cases}$$

$$3.19. \begin{cases} 3x_1 + x_2 + x_3 = -4, \\ -3x_1 + 5x_2 + 6x_3 = 36, \\ x_1 - 4x_2 - 2x_3 = -19. \end{cases}$$

$$3.20. \begin{cases} 3x_1 - x_2 + x_3 = -11, \\ 5x_1 + x_2 + 2x_3 = 8, \\ x_1 + 2x_2 + 4x_3 = 16. \end{cases}$$

$$3.21. \begin{cases} 3x_1 - x_2 + x_3 = 9, \\ 5x_1 + x_2 + 2x_3 = 11, \\ x_1 + 2x_2 + 4x_3 = 19. \end{cases}$$

$$3.22. \begin{cases} 2x_1 + 3x_2 + x_3 = 4, \\ 2x_1 + x_2 + 3x_3 = 0, \\ 3x_1 + 2x_2 + x_3 = 1. \end{cases}$$

$$3.23. \begin{cases} 2x_1 + 3x_2 + x_3 = 12, \\ 2x_1 + x_2 + 3x_3 = 16, \\ 3x_1 + 2x_2 + x_3 = 8. \end{cases}$$

$$3.24. \begin{cases} x_1 - 2x_2 + 3x_3 = 14, \\ 2x_1 + 3x_2 - 4x_3 = -16, \\ 3x_1 - 2x_2 - 5x_3 = -8. \end{cases}$$

$$3.25. \begin{cases} 3x_1 + 4x_2 - 2x_3 = 11, \\ 2x_1 - x_2 - x_3 = 4, \\ 3x_1 - 2x_2 + 4x_3 = 11. \end{cases}$$

$$3.26. \begin{cases} x_1 + 5x_2 - 6x_3 = -15, \\ 3x_1 + x_2 + 4x_3 = 13, \\ 2x_1 - 3x_2 + x_3 = 9. \end{cases}$$

$$3.27. \begin{cases} 4x_1 - x_2 = -6, \\ 3x_1 + 2x_2 + 5x_3 = -14, \\ x_1 - 3x_2 + 4x_3 = -19. \end{cases}$$

$$3.28. \begin{cases} 5x_1 + 2x_2 - 4x_3 = -16, \\ x_1 + 3x_3 = -6, \\ 2x_1 - 3x_2 + x_3 = 9. \end{cases}$$

$$3.29. \begin{cases} x_1 + 4x_2 - x_3 = -9, \\ 4x_1 - x_2 + 5x_3 = -2, \\ 3x_2 - 7x_3 = -6. \end{cases}$$

$$3.30. \begin{cases} 7x_1 + 4x_2 - x_3 = 13, \\ 3x_1 + 2x_2 + 3x_3 = 3, \\ 2x_1 - 3x_2 + x_3 = -10. \end{cases}$$

4. Исследовать систему уравнений на совместность и в случае совместности решить ее: а) по формулам Крамера; б) с помощью обратной матрицы (матричным методом); в) методом Гаусса.

$$4.1. \begin{cases} 3x_1 + 2x_2 - 4x_3 = 8, \\ 2x_1 + 4x_2 - 5x_3 = 11, \\ x_1 - 2x_2 + x_3 = 1. \end{cases}$$

$$4.2. \begin{cases} x_1 + x_2 + x_3 = 1, \\ x_1 - x_2 + 2x_3 = -5, \\ 2x_1 + 3x_3 = -2. \end{cases}$$

$$4.3. \begin{cases} 2x_1 - x_2 + 4x_3 = 15, \\ 3x_1 - x_2 + x_3 = 8, \\ 5x_1 - 2x_2 + 5x_3 = 0. \end{cases}$$

$$4.4. \begin{cases} 3x_1 - 3x_2 + 2x_3 = 2, \\ 4x_1 - 5x_2 + 2x_3 = 1, \\ x_1 - 2x_2 = 5. \end{cases}$$

$$4.5. \begin{cases} 3x_1 + 2x_2 - 4x_3 = 8, \\ 2x_1 + 4x_2 - 5x_3 = 1, \\ 5x_1 + 6x_2 - 9x_3 = 2. \end{cases}$$

$$4.6. \begin{cases} 3x_1 + x_2 + 2x_3 = -3, \\ 2x_1 + 2x_2 + 5x_3 = 5, \\ 5x_1 + 3x_2 + 7x_3 = 1. \end{cases}$$

$$4.7. \begin{cases} 4x_1 - 7x_2 - 2x_3 = 0, \\ 2x_1 - 3x_2 - 4x_3 = 6, \\ 2x_1 - 4x_2 + 2x_3 = 2. \end{cases}$$

$$4.8. \begin{cases} 5x_1 - 9x_2 - 4x_3 = 6, \\ x_1 - 7x_2 - 5x_3 = 1, \\ 4x_1 - 2x_2 + x_3 = 2. \end{cases}$$

$$4.9. \begin{cases} x_1 - 5x_2 + x_3 = 3, \\ 3x_1 + 2x_2 - x_3 = 7, \\ 4x_1 - 3x_2 = 1. \end{cases}$$

$$4.10. \begin{cases} 5x_1 - 5x_2 - 4x_3 = -3, \\ x_1 - x_2 + 5x_3 = 1, \\ 4x_1 - 4x_2 - 9x_3 = 0. \end{cases}$$

$$4.11. \begin{cases} 7x_1 - 2x_2 - x_3 = 2, \\ 6x_1 - 4x_2 - 5x_3 = 3, \\ x_1 + 2x_2 + 4x_3 = 5. \end{cases}$$

$$4.12. \begin{cases} 4x_1 - 3x_2 + x_3 = 3, \\ x_1 + x_2 - x_3 = 4, \\ 3x_1 - 4x_2 + 2x_3 = 2. \end{cases}$$

$$4.13. \begin{cases} 3x_1 + x_2 + 2x_3 = 1, \\ 2x_1 + 2x_2 - 3x_3 = 9, \\ x_1 - x_2 + x_3 = 2. \end{cases}$$

$$4.14. \begin{cases} 6x_1 + 3x_2 - 5x_3 = 0, \\ 9x_1 + 4x_2 - 7x_3 = 3, \\ 3x_1 + x_2 - 2x_3 = 5. \end{cases}$$

$$4.15. \begin{cases} 8x_1 - x_2 + 3x_3 = 2, \\ 4x_1 + x_2 + 6x_3 = 1, \\ 4x_1 - 2x_2 - 3x_3 = 7. \end{cases}$$

$$4.16. \begin{cases} 2x_1 + 3x_2 + 4x_3 = 5, \\ x_1 + x_2 + 5x_3 = 6, \\ 3x_1 + 4x_2 + 9x_3 = 0. \end{cases}$$

$$4.17. \begin{cases} 2x_1 - 3x_2 - 4x_3 = 1, \\ 7x_1 - 9x_2 - x_3 = 3, \\ 5x_1 - 6x_2 + 3x_3 = 7. \end{cases}$$

$$4.18. \begin{cases} 5x_1 + 6x_2 - 2x_3 = 2, \\ 2x_1 + 3x_2 - x_3 = 9, \\ 3x_1 + 3x_2 - x_3 = 1. \end{cases}$$

$$4.19. \begin{cases} 3x_1 + x_2 - 2x_3 = 6, \\ 5x_1 - 3x_2 + 2x_3 = 4, \\ -2x_1 + 5x_2 - 4x_3 = 0. \end{cases}$$

$$4.20. \begin{cases} 2x_1 + x_2 + x_3 = 2, \\ 5x_1 + x_2 + 3x_3 = 4, \\ 7x_1 + 2x_2 + 4x_3 = 1. \end{cases}$$

$$4.21. \begin{cases} x_1 - 2x_2 - 3x_3 = 3, \\ x_1 + 3x_2 - 5x_3 = 0, \\ 2x_1 + x_2 - 8x_3 = 4. \end{cases}$$

$$4.22. \begin{cases} x_1 - 4x_2 - 2x_3 = 0, \\ 3x_1 - 5x_2 - 6x_3 = 2, \\ 4x_1 - 9x_2 - 8x_3 = 1. \end{cases}$$

$$4.23. \begin{cases} 4x_1 + x_2 - 3x_3 = 1, \\ 3x_1 + x_2 - x_3 = 2, \\ x_1 - 2x_3 = 5. \end{cases}$$

$$4.24. \begin{cases} 3x_1 - 5x_2 + 3x_3 = 4, \\ x_1 + 2x_2 + x_3 = 8, \\ 2x_1 - 7x_2 + 2x_3 = 1. \end{cases}$$

$$4.25. \begin{cases} x_1 - 2x_2 + 3x_3 = 6, \\ 2x_1 + 3x_2 - 4x_3 = 2, \\ 3x_1 + x_2 - x_3 = 5. \end{cases}$$

$$4.26. \begin{cases} 5x_1 - x_2 - 2x_3 = 1, \\ 3x_1 - 4x_2 + x_3 = 7, \\ 2x_1 + 3x_2 - 3x_3 = 4. \end{cases}$$

$$4.27. \begin{cases} 2x_1 + 8x_2 - 7x_3 = 0, \\ 2x_1 - 5x_2 + 6x_3 = 1, \\ 4x_1 + 3x_2 - x_3 = 7. \end{cases}$$

$$4.28. \begin{cases} 3x_1 + 4x_2 + x_3 = 2, \\ x_1 + 5x_2 - 3x_3 = 4, \\ 2x_1 - x_2 + 4x_3 = 5. \end{cases}$$

$$4.29. \begin{cases} 2x_1 - 3x_2 + 2x_3 = 5, \\ 3x_1 + 4x_2 - 7x_3 = 2, \\ 5x_1 + x_2 - 5x_3 = 9. \end{cases}$$

$$4.30. \begin{cases} 4x_1 - 9x_2 + 5x_3 = 1, \\ 7x_1 - 4x_2 + x_3 = 11, \\ 3x_1 + 5x_2 - 4x_3 = 5. \end{cases}$$

5. Решить однородную систему линейных алгебраических уравнений.

$$5.1. \begin{cases} x_1 + x_2 + x_3 = 0, \\ 2x_1 - 3x_2 + 4x_3 = 0, \\ 4x_1 - 11x_2 + 10x_3 = 0. \end{cases}$$

$$5.2. \begin{cases} 3x_1 - x_2 + 2x_3 = 0, \\ x_1 + x_2 + x_3 = 0, \\ x_1 + 3x_2 + 3x_3 = 0. \end{cases}$$

$$5.3. \begin{cases} x_1 + 3x_2 + 2x_3 = 0, \\ 2x_1 - x_2 + 3x_3 = 0, \\ 3x_1 - 5x_2 + 4x_3 = 0. \end{cases}$$

$$5.4. \begin{cases} 4x_1 - x_2 + 10x_3 = 0, \\ x_1 + 2x_2 - x_3 = 0, \\ 2x_1 - 3x_2 + 4x_3 = 0. \end{cases}$$

$$5.5. \begin{cases} 2x_1 + 5x_2 + x_3 = 0, \\ 4x_1 + 6x_2 + 3x_3 = 0, \\ x_1 - x_2 - 2x_3 = 0. \end{cases}$$

$$5.6. \begin{cases} 3x_1 - x_2 - 3x_3 = 0, \\ 2x_1 + 3x_2 + x_3 = 0, \\ x_1 + x_2 + 3x_3 = 0. \end{cases}$$

$$5.7. \begin{cases} x_1 - x_2 + 2x_3 = 0, \\ 2x_1 + x_2 - 3x_3 = 0, \\ 3x_1 + x_2 + 2x_3 = 0. \end{cases}$$

$$5.8. \begin{cases} 2x_1 - x_2 - 5x_3 = 0, \\ x_1 + 2x_2 - 3x_3 = 0, \\ 5x_1 + x_2 + 4x_3 = 0. \end{cases}$$

$$5.9. \begin{cases} 5x_1 - 5x_2 + 4x_3 = 0, \\ 3x_1 + x_2 + 3x_3 = 0, \\ x_4 + 7x_2 - x_3 = 0. \end{cases}$$

$$5.10. \begin{cases} x_1 + 3x_2 - x_3 = 0, \\ 2x_1 + 5x_2 - 2x_3 = 0, \\ x_1 + x_2 + 5x_3 = 0. \end{cases}$$

$$5.11. \begin{cases} 2x_1 + x_2 + 3x_3 = 0, \\ 3x_1 - x_2 + 2x_3 = 0, \\ x_1 + 3x_2 + 4x_3 = 0. \end{cases}$$

$$5.12. \begin{cases} x_1 - 2x_2 - x_3 = 0, \\ 2x_1 + 3x_2 + 2x_3 = 0, \\ 3x_1 - 2x_2 + 5x_3 = 0. \end{cases}$$

$$5.13. \begin{cases} 2x_1 + x_2 - x_3 = 0, \\ 3x_1 - 2x_2 + 4x_3 = 0, \\ x_1 - 5x_2 + 3x_3 = 0. \end{cases}$$

$$5.14. \begin{cases} 4x_1 + x_2 + 3x_3 = 0, \\ 8x_1 - x_2 + 7x_3 = 0, \\ 2x_1 + 4x_2 - 5x_3 = 0. \end{cases}$$

$$5.15. \begin{cases} x_1 + 4x_2 - 3x_3 = 0, \\ 2x_1 + 5x_2 + x_3 = 0, \\ x_1 - 7x_2 + 2x_3 = 0. \end{cases}$$

$$5.16. \begin{cases} x_1 - 2x_2 + x_3 = 0, \\ 3x_1 + x_2 + 2x_3 = 0, \\ 2x_1 - 3x_2 + 5x_3 = 0. \end{cases}$$

$$5.17. \begin{cases} x_1 + 2x_2 + 3x_3 = 0, \\ 2x_1 - x_2 - x_3 = 0, \\ 3x_1 + 3x_2 + 2x_3 = 0. \end{cases}$$

$$5.18. \begin{cases} 3x_1 + 2x_2 = 0, \\ x_1 - x_2 + 2x_3 = 0, \\ 4x_1 - 2x_2 + 5x_3 = 0. \end{cases}$$

$$5.19. \begin{cases} 2x_1 - x_2 + 3x_3 = 0, \\ x_1 + 2x_2 - 5x_3 = 0, \\ 3x_1 + x_2 + x_3 = 0. \end{cases}$$

$$5.20. \begin{cases} 3x_1 + 2x_2 - x_3 = 0, \\ 2x_1 - x_2 + 3x_3 = 0, \\ 4x_1 + 3x_2 + 4x_3 = 0. \end{cases}$$

$$5.21. \begin{cases} x_1 - 3x_2 - 4x_3 = 0, \\ 5x_1 - 8x_2 - 2x_3 = 0, \\ 2x_1 + x_2 - x_3 = 0. \end{cases}$$

$$5.22. \begin{cases} 3x_1 + 5x_2 - x_3 = 0, \\ 2x_1 + 4x_2 - 3x_3 = 0, \\ x_1 - 3x_2 + x_3 = 0. \end{cases}$$

$$5.23. \begin{cases} 3x_1 - 2x_2 + x_3 = 0, \\ 2x_1 - 3x_2 + 2x_3 = 0, \\ 4x_1 + x_2 - 4x_3 = 0. \end{cases}$$

$$5.24. \begin{cases} 7x_1 + x_2 - 3x_3 = 0, \\ 3x_1 - 2x_2 + 3x_3 = 0, \\ x_1 - x_2 + 2x_3 = 0. \end{cases}$$

$$5.25. \begin{cases} x_1 + 2x_2 - 4x_3 = 0, \\ 2x_1 - x_2 - 3x_3 = 0, \\ x_1 + 3x_2 + x_3 = 0. \end{cases}$$

$$5.26. \begin{cases} 7x_1 - 6x_2 + x_3 = 0, \\ 4x_1 + 5x_2 = 0, \\ x_1 - 2x_2 + 3x_3 = 0. \end{cases}$$

$$5.27. \begin{cases} 5x_1 - 4x_2 + 2x_3 = 0, \\ 3x_2 - 2x_3 = 0, \\ 4x_1 + x_2 - 3x_3 = 0. \end{cases}$$

$$5.28. \begin{cases} 6x_1 + 5x_2 - 4x_3 = 0, \\ x_1 + x_2 - x_3 = 0, \\ 3x_1 + 4x_2 + 3x_3 = 0. \end{cases}$$

$$5.29. \begin{cases} 8x_1 + x_2 - 3x_3 = 0, \\ x_1 + 5x_2 + x_3 = 0, \\ 4x_1 - 7x_2 + 2x_3 = 0. \end{cases}$$

$$5.30. \begin{cases} x_1 + 7x_2 - 3x_3 = 0, \\ 3x_1 - 5x_2 + x_3 = 0, \\ 3x_1 + 4x_2 - 2x_3 = 0. \end{cases}$$

6. Решить однородную систему линейных алгебраических уравнений.

$$6.1. \begin{cases} 5x_1 - 3x_2 + 4x_3 = 0, \\ 3x_1 + 2x_2 - x_3 = 0, \\ 8x_1 - x_2 + 3x_3 = 0. \end{cases}$$

$$6.2. \begin{cases} 5x_1 - 6x_2 + 4x_3 = 0, \\ 3x_1 - 3x_2 + x_3 = 0, \\ 2x_1 - 3x_2 + 3x_3 = 0. \end{cases}$$

$$6.3. \begin{cases} x_1 + 2x_2 - 5x_3 = 0, \\ 2x_1 - 4x_2 + x_3 = 0, \\ 3x_1 - 2x_2 - 4x_3 = 0. \end{cases}$$

$$6.4. \begin{cases} x_1 + x_2 + x_3 = 0, \\ 2x_1 - 3x_2 + 4x_3 = 0, \\ 3x_1 - 2x_2 + 5x_3 = 0. \end{cases}$$

$$6.5. \begin{cases} x_1 + 2x_2 - 5x_3 = 0, \\ 2x_1 - 4x_2 + x_3 = 0, \\ 3x_1 - 2x_2 - 4x_3 = 0. \end{cases}$$

$$6.6. \begin{cases} 3x_1 - x_2 + x_3 = 0, \\ 2x_1 + 3x_2 - 4x_3 = 0, \\ 5x_1 + 2x_2 - 3x_3 = 0. \end{cases}$$

$$6.7. \begin{cases} x_1 - 2x_2 + x_3 = 0, \\ 3x_1 + 3x_2 + 5x_3 = 0, \\ 4x_1 + x_2 + 6x_3 = 0. \end{cases}$$

$$6.8. \begin{cases} 2x_1 + x_2 - 3x_3 = 0, \\ x_1 + 2x_2 - 4x_3 = 0, \\ x_1 - x_2 + x_3 = 0. \end{cases}$$

$$6.9. \begin{cases} 2x_1 - x_2 + 2x_3 = 0, \\ 4x_1 + x_2 + 5x_3 = 0, \\ 2x_1 + 2x_2 + 3x_3 = 0. \end{cases}$$

$$6.10. \begin{cases} 4x_1 + x_2 + 4x_3 = 0, \\ 3x_1 - 2x_2 - x_3 = 0, \\ 7x_1 - x_2 + 3x_3 = 0. \end{cases}$$

$$6.11. \begin{cases} 3x_1 - 2x_2 + x_3 = 0, \\ 2x_1 + 3x_2 - 5x_3 = 0, \\ 5x_1 + x_2 - 4x_3 = 0. \end{cases}$$

$$6.12. \begin{cases} 5x_1 + x_2 + 2x_3 = 0, \\ 3x_1 + 2x_2 - 3x_3 = 0, \\ 2x_1 - x_2 + x_3 = 0. \end{cases}$$

$$6.13. \begin{cases} x_1 + 2x_2 - 5x_3 = 0, \\ x_1 - 2x_2 - 4x_3 = 0, \\ 2x_1 - 9x_3 = 0. \end{cases}$$

$$6.14. \begin{cases} x_1 - 3x_2 + 5x_3 = 0, \\ x_1 + 2x_2 - 3x_3 = 0, \\ 2x_1 - x_2 + 2x_3 = 0. \end{cases}$$

$$6.15. \begin{cases} 2x_1 - x_2 + 2x_3 = 0, \\ 3x_1 + 2x_2 - 3x_3 = 0, \\ 5x_1 + x_2 - x_3 = 0. \end{cases}$$

$$6.16. \begin{cases} 2x_1 - x_2 + 3x_3 = 0, \\ x_1 - 3x_2 + 2x_3 = 0, \\ x_1 + 2x_2 + x_3 = 0. \end{cases}$$

$$6.17. \begin{cases} x_1 - 3x_2 - 2x_3 = 0, \\ 3x_1 - x_2 + 4x_3 = 0, \\ 2x_1 - 2x_2 + x_3 = 0. \end{cases}$$

$$6.18. \begin{cases} 5x_1 + x_2 - 2x_3 = 0, \\ 3x_1 - x_2 + x_3 = 0, \\ 2x_1 + 2x_2 - 3x_3 = 0. \end{cases}$$

$$6.19. \begin{cases} 3x_1 + 2x_2 - 3x_3 = 0, \\ 2x_1 - 3x_2 + x_3 = 0, \\ 5x_1 - x_2 - 2x_3 = 0. \end{cases}$$

$$6.20. \begin{cases} 4x_1 - x_2 + 5x_3 = 0, \\ 2x_1 - 3x_2 + 2x_3 = 0, \\ 2x_1 + 2x_2 + 3x_3 = 0. \end{cases}$$

$$6.21. \begin{cases} x_1 + 5x_2 + x_3 = 0, \\ 2x_1 - 3x_2 - 7x_3 = 0, \\ 3x_1 + 2x_2 - 6x_3 = 0. \end{cases}$$

$$6.22. \begin{cases} 3x_1 + 4x_2 - x_3 = 0, \\ x_1 - 5x_2 + 2x_3 = 0, \\ 4x_1 - x_2 + x_3 = 0. \end{cases}$$

$$6.23. \begin{cases} 2x_1 + 4x_2 - 3x_3 = 0, \\ x_1 - 3x_2 + 2x_3 = 0, \\ 3x_1 + x_2 - x_3 = 0. \end{cases}$$

$$6.24. \begin{cases} 7x_1 - 6x_2 - x_3 = 0, \\ 3x_1 - 3x_2 + 4x_3 = 0, \\ 4x_1 - 3x_2 - 5x_3 = 0. \end{cases}$$

$$6.25. \begin{cases} 5x_1 - 3x_2 + 2x_3 = 0, \\ 2x_1 + 4x_2 - 3x_3 = 0, \\ 3x_1 - 7x_2 + 5x_3 = 0. \end{cases}$$

$$6.26. \begin{cases} x_1 - 8x_2 + 7x_3 = 0, \\ 3x_1 + 5x_2 - 4x_3 = 0, \\ 4x_1 - 3x_2 + 3x_3 = 0. \end{cases}$$

$$6.27. \begin{cases} 5x_1 + 3x_2 - 5x_3 = 0, \\ 7x_1 + 5x_2 - x_3 = 0, \\ 2x_1 - 3x_2 + 4x_3 = 0. \end{cases}$$

$$6.28. \begin{cases} 5x_1 + x_2 - 6x_3 = 0, \\ 4x_1 + 3x_2 - 7x_3 = 0, \\ x_1 - 2x_2 + x_3 = 0. \end{cases}$$

$$6.29. \begin{cases} 2x_1 - x_2 + 4x_3 = 0, \\ 7x_1 - 5x_2 + 3x_3 = 0, \\ 5x_1 - 4x_2 - x_3 = 0. \end{cases}$$

$$6.30. \begin{cases} 2x_1 + 2x_2 - x_3 = 0, \\ 5x_1 + 4x_2 - 6x_3 = 0, \\ 3x_1 + 2x_2 - 5x_3 = 0. \end{cases}$$

Решение типового варианта

1. Для данного определителя

$$\Delta_4 = \begin{vmatrix} -3 & 2 & 1 & 0 \\ 2 & -2 & 1 & 4 \\ 4 & 0 & -1 & 2 \\ 3 & 1 & -1 & 4 \end{vmatrix}$$

найти миноры и алгебраические дополнения элементов a_{12} , a_{32} .
Вычислить определитель Δ_4 : а) разложив его по элементам 1-ой строки; б) разложив его по элементам 2-го столбца; в) получив предварительно нули в 1-ой строке.

Решение. Находим:

$$M_{12} = \begin{vmatrix} 2 & 1 & 4 \\ 4 & -1 & 2 \\ 3 & -1 & 4 \end{vmatrix} = -8 - 16 + 6 + 12 + 4 - 16 = -18,$$

$$M_{32} = \begin{vmatrix} -3 & 1 & 0 \\ 2 & 1 & 4 \\ 3 & -1 & 4 \end{vmatrix} = -12 + 12 - 12 - 8 = -20.$$

$$A_{12} = (-1)^{1+2} M_{12} = -(-18) = 18,$$

$$A_{32} = (-1)^{3+2} M_{32} = -(-20) = 20.$$

а) Вычислим

$$\Delta_4 = a_{11}A_{11} + a_{12}A_{12} + a_{13}A_{13} + a_{14}A_{14} =$$

$$= -3 \begin{vmatrix} -2 & 1 & 4 \\ 0 & -1 & 2 \\ 1 & -1 & 4 \end{vmatrix} - 2 \begin{vmatrix} 2 & 1 & 4 \\ 4 & -1 & 2 \\ 3 & -1 & 4 \end{vmatrix} + 1 \begin{vmatrix} 2 & -2 & 4 \\ 4 & 0 & 2 \\ 3 & 1 & 4 \end{vmatrix} =$$

$$-3(8 + 2 + 4 - 4) - 2(-8 - 16 + 6 + 12 + 4 - 16) + (16 - 12 - 4 + 32) =$$
$$= 38;$$

б) Разложим определитель по элементам 2-го столбца:

$$\Delta_4 = -2 \begin{vmatrix} 2 & 1 & 4 \\ 4 & -1 & 2 \\ 3 & -1 & 4 \end{vmatrix} - 3 \begin{vmatrix} -3 & 1 & 0 \\ 2 & 1 & 4 \\ 3 & -1 & 4 \end{vmatrix} + 1 \begin{vmatrix} -3 & 1 & 0 \\ 2 & 1 & 4 \\ 4 & -1 & 2 \end{vmatrix} =$$

$$= -2(-8 + 6 - 16 + 12 + 4 - 16) - 2(12 + 6 - 6 - 16) +$$
$$+ (-6 + 16 - 12 - 4) = 38.$$

в) Вычислим Δ_4 , получив предварительно нули в 1-ой строке:

Умножим 3-й столбец определителя на 3 и прибавим к 1-му, затем умножим на -2 и прибавим ко 2-му, тогда в 1-ой строке все элементы кроме

одного будут нулями. Разложим полученный таким образом определитель по элементам 1-ой строки и вычислим его:

$$\Delta_1 = \begin{vmatrix} -3 & 2 & 1 & 0 \\ 2 & -2 & 1 & 4 \\ 4 & 0 & -1 & 2 \\ 3 & 1 & -1 & 4 \end{vmatrix} = \begin{vmatrix} 0 & 0 & 1 & 0 \\ 5 & -4 & 1 & 4 \\ 1 & 2 & -1 & 2 \\ 0 & 3 & -1 & 4 \end{vmatrix} = \begin{vmatrix} 5 & -4 & 4 \\ 1 & 2 & 2 \\ 0 & 3 & 4 \end{vmatrix} =$$

$$= \begin{vmatrix} 0 & -14 & -6 \\ 1 & 2 & 2 \\ 0 & 3 & 4 \end{vmatrix} = -(-56 + 18) = 38.$$

2. Даны две матрицы:

$$A = \begin{pmatrix} -4 & 0 & 1 \\ 2 & -1 & 3 \\ 3 & 2 & 2 \end{pmatrix}, \quad B = \begin{pmatrix} 1 & 2 & -3 \\ 2 & 0 & 1 \\ -2 & 1 & 3 \end{pmatrix}.$$

Найти а) AB ; б) BA ; в) A^{-1} ; г) AA^{-1} ; д) $A^{-1}A$.

Решение.

а) Произведение AB имеет смысл, так как число столбцов матрицы A равно числу строк матрицы B . Находим матрицу $C = AB$, элементы которой $c_{ij} = a_{i1}b_{1j} + a_{i2}b_{2j} + a_{i3}b_{3j} + \dots + a_{in}b_{nj}$.

Имеем:

$$C = AB = \begin{pmatrix} -4 & 0 & 1 \\ 2 & -1 & 3 \\ 3 & 2 & 2 \end{pmatrix} \begin{pmatrix} 1 & 2 & -3 \\ 2 & 0 & 1 \\ -2 & 1 & 3 \end{pmatrix} =$$

$$= \begin{pmatrix} -4+0-2 & -8+0+1 & 12+0+3 \\ 2-2-6 & 4+0+3 & -6-1+9 \\ 3+4-4 & 6+0+2 & -9+2+6 \end{pmatrix} = \begin{pmatrix} -6 & -7 & 15 \\ -6 & 7 & 2 \\ 3 & 8 & -1 \end{pmatrix}.$$

б) Вычислим:

$$BA = \begin{pmatrix} 1 & 2 & -3 \\ 2 & 0 & 1 \\ -2 & 1 & 3 \end{pmatrix} \begin{pmatrix} -4 & 0 & 1 \\ 2 & -1 & 3 \\ 3 & 2 & 2 \end{pmatrix} =$$

$$= \begin{pmatrix} -4+4-9 & 0-2-6 & 1+6-6 \\ -8+0+3 & 0+0+2 & 2+0+2 \\ 8+2+9 & 0-1+6 & -2+3+6 \end{pmatrix} = \begin{pmatrix} -9 & -8 & 1 \\ -5 & 2 & 4 \\ 19 & 5 & 7 \end{pmatrix}.$$

Очевидно, что $AB \neq BA$;

в) Обратная матрица A^{-1} матрицы A имеет вид:

$$A^{-1} = \frac{1}{|A|} \begin{pmatrix} A_{11} & A_{21} & A_{31} \\ A_{12} & A_{22} & A_{32} \\ A_{13} & A_{23} & A_{33} \end{pmatrix}, \text{ где } |A| = \begin{vmatrix} -4 & 0 & 1 \\ 2 & -1 & 3 \\ 3 & 2 & 2 \end{vmatrix} = 39 \neq 0, \text{ то есть}$$

матрица A - невырожденная, и, значит, существует матрица A^{-1} .
Находим:

$$A_{11} = \begin{vmatrix} -1 & 3 \\ 2 & 2 \end{vmatrix} = -8, \quad A_{21} = -\begin{vmatrix} 0 & 1 \\ 2 & 2 \end{vmatrix} = 2, \quad A_{31} = \begin{vmatrix} 0 & 1 \\ -1 & 3 \end{vmatrix} = 1,$$

$$A_{12} = -\begin{vmatrix} 2 & 3 \\ 3 & 2 \end{vmatrix} = 5, \quad A_{22} = \begin{vmatrix} -4 & 1 \\ 3 & 2 \end{vmatrix} = -11, \quad A_{32} = -\begin{vmatrix} -4 & 1 \\ 2 & 3 \end{vmatrix} = 14,$$

$$A_{13} = \begin{vmatrix} 2 & -1 \\ 3 & 2 \end{vmatrix} = 7, \quad A_{23} = -\begin{vmatrix} -4 & 0 \\ 3 & 2 \end{vmatrix} = 8, \quad A_{33} = \begin{vmatrix} -4 & 0 \\ 2 & -1 \end{vmatrix} = 4.$$

$$\text{Тогда } A^{-1} = \frac{1}{39} \begin{pmatrix} -8 & 2 & 1 \\ 5 & -11 & 14 \\ 7 & 8 & 4 \end{pmatrix} = \begin{pmatrix} \frac{-8}{39} & \frac{2}{39} & \frac{1}{39} \\ \frac{5}{39} & \frac{-11}{39} & \frac{14}{39} \\ \frac{7}{39} & \frac{8}{39} & \frac{4}{39} \end{pmatrix}$$

г) Имеем:

$$AA^{-1} = \begin{pmatrix} -4 & 0 & 1 \\ 2 & -1 & 3 \\ 3 & 2 & 2 \end{pmatrix} \begin{pmatrix} \frac{-8}{39} & \frac{2}{39} & \frac{1}{39} \\ \frac{5}{39} & \frac{-11}{39} & \frac{14}{39} \\ \frac{7}{39} & \frac{8}{39} & \frac{4}{39} \end{pmatrix} = \begin{pmatrix} 1 & 0 & 0 \\ 0 & 1 & 0 \\ 0 & 0 & 1 \end{pmatrix} = E.$$

д) Имеем:

$$A^{-1}A = \frac{1}{39} \begin{pmatrix} -8 & 2 & 1 \\ 5 & -11 & 14 \\ 7 & 8 & 4 \end{pmatrix} \begin{pmatrix} -4 & 0 & 1 \\ 2 & -1 & 3 \\ 3 & 2 & 2 \end{pmatrix} = \begin{pmatrix} 1 & 0 & 0 \\ 0 & 1 & 0 \\ 0 & 0 & 1 \end{pmatrix},$$

то есть обратная матрица найдена верно.

3. Проверить совместность системы уравнений и в случае совместности решить ее: а) методом Крамера; б) с помощью обратной матрицы (матричным методом); в) методом Гаусса.

$$\begin{cases} x_1 + 5x_2 - x_3 = 3, \\ 2x_1 + 4x_2 - 3x_3 = 2, \\ 3x_1 - x_2 - 3x_3 = -7. \end{cases}$$

Решение. С помощью элементарных преобразований найдем ранг матрицы

$$A = \begin{pmatrix} 1 & 5 & -1 \\ 2 & 4 & -3 \\ 3 & -1 & -3 \end{pmatrix}$$

данной системы и ранг расширенной матрицы

$$B = \left(\begin{array}{ccc|c} 1 & 5 & -1 & 3 \\ 2 & 4 & -3 & 2 \\ 3 & -1 & -3 & -7 \end{array} \right)$$

Для этого умножим 1-ую строку матрицы B на -2 и сложим со второй, затем умножим 1-ую строку на -3 и сложим с третьей, поменяем местами 2-ой и 3-й столбцы.

Получим

$$B = \left(\begin{array}{ccc|c} 1 & 5 & -1 & 3 \\ 2 & 4 & -3 & 2 \\ 3 & -1 & -3 & -7 \end{array} \right) \rightarrow \left(\begin{array}{ccc|c} 1 & 5 & -1 & 3 \\ 0 & -6 & -1 & -4 \\ 0 & -16 & 0 & -16 \end{array} \right) \rightarrow \left(\begin{array}{ccc|c} 1 & -1 & 5 & 3 \\ 0 & -1 & -6 & -4 \\ 0 & 0 & -16 & -16 \end{array} \right)$$

Следовательно, $\text{rang } A = \text{rang } B = 3$ (т.е. числу неизвестных). Значит исходная система совместна и имеет единственное решение.

а) По формулам Крамера

$$x_1 = \frac{\Delta_1}{\Delta}, \quad x_2 = \frac{\Delta_2}{\Delta}, \quad x_3 = \frac{\Delta_3}{\Delta},$$

$$\Delta = \begin{vmatrix} 1 & 5 & -1 \\ 2 & 4 & 3 \\ 3 & -1 & -3 \end{vmatrix} = -16;$$

$$\Delta_1 = \begin{vmatrix} 3 & 5 & -1 \\ 2 & 4 & -3 \\ -7 & -1 & -3 \end{vmatrix} = 64; \quad \Delta_2 = \begin{vmatrix} 1 & 3 & -1 \\ 2 & 2 & -3 \\ 3 & -7 & 3 \end{vmatrix} = -16;$$

$$\Delta_3 = \begin{vmatrix} 1 & 5 & 3 \\ 2 & 4 & 2 \\ 3 & -1 & -7 \end{vmatrix} = 32 \quad \text{находим}$$

$$x_1 = 64/(-16) = -4; \quad x_2 = -16/(-16) = 1; \quad x_3 = 32/(-16) = -2;$$

б) запишем систему уравнений в матричной форме: $AX = \bar{B}$. Решение системы в матричной форме имеет вид $X = A^{-1}\bar{B}$.

$$A^{-1} = -\frac{1}{16} \begin{pmatrix} -15 & 16 & -11 \\ -3 & 0 & 1 \\ -14 & 16 & -6 \end{pmatrix} \quad (\text{задача 26})$$

Решение системы:

$$X = \begin{pmatrix} x_1 \\ x_2 \\ x_3 \end{pmatrix} = -\frac{1}{16} \begin{pmatrix} -15 & 16 & -11 \\ -3 & 0 & 1 \\ -14 & 16 & -6 \end{pmatrix} \begin{pmatrix} 3 \\ 2 \\ 7 \end{pmatrix} = \begin{pmatrix} -4 \\ 1 \\ -2 \end{pmatrix}$$

Итак, $x_1 = -4$, $x_2 = 1$, $x_3 = -2$.

4. Дана система
$$\begin{cases} 2x_1 - 3x_2 + x_3 = 2, \\ 3x_1 + x_2 - 3x_3 = 1, \\ 5x_1 - 2x_2 - 2x_3 = 4. \end{cases}$$

Проверить, совместна ли эта система, и в случае совместности решить ее.

Решение.

В расширенной матрице $B = \left(\begin{array}{ccc|c} 2 & -3 & 1 & 2 \\ 3 & 1 & -3 & 1 \\ 5 & -2 & -2 & 4 \end{array} \right)$ меняем 3-й и 1-й столбцы

местами, умножаем 1-ую строку на 3 и прибавляем к 2-ой, умножаем 1-ую строку на 2 и прибавляем к 3-ей, из 2-ой строки вычитаем 3-ю:

$$B = \left(\begin{array}{ccc|c} 2 & -3 & 1 & 2 \\ 3 & 1 & -3 & 1 \\ 5 & -2 & -2 & 4 \end{array} \right) \rightarrow \left(\begin{array}{ccc|c} 1 & -3 & 2 & 2 \\ -3 & 1 & 3 & 1 \\ -2 & -2 & 5 & 4 \end{array} \right) \rightarrow \left(\begin{array}{ccc|c} 1 & -3 & 2 & 2 \\ 0 & -8 & 9 & 7 \\ 0 & -8 & 9 & 8 \end{array} \right) \rightarrow$$

$$\rightarrow \left(\begin{array}{ccc|c} 1 & -3 & 2 & 2 \\ 0 & -8 & 9 & 7 \\ 0 & 0 & 0 & 1 \end{array} \right)$$

Ясно, что $\text{rang } A = 2$, $\text{rang } B = 3$. Так как $\text{rang } A \neq \text{rang } B$, то система несовместна.

5. Решить однородную систему линейных алгебраических уравнений

$$\begin{cases} 2x_1 - 4x_2 + 5x_3 = 0, \\ x_1 + 2x_2 - 3x_3 = 0, \\ 3x_1 - x_2 + 2x_3 = 0. \end{cases}$$

Решение.

Определитель системы

$$\Delta = \begin{vmatrix} 2 & -4 & 5 \\ 1 & 2 & -3 \\ 3 & -1 & 2 \end{vmatrix} = 11 \neq 0,$$

поэтому система имеет единственное нулевое решение: $x_1 = x_2 = x_3 = 0$.

6. Решить однородную систему линейных алгебраических уравнений

$$\begin{cases} 3x_1 + 4x_2 - x_3 = 0, \\ x_1 - 3x_2 + 5x_3 = 0, \\ 4x_1 + x_2 + 4x_3 = 0. \end{cases}$$

Решение.

Так как $\Delta = \begin{vmatrix} 3 & 4 & -1 \\ 1 & -3 & 5 \\ 4 & 1 & 4 \end{vmatrix} = 0$, то система имеет бесконечно много решений.

Так как $\text{rang } A=2$, $n=3$, то исходная система равносильна, например, системе $\begin{cases} 3x_1 + 4x_2 - x_3 = 0, \\ x_1 - 3x_2 + 5x_3 = 0. \end{cases}$

Так как определитель из коэффициентов при неизвестных x_1 и x_2 не равен 0, то в качестве базисных возьмем x_1 и x_2 (хотя можно брать и другие пары неизвестных), а x_3 – свободное неизвестное. Перенесем члены с x_3 в правые части уравнений:

$$\begin{cases} 3x_1 + 4x_2 = x_3, \\ x_1 - 3x_2 = -5x_3. \end{cases}$$

Решаем последнюю систему по формулам Крамера:

$$x_1 = \frac{\Delta_1}{\Delta}, \quad x_2 = \frac{\Delta_2}{\Delta}, \quad \text{где}$$

$$\Delta = \begin{vmatrix} 3 & 4 \\ 1 & -3 \end{vmatrix} = -9 - 4 = -13;$$

$$\Delta_1 = \begin{vmatrix} x_3 & 4 \\ -5x_3 & -3 \end{vmatrix} = 17x_3; \quad \Delta_2 = \begin{vmatrix} 3 & x_3 \\ 1 & -5x_3 \end{vmatrix} = -16x_3.$$

Отсюда находим, что

$$x_1 = -\frac{17x_3}{13}, \quad x_2 = \frac{16x_3}{13}.$$

Полагая $x_3=13u$, где u – произвольное число, получаем решение исходной системы:

$$x_1 = -17u, \quad x_2 = 16u, \quad x_3 = 13u.$$

Контрольная работа №2

Задача №1

Даны векторы $\vec{a} = \alpha \vec{m} + \beta \vec{n}$,
 $\vec{b} = \gamma \vec{m} + \delta \vec{n}$.

Где $|\vec{m}| = k$, $|\vec{n}| = l$; $(\vec{m}, \vec{n}) = \varphi$.

Найти;

1) $(\lambda \vec{a} + \mu \vec{b}) * (\nu \vec{a} + \tau \vec{b})$

2) $\text{пр}_{\vec{b}}(\nu \vec{a} + \tau \vec{b})$

3) $\text{Cos}(\vec{a}, \vec{b})$.

1.1

$\alpha = -5$, $\beta = -4$, $\gamma = 3$, $\delta = 6$, $\kappa = 3$, $l = 5$, $\varphi = \frac{5\pi}{3}$, $\lambda = -2$, $\mu = \frac{1}{3}$, $\nu = 1$, $\tau = 2$

1.2

$\alpha = -2$, $\beta = 3$, $\gamma = 3$, $\delta = -1$, $\kappa = 1$, $l = 5$, $\varphi = \pi$, $\lambda = 3$, $\mu = 2$, $\nu = -2$, $\tau = 4$

1.3

$\alpha = 5$, $\beta = -2$, $\gamma = -3$, $\delta = -1$, $\kappa = 4$, $l = 5$, $\varphi = \frac{4\pi}{3}$, $\lambda = 2$, $\mu = 3$, $\nu = -1$, $\tau = 5$

1.4

$\alpha = 5$, $\beta = 2$, $\gamma = -6$, $\delta = -4$, $\kappa = 3$, $l = 2$, $\varphi = \frac{5\pi}{3}$, $\lambda = -1$, $\mu = \frac{1}{2}$, $\nu = 2$, $\tau = 3$

1.5

$\alpha = 3$, $\beta = -2$, $\gamma = -4$, $\delta = 5$, $\kappa = 2$, $l = 3$, $\varphi = \frac{\pi}{3}$, $\lambda = 2$, $\mu = -3$, $\nu = 5$, $\tau = 1$

1.6

$\alpha = 2$, $\beta = -5$, $\gamma = -3$, $\delta = 4$, $\kappa = 2$, $l = 4$, $\varphi = \frac{2\pi}{3}$, $\lambda = 3$, $\mu = -4$, $\nu = 2$, $\tau = 3$

1.7

$\alpha = 3$, $\beta = 2$, $\gamma = -4$, $\delta = -2$, $\kappa = 2$, $l = 5$, $\varphi = \frac{4\pi}{3}$, $\lambda = 1$, $\mu = -3$, $\nu = 0$, $\tau = -\frac{1}{2}$

1.8

$\alpha = 5$, $\beta = 2$, $\gamma = 1$, $\delta = -4$, $\kappa = 3$, $l = 2$, $\varphi = \pi$, $\lambda = 1$, $\mu = -2$, $\nu = 3$, $\tau = -4$

1.9

$\alpha = -3$, $\beta = -2$, $\gamma = 1$, $\delta = 5$, $\kappa = 3$, $l = 6$, $\varphi = \frac{4\pi}{3}$, $\lambda = -1$, $\mu = 2$, $\nu = 1$, $\tau = 1$

1.10

$\alpha = 5$, $\beta = -3$, $\gamma = 4$, $\delta = 2$, $\kappa = 4$, $l = 1$, $\varphi = \frac{2\pi}{3}$, $\lambda = 2$, $\mu = -\frac{1}{2}$, $\nu = 3$, $\tau = 0$

1.11

$\alpha = -2$, $\beta = 3$, $\gamma = 3$, $\delta = -6$, $\kappa = 6$, $l = 3$, $\varphi = \frac{5\pi}{3}$, $\lambda = 3$, $\mu = -\frac{1}{3}$, $\nu = 1$, $\tau = 2$

1.12

$\alpha = -2$, $\beta = -4$, $\gamma = 3$, $\delta = 1$, $\kappa = 3$, $l = 2$, $\varphi = \frac{7\pi}{3}$, $\lambda = -\frac{1}{2}$, $\mu = 3$, $\nu = 1$, $\tau = 2$

1.13

$$\alpha=4, \beta=3, \gamma=-1, \delta=2, \kappa=4, l=5, \varphi=\frac{3\pi}{2}, \lambda=2, \mu=-3, \nu=1, \tau=2$$

1.14

$$\alpha=-2, \beta=3, \gamma=5, \delta=1, \kappa=2, l=5, \varphi=2\pi, \lambda=-3, \mu=4, \nu=2, \tau=3$$

1.15

$$\alpha=4, \beta=-3, \gamma=5, \delta=2, \kappa=4, l=7, \varphi=\frac{4\pi}{3}, \lambda=-3, \mu=2, \nu=2, \tau=-1$$

1.16

$$\alpha=-5, \beta=3, \gamma=2, \delta=4, \kappa=5, l=4, \varphi=\pi, \lambda=-3, \mu=\frac{1}{2}, \nu=-1, \tau=1$$

1.17

$$\alpha=5, \beta=-2, \gamma=3, \delta=4, \kappa=2, l=5, \varphi=\frac{\pi}{2}, \lambda=2, \mu=3, \nu=1, \tau=-2$$

1.18

$$\alpha=7, \beta=-3, \gamma=2, \delta=6, \kappa=3, l=4, \varphi=\frac{5\pi}{3}, \lambda=3, \mu=-\frac{1}{2}, \nu=2, \tau=1$$

1.19

$$\alpha=4, \beta=-5, \gamma=-1, \delta=3, \kappa=6, l=3, \varphi=\frac{2\pi}{3}, \lambda=2, \mu=-5, \nu=1, \tau=2$$

1.20

$$\alpha=3, \beta=-5, \gamma=-2, \delta=3, \kappa=1, l=6, \varphi=\frac{3\pi}{2}, \lambda=2, \mu=5, \nu=1, \tau=-2$$

1.21

$$\alpha=-5, \beta=-6, \gamma=2, \delta=7, \kappa=2, l=7, \varphi=\pi, \lambda=-2, \mu=5, \nu=1, \tau=3$$

1.22

$$\alpha=-7, \beta=2, \gamma=4, \delta=6, \kappa=2, l=9, \varphi=\frac{\pi}{3}, \lambda=1, \mu=2, \nu=-1, \tau=3$$

1.23

$$\alpha=5, \beta=4, \gamma=-6, \delta=2, \kappa=2, l=9, \varphi=\frac{2\pi}{3}, \lambda=3, \mu=2, \nu=1, \tau=-\frac{1}{2}$$

1.24

$$\alpha=-5, \beta=-7, \gamma=-3, \delta=2, \kappa=2, l=11, \varphi=\frac{3\pi}{2}, \lambda=-3, \mu=4, \nu=-1, \tau=2$$

1.25

$$\alpha=5, \beta=-8, \gamma=-2, \delta=3, \kappa=4, l=3, \varphi=\frac{4\pi}{3}, \lambda=2, \mu=-3, \nu=1, \tau=2$$

1.26

$$\alpha=-3, \beta=5, \gamma=1, \delta=7, \kappa=4, l=6, \varphi=\frac{5\pi}{3}, \lambda=-2, \mu=3, \nu=3, \tau=-2$$

1.27

$$\alpha=-3, \beta=4, \gamma=5, \delta=-6, \kappa=4, l=5, \varphi=\pi, \lambda=2, \mu=3, \nu=-3, \tau=-1$$

1.28

$$\alpha=6, \beta=-7, \gamma=-1, \delta=-3, \kappa=2, l=6, \varphi=\frac{4\pi}{3}, \lambda=3, \mu=-2, \nu=1, \tau=4$$

1.29

$$\alpha=5, \beta=3, \gamma=-4, \delta=-2, \kappa=6, l=3, \varphi=\frac{5\pi}{3}, \lambda=-2, \mu=-\frac{1}{2}, \nu=3, \tau=2$$

1.30

$$\alpha=4, \beta=-3, \gamma=-2, \delta=6, \kappa=4, l=7, \varphi=\pi/3, \lambda=2, \mu=-1/2, \nu=3, \tau=2$$

Задача №2

По координатам точек А,В,С для указанных векторов найти:

А) модуль вектора \vec{a} ;Б) скалярное произведение векторов \vec{a} и \vec{b} ;В) $np_{\vec{a}}\vec{c}$;Г) координаты точки М, делящей отрезок l в отношении $\alpha : \beta$

2.1 $A(4,6,3), B(-5,2,6), C(4,-4,-3), \vec{a} = 4\vec{CB} - \vec{AC}, \vec{b} = \vec{AB}, \vec{c} = \vec{CB}, \vec{d} = \vec{AC},$

$$l = \vec{AB}, \alpha = 5, \beta = 4$$

2.2 $A(4,3,-2), B(-3,-1,4), C(2,2,1), \vec{a} = -5\vec{AC} + 2\vec{CB}, \vec{b} = \vec{AB}, \vec{c} = \vec{AC}, \vec{d} = \vec{CD},$

$$l = \vec{BC}, \alpha = 2, \beta = 3$$

2.3 $A(-2,-2,4), B(1,3,-2), C(1,4,2), \vec{a} = 2\vec{AC} - 3\vec{BA}, \vec{b} = \vec{BC}, \vec{c} = \vec{BC}, \vec{d} = \vec{AC},$

$$l = \vec{BA}, \alpha = 2, \beta = 1$$

2.4 $A(2,4,3), B(3,1,-4), C(-1,2,2), \vec{a} = 2\vec{BA} + 4\vec{AC}, \vec{b} = \vec{BA}, \vec{c} = \vec{b}, \vec{d} = \vec{AC},$

$$l = \vec{BA}, \alpha = 1, \beta = 4$$

2.5 $A(2,4,5), B(1,-2,3), C(-1,-2,4), \vec{a} = 3\vec{AB} - 4\vec{AC}, \vec{b} = \vec{BC}, \vec{c} = \vec{b}, \vec{d} = \vec{AB},$

$$l = \vec{AB}, \alpha = 2, \beta = 3$$

2.6 $A(-1,-2,4), B(-1,3,4), C(1,4,2), \vec{a} = 3\vec{AC} - 7\vec{BC}, \vec{b} = \vec{AB}, \vec{c} = \vec{b}, \vec{d} = \vec{AC},$

$$l = \vec{AC}, \alpha = 1, \beta = 7$$

2.7 $A(1,3,2), B(-2,4,-1), C(1,3,-2), \vec{a} = 2\vec{AB} + 5\vec{CB}, \vec{b} = \vec{AC}, \vec{c} = \vec{b}, \vec{d} = \vec{AB},$

$$l = \vec{AB}, \alpha = 2, \beta = 4$$

2.8 $A(2,-4,3), B(-3,-2,4), C(0,0,-2), \vec{a} = 3\vec{AC} - 4\vec{CB}, \vec{b} = \vec{c} = \vec{BA}, \vec{d} = \vec{AB},$

$$l = \vec{AC}, \alpha = 2, \beta = 1$$

2.9 $A(3,4,-4), B(-2,1,2), C(2,-3,1), \vec{a} = 5\vec{CB} + 4\vec{AC}, \vec{b} = \vec{c} = \vec{AB}, \vec{d} = \vec{AC},$

$$l = \vec{AC}, \alpha = 2, \beta = 5$$

2.10 $A(0,2,5), B(2,-3,4), C(3,2,-5), \vec{a} = -3\vec{AB} + 4\vec{CB}, \vec{b} = \vec{c} = \vec{AC}, \vec{d} = \vec{BC},$

$$l = \vec{AC}, \alpha = 3, \beta = 2$$

2.11 $A(-2,-3,-4), B(2,-4,0), C(1,4,5), \vec{a} = 4\vec{AC} - 8\vec{BC}, \vec{b} = \vec{c} = \vec{AB}, \vec{d} = \vec{BC},$

$$l = \vec{AB}, \alpha = 4, \beta = 2$$

2.12 $A(-2,-3,-2), B(1,4,2), C(1,-3,3), \vec{a} = 2\vec{AC} - 4\vec{BC}, \vec{b} = \vec{c} = \vec{AB}, \vec{d} = \vec{AC},$

$$l = \vec{BC}, \alpha = 3, \beta = 1$$

- 2.13A(5,6,1), B(-2,4,-1), C(3,-3,3), $\bar{a} = 3\overline{AB} - 4\overline{BC}$, $\bar{b} = \bar{c} = \overline{AC}$, $\bar{d} = \overline{AB}$,
 $l = \overline{BC}$, $\alpha = 3$, $\beta = 2$
- 2.14A(10,6,3), B(-2,4,5), C(3,-4,-6), $\bar{a} = 5\overline{AC} - 2\overline{CB}$, $\bar{b} = \bar{c} = \overline{BA}$, $\bar{d} = \overline{AC}$,
 $l = \overline{CB}$, $\alpha = 1$, $\beta = 5$
- 2.15A(3,2,4), B(-2,1,3), C(2,-2,-1), $\bar{a} = 4\overline{BC} - 3\overline{AC}$, $\bar{b} = \overline{BA}$, $\bar{c} = \overline{BC}$, $\bar{d} = \overline{BC}$,
 $l = \overline{AC}$, $\alpha = 2$, $\beta = 4$
- 2.16A(-2,3,-4), B(3,-1,2), C(4,2,4), $\bar{a} = 7\overline{AC} + 4\overline{CB}$, $\bar{b} = \bar{c} = \overline{AB}$, $\bar{d} = \overline{CB}$,
 $l = \overline{AB}$, $\alpha = 2$, $\beta = 5$
- 2.17A(4,5,3), B(-4,2,3), C(5,-6,-2), $\bar{a} = 9\overline{AB} - 4\overline{BC}$, $\bar{b} = \bar{c} = \overline{AC}$, $\bar{d} = \overline{AB}$,
 $l = \overline{BC}$, $\alpha = 5$, $\beta = 1$
- 2.18A(2,4,6), B(-3,5,1), C(4,-5,-4), $\bar{a} = -6\overline{BC} + 2\overline{BA}$, $\bar{b} = \bar{c} = \overline{CA}$, $\bar{d} = \overline{BA}$,
 $l = \overline{BC}$, $\alpha = 1$, $\beta = 3$
- 2.19A(-4,-2,-5), B(3,7,2), C(4,6,-3), $\bar{a} = 9\overline{BA} + 3\overline{BC}$, $\bar{b} = \bar{c} = \overline{AC}$, $\bar{d} = \overline{BC}$,
 $l = \overline{BA}$, $\alpha = 4$, $\beta = 3$
- 2.20A(5,4,4), B(-5,2,3), C(4,2,-5), $\bar{a} = 11\overline{AC} - 6\overline{AB}$, $\bar{b} = \overline{BC}$, $\bar{c} = \overline{AB}$, $\bar{d} = \overline{AC}$,
 $l = \overline{BC}$, $\alpha = 3$, $\beta = 1$
- 2.21A(3,4,6), B(-4,6,4), C(5,-2,-3), $\bar{a} = -7\overline{BC} + 4\overline{CA}$, $\bar{b} = \overline{BA}$, $\bar{c} = \overline{CA}$, $\bar{d} = \overline{BC}$,
 $l = \overline{BA}$, $\alpha = 5$, $\beta = 3$
- 2.22A(-5,-2,-6), B(3,4,5), C(2,-5,4), $\bar{a} = 8\overline{AC} - 5\overline{BC}$, $\bar{b} = \bar{c} = \overline{AB}$, $\bar{d} = \overline{BC}$,
 $l = \overline{AC}$, $\alpha = 3$, $\beta = 4$
- 2.23A(3,4,1), B(5,-2,6), C(4,2,-7), $\bar{a} = -7\overline{AC} + 5\overline{AB}$, $\bar{b} = \bar{c} = \overline{BC}$, $\bar{d} = \overline{AC}$,
 $l = \overline{AB}$, $\alpha = 2$, $\beta = 3$
- 2.24A(4,3,2), B(-4,-3,5), C(6,4,-3), $\bar{a} = 8\overline{AC} - 5\overline{BC}$, $\bar{b} = \bar{c} = \overline{BA}$, $\bar{d} = \overline{AC}$,
 $l = \overline{BC}$, $\alpha = 2$, $\beta = 5$
- 2.25A(-5,4,3), B(4,5,2), C(2,7,-4), $\bar{a} = 3\overline{BC} + 2\overline{AB}$, $\bar{b} = \bar{c} = \overline{CA}$, $\bar{d} = \overline{AB}$,
 $l = \overline{BC}$, $\alpha = 3$, $\beta = 4$
- 2.26A(6,4,5), B(-7,1,8), C(2,-2,-7), $\bar{a} = 5\overline{CB} - 2\overline{AC}$, $\bar{b} = \overline{AB}$, $\bar{c} = \overline{CB}$, $\bar{d} = \overline{AC}$,
 $l = \overline{AB}$, $\alpha = 3$, $\beta = 2$
- 2.27A(6,5,-4), B(-5,-2,2), C(3,3,2), $\bar{a} = 6\overline{AB} - 3\overline{CB}$, $\bar{b} = \bar{c} = \overline{AC}$, $\bar{d} = \overline{CB}$,
 $l = \overline{BC}$, $\alpha = 1$, $\beta = 5$

$$2.28A(-3, -5, 6), B(3, 5, -4), C(2, 6, 4), \bar{a} = 4\overline{AC} - 5\overline{BA}, \bar{b} = \overline{CB}, \bar{c} = \overline{BA}, \bar{d} = \overline{AC},$$

$$l = \overline{BA}, \alpha = 4, \beta = 2$$

$$2.29A(3, 5, 4), B(4, 2, -3), C(-2, 4, 7), \bar{a} = 3\overline{BA} - 4\overline{AC}, \bar{b} = \overline{AB}, \bar{c} = \overline{BA}, \bar{d} = \overline{AC},$$

$$l = \overline{BA}, \alpha = 2, \beta = 5$$

$$2.30A(4, 6, 7), B(2, -4, 1), C(-3, -4, 2), \bar{a} = 5\overline{AB} - 2\overline{AC}, \bar{b} = \bar{c} = \overline{BC}, \bar{d} = \overline{AB},$$

$$l = \overline{AB}, \alpha = 3, \beta = 4$$

Задача №3

Доказать, что векторы $\bar{A}, \bar{B}, \bar{C}$ образуют базис, и найти координаты вектора \bar{D} в этом базисе.

$$3.1 \bar{a} = (5, 4, 1), \bar{b} = (-3, 5, 2), \bar{c} = (2, -1, 3), \bar{d} = (7, 23, 4)$$

$$3.2 \bar{a} = (2, -1, 4), \bar{b} = (-3, 0, -2), \bar{c} = (4, 5, -3), \bar{d} = (0, 11, -14)$$

$$3.3 \bar{a} = (-1, 1, 2), \bar{b} = (2, -3, -5), \bar{c} = (-6, 3, -1), \bar{d} = (28, 19, -7)$$

$$3.4 \bar{a} = (1, 3, 4), \bar{b} = (-2, 5, 0), \bar{c} = (3, -2, -4), \bar{d} = (13, -5, -4)$$

$$3.5 \bar{a} = (1, -1, 1), \bar{b} = (-5, -3, 1), \bar{c} = (2, -1, 0), \bar{d} = (-15, -10, 5)$$

$$3.6 \bar{a} = (3, 1, 2), \bar{b} = (-7, -2, -4), \bar{c} = (-4, 0, 3), \bar{d} = (16, 6, 15)$$

$$3.7 \bar{a} = (-3, 0, 1), \bar{b} = (2, 7, -3), \bar{c} = (-4, 3, 5), \bar{d} = (-16, 33, 13)$$

$$3.8 \bar{a} = (5, 1, 2), \bar{b} = (-2, 1, -3), \bar{c} = (4, -3, 5), \bar{d} = (15, -15, 24)$$

$$3.9 \bar{a} = (0, 2, -3), \bar{b} = (4, -3, -2), \bar{c} = (-5, -4, 0), \bar{d} = (-19, -5, -4)$$

$$3.10 \bar{a} = (3, -1, 2), \bar{b} = (-2, 3, 1), \bar{c} = (4, -5, -3), \bar{d} = (-3, 2, -3)$$

$$3.11 \bar{a} = (5, 3, 1), \bar{b} = (1, 2, -3), \bar{c} = (3, -4, 2), \bar{d} = (-9, 34, -20)$$

$$3.12 \bar{a} = (3, 1, -3), \bar{b} = (-2, 4, 1), \bar{c} = (1, -2, 5), \bar{d} = (1, 12, -20)$$

$$3.13 \bar{a} = (6, 1, -3), \bar{b} = (-3, 2, 1), \bar{c} = (-1, -3, 4), \bar{d} = (15, 6, -17)$$

$$3.14 \bar{a} = (4, 2, 3), \bar{b} = (-3, 1, -8), \bar{c} = (2, -4, 5), \bar{d} = (-12, 14, -31)$$

$$3.15 \bar{a} = (-2, 1, 3), \bar{b} = (3, -6, 2), \bar{c} = (-5, -3, -1), \bar{d} = (31, -6, 22)$$

$$3.16 \bar{a} = (1, 3, 6), \bar{b} = (-3, 4, -5), \bar{c} = (1, -7, 2), \bar{d} = (-2, 17, 5)$$

$$3.17 \bar{a} = (7, 2, 1), \bar{b} = (5, 1, -2), \bar{c} = (-3, 4, 5), \bar{d} = (26, 11, 1)$$

$$3.18 \bar{a} = (3, 5, 4), \bar{b} = (-2, 7, -5), \bar{c} = (6, -2, 1), \bar{d} = (6, -9, 22)$$

$$3.19 \bar{a} = (5, 3, 2), \bar{b} = (2, -5, 1), \bar{c} = (-7, 4, -3), \bar{d} = (36, 1, 15)$$

$$3.20 \bar{a} = (11, 1, 2), \bar{b} = (-3, 3, 4), \bar{c} = (-4, -2, 7), \bar{d} = (-5, 11, -15)$$

$$3.21 \bar{a} = (9, 5, 3), \bar{b} = (-3, 2, 1), \bar{c} = (4, -7, 4), \bar{d} = (-10, -13, 8)$$

$$3.22 \bar{a} = (7, 2, 1), \bar{b} = (3, -5, 6), \bar{c} = (-4, 3, -4), \bar{d} = (-1, 18, -16)$$

$$3.23 \bar{a} = (1, 2, 3), \bar{b} = (-5, 3, -1), \bar{c} = (-6, 4, 5), \bar{d} = (-4, 11, 20)$$

$$3.24 \bar{a} = (-2, 5, 1), \bar{b} = (3, 2, -7), \bar{c} = (4, -3, 2), \bar{d} = (-4, 22, -13)$$

$$3.25 \bar{a} = (3, 1, 2), \bar{b} = (-4, 3, -1), \bar{c} = (2, 3, 4), \bar{d} = (14, 14, 20)$$

$$3.26 \bar{a} = (3, -1, 2), \bar{b} = (-2, 4, 1), \bar{c} = (4, -5, -1), \bar{d} = (-5, 11, 1)$$

$$3.27 \bar{a} = (4, 5, 1), \bar{b} = (1, 3, 1), \bar{c} = (-3, -6, 7), \bar{d} = (19, 33, 0)$$

$$3.28 \bar{a} = (1, -3, 1), \bar{b} = (-2, -4, 3), \bar{c} = (0, -2, 3), \bar{d} = (-8, -10, 13)$$

$$3.29 \bar{a} = (5, 7, -2), \bar{b} = (-3, 1, 3), \bar{c} = (1, -4, 6), \bar{d} = (14, 9, -1)$$

$$3.30 \bar{a} = (-1, 4, 3), \bar{b} = (3, 2, -4), \bar{c} = (-2, -7, 1), \bar{d} = (6, 20, -3)$$

Задача №4

Даны векторы $\vec{a}, \vec{b}, \vec{c}$. Требуется:

- вычислить смешанное произведение трех векторов;
- найти модуль векторного произведения;
- вычислить скалярное произведение двух векторов;
- проверить, будут ли коллинеарны или ортогональны два вектора;
- проверить, будут ли компланарны три вектора.

4.1 $\vec{a} = 2\vec{i} - 3\vec{j} + \vec{k}; \vec{b} = \vec{j} + 4\vec{k}; \vec{c} = 5\vec{i} + 2\vec{j} - 3\vec{k};$

- a) $\vec{a}, 3\vec{b}, \vec{c}$ b) $3\vec{a}, 2\vec{c}$ c) $\vec{b}, -4\vec{c}$ d) \vec{a}, \vec{c} e) $\vec{a}, 2\vec{b}, 3\vec{c}$

4.2 $\vec{a} = 3\vec{i} + 4\vec{j} + \vec{k}; \vec{b} = \vec{i} - 2\vec{j} + 7\vec{k}; \vec{c} = 3\vec{i} - 6\vec{j} + 21\vec{k};$

- a) $5\vec{a}, 2\vec{b}, \vec{c}$ b) $4\vec{b}, 2\vec{c}$ c) \vec{a}, \vec{c} d) \vec{b}, \vec{c} e) $2\vec{a}, -3\vec{b}, \vec{c}$

4.3 $\vec{a} = 2\vec{i} - 4\vec{j} - 2\vec{k}; \vec{b} = 7\vec{i} + 2\vec{j}; \vec{c} = 3\vec{i} + 5\vec{j} - 7\vec{k};$

- a) $\vec{a}, 2\vec{b}, 3\vec{c}$ b) $3\vec{a}, -7\vec{b}$ c) $\vec{c}, -2\vec{a}$ d) \vec{a}, \vec{c} e) $3\vec{a}, 2\vec{b}, 3\vec{c}$

4.4 $\vec{a} = -7\vec{i} + 2\vec{k}; \vec{b} = 2\vec{i} - 6\vec{j} + 4\vec{k}; \vec{c} = \vec{i} - 3\vec{j} + 2\vec{k};$

- a) $\vec{a}, -2\vec{b}, -7\vec{c}$ b) $4\vec{b}, 3\vec{c}$ c) $2\vec{a}, -7\vec{c}$ d) \vec{b}, \vec{c} e) $2\vec{a}, 4\vec{b}, 3\vec{c}$

4.5 $\vec{a} = -4\vec{i} + 2\vec{j} - \vec{k}; \vec{b} = 3\vec{i} + 6\vec{j} - 4\vec{k}; \vec{c} = \vec{j} + 5\vec{k};$

- a) $\vec{a}, 6\vec{b}, 3\vec{c}$ b) $2\vec{b}, \vec{a}$ c) $\vec{a}, -4\vec{c}$ d) \vec{a}, \vec{b} e) $\vec{a}, 6\vec{b}, 3\vec{c}$

4.6 $\vec{a} = 3\vec{i} - 2\vec{j} + \vec{k}; \vec{b} = 2\vec{j} - 3\vec{k}; \vec{c} = -3\vec{i} + 2\vec{j} - \vec{k};$

- a) $\vec{a}, -3\vec{b}, 2\vec{c}$ b) $5\vec{a}, 3\vec{c}$ c) $-2\vec{a}, 4\vec{b}$ d) \vec{a}, \vec{c} e) $5\vec{a}, 4\vec{b}, 3\vec{c}$

4.7 $\vec{a} = 4\vec{i} - \vec{j} + 3\vec{k}; \vec{b} = 2\vec{i} + 3\vec{j} - 5\vec{k}; \vec{c} = 7\vec{i} + 2\vec{j} + 4\vec{k};$

- a) $7\vec{a}, -4\vec{b}, 3\vec{c}$ b) $3\vec{a}, 5\vec{c}, \vec{b}$ c) $2\vec{b}, 4\vec{c}$ d) \vec{b}, \vec{c} e) $7\vec{a}, 2\vec{b}, 5\vec{c}$

4.8 $\vec{a} = 4\vec{i} + 2\vec{j} - 3\vec{k}; \vec{b} = 2\vec{i} + \vec{k}; \vec{c} = -12\vec{i} - 6\vec{j} + 9\vec{k};$

- a) $2\vec{a}, 3\vec{b}, \vec{c}$ b) $4\vec{a}, 3\vec{b}$ c) $\vec{b}, -4\vec{c}$ d) \vec{a}, \vec{c} e) $2\vec{a}, 3\vec{b}, -4\vec{c}$

4.9 $\vec{a} = -\vec{i} + 5\vec{k}; \vec{b} = -3\vec{i} + 2\vec{j} + 2\vec{k}; \vec{c} = -2\vec{i} - 4\vec{j} + \vec{k};$

- a) $3\vec{a}, -4\vec{b}, 2\vec{c}$ b) $7\vec{a}, -3\vec{c}$ c) $2\vec{b}, 3\vec{a}$ d) \vec{b}, \vec{c} e) $7\vec{a}, 2\vec{b}, -3\vec{c}$

4.10 $\vec{a} = 6\vec{i} - 4\vec{j} + 6\vec{k}; \vec{b} = 9\vec{i} - 6\vec{j} + 9\vec{k}; \vec{c} = \vec{i} - 8\vec{k};$

- a) $2\vec{a}, -4\vec{b}, 3\vec{c}$ b) $3\vec{b}, -9\vec{c}$ c) $3\vec{a}, -5\vec{c}$ d) \vec{a}, \vec{b} e) $3\vec{a}, -4\vec{b}, -9\vec{c}$

4.11 $\vec{a} = 5\vec{i} - 3\vec{j} + 4\vec{k}; \vec{b} = 2\vec{i} - 4\vec{j} - 2\vec{k}; \vec{c} = 3\vec{i} + 5\vec{j} - 7\vec{k};$

- a) $\vec{a}, -4\vec{b}, 2\vec{c}$ b) $-2\vec{b}, 4\vec{c}$ c) $-3\vec{a}, 6\vec{c}$ d) \vec{b}, \vec{c} e) $\vec{a}, -2\vec{b}, 6\vec{c}$

4.12 $\vec{a} = -4\vec{i} + 3\vec{j} - 7\vec{k}; \vec{b} = 4\vec{i} + 6\vec{j} - 2\vec{k}; \vec{c} = 6\vec{i} + 9\vec{j} - 3\vec{k};$

- a) $-2\vec{a}, \vec{b}, -2\vec{c}$ b) $4\vec{b}, 7\vec{c}$ c) $5\vec{a}, -3\vec{b}$ d) \vec{b}, \vec{c} e) $-2\vec{a}, 4\vec{b}, 7\vec{c}$

- 4.13 $\vec{a} = -5\vec{i} + 2\vec{j} - 2\vec{k}$; $\vec{b} = 7\vec{i} - 5\vec{k}$; $\vec{c} = 2\vec{i} + 3\vec{j} - 2\vec{k}$;
 a) $2\vec{a}, 4\vec{b}, -5\vec{c}$ b) $3\vec{b}, 11\vec{c}$ c) $8\vec{a}, -6\vec{c}$ d) \vec{a}, \vec{c} e) $8\vec{a}, -3\vec{b}, 11\vec{c}$
- 4.14 $\vec{a} = -4\vec{i} - 6\vec{j} + 2\vec{k}$; $\vec{b} = 2\vec{i} + 3\vec{j} - \vec{k}$; $\vec{c} = -\vec{i} + 5\vec{j} - 3\vec{k}$;
 a) $5\vec{a}, 7\vec{b}, 2\vec{c}$ b) $-4\vec{b}, 11\vec{a}$ c) $3\vec{a}, -7\vec{c}$ d) \vec{a}, \vec{b} e) $3\vec{a}, 7\vec{b}, -2\vec{c}$
- 4.15 $\vec{a} = -4\vec{i} + 2\vec{j} - 3\vec{k}$; $\vec{b} = -3\vec{j} + 5\vec{k}$; $\vec{c} = 6\vec{i} + 6\vec{j} - 4\vec{k}$;
 a) $5\vec{a}, -\vec{b}, 3\vec{c}$ b) $-7\vec{a}, 4\vec{c}$ c) $3\vec{a}, 9\vec{b}$ d) \vec{a}, \vec{c} e) $3\vec{a}, -9\vec{b}, 4\vec{c}$
- 4.16 $\vec{a} = -3\vec{i} + 8\vec{j}$; $\vec{b} = 2\vec{i} - 3\vec{j} - 2\vec{k}$; $\vec{c} = 8\vec{i} + 12\vec{j} - 8\vec{k}$;
 a) $4\vec{a}, -6\vec{b}, 5\vec{c}$ b) $-7\vec{a}, 9\vec{c}$ c) $3\vec{b}, -8\vec{c}$ d) \vec{b}, \vec{c} e) $4\vec{a}, -6\vec{b}, 5\vec{c}$
- 4.17 $\vec{a} = 2\vec{i} - 4\vec{j} - 2\vec{k}$; $\vec{b} = -9\vec{i} + 2\vec{k}$; $\vec{c} = 3\vec{i} + 5\vec{j} - 7\vec{k}$;
 a) $7\vec{a}, 5\vec{b}, -\vec{c}$ b) $-5\vec{a}, 4\vec{b}$ c) $3\vec{b}, -8\vec{c}$ d) \vec{a}, \vec{c} e) $7\vec{a}, 5\vec{b}, -\vec{c}$
- 4.18 $\vec{a} = 9\vec{i} - 3\vec{j} + \vec{k}$; $\vec{b} = 3\vec{i} - 15\vec{j} + 21\vec{k}$; $\vec{c} = \vec{i} - 5\vec{j} + 7\vec{k}$;
 a) $2\vec{a}, -7\vec{b}, 3\vec{c}$ b) $-6\vec{a}, 4\vec{c}$ c) $5\vec{b}, 7\vec{a}$ d) \vec{b}, \vec{c} e) $2\vec{a}, -7\vec{b}, 4\vec{c}$
- 4.19 $\vec{a} = -2\vec{i} + 4\vec{j} - 3\vec{k}$; $\vec{b} = 5\vec{i} + \vec{j} - 2\vec{k}$; $\vec{c} = 7\vec{i} + 4\vec{j} - \vec{k}$;
 a) $\vec{a}, -6\vec{b}, 2\vec{c}$ b) $-8\vec{b}, 5\vec{c}$ c) $-9\vec{a}, 7\vec{c}$ d) \vec{a}, \vec{b} e) $\vec{a}, -6\vec{b}, 2\vec{c}$
- 4.20 $\vec{a} = -9\vec{i} + 4\vec{j} - 5\vec{k}$; $\vec{b} = \vec{i} - 2\vec{j} + 4\vec{k}$; $\vec{c} = -5\vec{i} + 10\vec{j} - 20\vec{k}$;
 a) $-2\vec{a}, 7\vec{b}, 5\vec{c}$ b) $-6\vec{b}, 7\vec{c}$ c) $9\vec{a}, 4\vec{c}$ d) \vec{b}, \vec{c} e) $-2\vec{a}, 7\vec{b}, 4\vec{c}$
- 4.21 $\vec{a} = 2\vec{i} - 7\vec{j} + 5\vec{k}$; $\vec{b} = -\vec{i} + 2\vec{j} - 6\vec{k}$; $\vec{c} = 3\vec{i} + 2\vec{j} - 4\vec{k}$;
 a) $-3\vec{a}, 6\vec{b}, -\vec{c}$ b) $5\vec{b}, 3\vec{c}$ c) $7\vec{a}, -4\vec{b}$ d) \vec{b}, \vec{c} e) $7\vec{a}, -4\vec{b}, 3\vec{c}$
- 4.22 $\vec{a} = 7\vec{i} - 4\vec{j} - 5\vec{k}$; $\vec{b} = \vec{i} - 11\vec{j} + 3\vec{k}$; $\vec{c} = 5\vec{i} + 5\vec{j} + 3\vec{k}$;
 a) $3\vec{a}, -7\vec{b}, 2\vec{c}$ b) $2\vec{b}, 6\vec{c}$ c) $-4\vec{a}, -5\vec{c}$ d) \vec{a}, \vec{c} e) $-4\vec{a}, 2\vec{b}, 6\vec{c}$
- 4.23 $\vec{a} = 4\vec{i} - 6\vec{j} - 2\vec{k}$; $\vec{b} = -2\vec{i} + 3\vec{j} + \vec{k}$; $\vec{c} = 3\vec{i} - 5\vec{j} + 7\vec{k}$;
 a) $6\vec{a}, 3\vec{b}, 8\vec{c}$ b) $-7\vec{b}, 6\vec{a}$ c) $-5\vec{a}, 4\vec{c}$ d) \vec{a}, \vec{b} e) $-5\vec{a}, 3\vec{b}, 4\vec{c}$
- 4.24 $\vec{a} = 3\vec{i} - \vec{j} + 2\vec{k}$; $\vec{b} = -\vec{i} + 5\vec{j} - 4\vec{k}$; $\vec{c} = 6\vec{i} - 2\vec{j} + 4\vec{k}$;
 a) $4\vec{a}, -7\vec{b}, -2\vec{c}$ b) $6\vec{a}, -4\vec{c}$ c) $-2\vec{a}, 5\vec{b}$ d) \vec{a}, \vec{c} e) $6\vec{a}, -7\vec{b}, -2\vec{c}$
- 4.25 $\vec{a} = -3\vec{i} - \vec{j} - 5\vec{k}$; $\vec{b} = 2\vec{i} - 4\vec{j} + 8\vec{k}$; $\vec{c} = 3\vec{i} + 7\vec{j} - \vec{k}$;
 a) $2\vec{a}, -\vec{b}, 3\vec{c}$ b) $-9\vec{a}, 4\vec{c}$ c) $5\vec{b}, -6\vec{c}$ d) \vec{b}, \vec{c} e) $2\vec{a}, 5\vec{b}, -6\vec{c}$
- 4.26 $\vec{a} = -3\vec{i} + 2\vec{j} + 7\vec{k}$; $\vec{b} = \vec{i} - 5\vec{k}$; $\vec{c} = 6\vec{i} + 4\vec{j} - \vec{k}$;
 a) $-2\vec{a}, \vec{b}, 7\vec{c}$ b) $5\vec{a}, -2\vec{c}$ c) $3\vec{b}, \vec{c}$ d) \vec{a}, \vec{c} e) $-2\vec{a}, 3\vec{b}, 7\vec{c}$
- 4.27 $\vec{a} = 3\vec{i} - \vec{j} + 5\vec{k}$; $\vec{b} = 2\vec{i} - 4\vec{j} + 6\vec{k}$; $\vec{c} = \vec{i} - 2\vec{j} + 3\vec{k}$;
 a) $-3\vec{a}, 4\vec{b}, -5\vec{c}$ b) $6\vec{b}, 3\vec{c}$ c) $\vec{a}, 4\vec{c}$ d) \vec{b}, \vec{c} e) $-3\vec{a}, 4\vec{b}, -5\vec{c}$

- 4.28 $\vec{a} = 4\vec{i} - 5\vec{j} - 4\vec{k}$; $\vec{b} = 5\vec{i} - \vec{j}$; $\vec{c} = 2\vec{i} + 4\vec{j} - 3\vec{k}$;
 а) $7\vec{b}$, $-2\vec{c}$ б) $-5a, 4b$ в) $8c, -3a$ г) a, c е) $-3\vec{a}, 4\vec{b}, 8\vec{c}$
- 4.29 $\vec{a} = -9\vec{i} + 4\vec{k}$; $\vec{b} = 2\vec{i} - 4\vec{j} + 6\vec{k}$; $\vec{c} = 3\vec{i} - 6\vec{j} + 9\vec{k}$;
 а) $3\vec{a}$, $-5\vec{b}$, $-4\vec{c}$ б) $6b, 2c$ в) $-2a, 8c$ г) b, c е) $3\vec{a}, 6\vec{b}, -4\vec{c}$
- 4.30 $\vec{a} = 5\vec{i} - 6\vec{j} - 4\vec{k}$; $\vec{b} = 4\vec{i} + 8\vec{j} - 7\vec{k}$; $\vec{c} = 3\vec{j} - 4\vec{k}$;
 а) $5\vec{a}, 3\vec{b}, -4\vec{c}$ б) $4b, a$ в) $7a, -2c$ г) a, b е) $5\vec{a}, 4\vec{b}, -2\vec{c}$

Задача №5

Вершины пирамиды находятся в точках А, В, С и D. Вычислить:

А) площадь указанной грани;

Б) площадь сечения, проходящего через середину ребра l и две вершины пирамиды;

В) объем пирамиды ABCD.

- 5.1 А(3, 4, 5), В(1, 2, 1), С(-2, -3, 6), D(3, -6, -3) А)ACD Б)L=AB, С и D
 5.2 А(-7, -5, 6), В(-2, 5, -3), С(3, -2, 4), D(1, 2, 2) А)BCD Б)L=CD, А и В
 5.3 А(1, 3, 1), В(-1, 4, 6), С(-2, -3, 4), D(3, 4, -4) А)ACD Б)L=BC, А и D
 5.4 А(2, 4, 1), В(-3, -2, 4), С(3, 5, -2), D(4, 2, -3) А)ABD Б)L=AC, В и D
 5.5 А(-5, -3, -4), В(1, 4, 6), С(3, 2, -2), D(8, -2, 4) А)ACD Б)L=BC, А и D
 5.6 А(3, 4, 2), В(-2, 3, -5), С(4, -3, 6), D(6, -5, 3) А)ABD Б)L=BD, А и С
 5.7 А(-4, 6, 3), В(3, -5, 1), С(2, 6, -4), D(2, 4, -5) А)ACD Б)L=AD, В и С
 5.8 А(7, 5, 8), В(-4, -5, 3), С(2, -3, 5), D(5, 1, -4) А)BCD Б)L=BC, А и D
 5.9 А(3, -2, 6), В(-6, -2, 3), С(1, 1, -4), D(4, 6, -7) А)ABD Б)L=BD, А и С
 5.10 А(-5, -4, -3), В(7, 3, -1), С(6, -2, 0), D(3, 2, -7) А)BCD Б)L=AD, В и С
 5.11 А(3, -5, -2), В(-4, 2, 3), С(1, 5, 7), D(-2, -4, 5) А)ACD Б)L=BD, А и С
 5.12 А(7, 4, 9), В(1, -2, -3), С(-5, -3, 0), D(1, -3, 4) А)ABD Б)L=AB, С и D
 5.13 А(-4, -7, -3), В(-4, -5, 7), С(2, -3, 3), D(3, 2, 1) А)BCD Б)L=BC, А и D
 5.14 А(-4, -5, -3), В(3, 1, 2), С(5, 7, -6), D(6, -1, 5) А)ACD Б)L=BC, А и D
 5.15 А(5, 2, 4), В(-3, 5, -7), С(1, -5, 8), D(9, -3, 5) А)ABD Б)L=BD, В и С
 5.16 А(-6, 4, 5), В(5, -7, 3), С(4, 2, -8), D(2, 8, -3) А)ACD Б)L=AD, В и С
 5.17 А(5, 3, 6), В(-3, -4, 4), С(5, -6, 8), D(4, 0, -3) А)BCD Б)L=BC, А и D
 5.18 А(5, -4, 4), В(-4, -6, 5), С(3, 2, -7), D(6, 2, -9) А)ABD Б)L=BD, А и С
 5.19 А(-7, -6, -5), В(5, 1, -3), С(8, -4, 0), D(3, 4, -7) А)BCD Б)L=AD, В и С
 5.20 А(7, -1, -2), В(1, 7, 8), С(3, 7, 9), D(-3, -5, 2) А)ACD Б)L=BD, А и С
 5.21 А(5, 2, 7), В(7, -6, -9), С(-7, -6, 3), D(1, -5, 2) А)ABD Б)L=AB, С и D
 5.22 А(-2, -5, -1), В(-6, -7, 9), С(4, -5, 1), D(2, 1, 4) А)BCD Б)L=BC, А и D
 5.23 А(-6, -3, -5), В(5, 1, 7), С(3, 5, -1), D(4, -2, 9) А)ACD Б)L=BC, А и D
 5.24 А(7, 4, 2), В(-5, 3, -9), С(1, -5, 3), D(7, -9, 1) А)ABD Б)L=BD, А и С
 5.25 А(-8, 2, 7), В(3, -5, 9) С(2, 4, -6), D(4, 6, -5) А)ACD Б)L=AD, В и С
 5.26 А(4, 3, 1), В(2, 7, 5), С(-4, -2, 4), D(2, -3, -5) А)ACD Б)L=AB, С и D
 5.27 А(-9, -7, 4), В(-4, 3, -1), С(5, -4, 2), D(3, 4, 4) А)BCD Б)L=CD, А и В
 5.28 А(3, 5, 3), В(-3, 2, 8), С(-3, -2, 6), D(7, 8, -2) А)ACD Б)L=BD, А и С

- 5.29 A(4, 2, 3), B(-5, -4, 2), C(5, 7, -4), D(6, 4, -7) A)ABD B)L=AD, B и C
5.30 A(-4, -2, -3), B(2, 5, 7), C(6, 3, -1), D(6, -4, 1) A)ACD B)L=BC, A и D

Задача №6.

Сила F приложена к точке A. Вычислить:

A) работу силы F в случае, когда точка ее приложения, двигаясь прямолинейно, перемещается в точку B;

Б) модуль момента силы F относительно точки B.

- 6.1 $F=(5, -3, 9)$, A(3, 4, -6), B(2, 6, 5)
6.2 $F=(-3, 1, -9)$, A(6, -3, 5), B(9, 5, -7)
6.3 $F=(2, 19, -4)$, A(5, 3, 4), B(6, -4, -1)
6.4 $F=(-4, 5, -7)$, A(4, -2, 3), B(7, 0, -3)
6.5 $F=(4, 11, -6)$, A(3, 5, 1), B(4, -2, -3)
6.6 $F=(3, -5, 7)$, A(2, 3, -5), B(0, 4, 3)
6.7 $F=(5, 4, 11)$, A(6, 1, -5), B(4, 2, -6)
6.8 $F=(-9, 5, 7)$, A(1, 6, -3), B(4, -3, 5)
6.9 $F=(6, 5, -7)$, A(7, -6, 4), B(4, 9, -6)
6.10 $F=(-5, 4, 4)$, A(3, 7, -5), B(2, -4, 1)
6.11 $F=(4, 7, -3)$, A(5, -4, 2), B(8, 5, -4)
6.12 $F=(2, 2, 9)$, A(4, 2, -3), B(2, 4, 0)

Даны три силы P , Q , R , приложенные к точке A. Вычислить:

A) работу, производимую равнодействующей этих сил, когда точка ее приложения, двигаясь прямолинейно, перемещается в точку B;

Б) величину момента равнодействующей этих сил относительно точки B.

- 6.13 $P=(9, -3, 4)$, $Q=(5, 6, -2)$, $R=(-4, -2, 7)$ A(-5, 4, -2), B(4, 6, -5)
6.14 $P=(5, -2, 3)$, $Q=(4, 5, -3)$, $R=(-1, -3, 6)$ A(7, 1, -5), B(2, -3, -6)
6.15 $P=(3, -5, 4)$, $Q=(5, 6, -3)$, $R=(-7, -1, 8)$ A(-3, 5, 9), B(5, 6, -3)
6.16 $P=(-10, 6, 5)$, $Q=(4, -9, 7)$, $R=(5, 3, -3)$ A(4, -5, 9), B(4, 7, -5)
6.17 $P=(5, -3, 1)$, $Q=(4, 2, -6)$, $R=(-5, -3, 7)$ A(-5, 3, 7), B(3, 8, -5)
6.18 $P=(-5, 8, 4)$, $Q=(6, -7, 3)$, $R=(3, 1, -5)$ A(2, -4, 7), B(0, 7, 4)
6.19 $P=(7, -5, 2)$, $Q=(3, 4, -8)$, $R=(-2, -4, 3)$ A(-3, 2, 0), B(6, 4, -3)
6.20 $P=(3, -4, 2)$, $Q=(2, 3, -5)$, $R=(-3, -2, 4)$ A(5, 3, -7), B(4, -1, -4)
6.21 $P=(4, -2, -5)$, $Q=(5, 1, -3)$, $R=(-6, 2, 5)$ A(-3, 2, -6), B(4, 5, -3)
6.22 $P=(7, 3, -4)$, $Q=(9, -4, 2)$, $R=(-6, 1, 4)$ A(-7, 2, 5), B(4, -2, 11)
6.23 $P=(9, -4, 4)$, $Q=(-4, 6, -3)$, $R=(3, 4, 2)$ A(5, -4, 3), B(4, -5, 9)
6.24 $P=(6, -4, 5)$, $Q=(-4, 7, 8)$, $R=(5, 1, -3)$ A(-5, -4, 2), B(7, -3, 6)
6.25 $P=(5, 5, -6)$, $Q=(7, -6, 6)$, $R=(-4, 3, 4)$ A(-9, 4, 7), B(8, -1, 7)
6.26 $P=(7, -6, 2)$, $Q=(-6, 2, -1)$, $R=(1, 6, 4)$ A(3, -6, 1), B(6, -2, 7)
6.27 $P=(4, -2, 3)$, $Q=(-2, 5, 6)$, $R=(7, 3, -1)$ A(-3, -2, 5), B(9, -5, 4)
6.28 $P=(7, 3, -4)$, $Q=(3, -2, 2)$, $R=(-5, 4, 3)$ A(-5, 0, 4), B(4, -3, 5)
6.29 $P=(3, -2, 4)$, $Q=(-4, 4, -3)$, $R=(3, 4, 2)$ A(1, -4, 3), B(4, 0, -2)
6.30 $P=(2, -1, -3)$, $Q=(3, 2, -1)$, $R=(-4, 1, 3)$ A(-1, 4, -2), B(2, 3, -1)

Решение типового варианта

Задача №1

Даны векторы $\mathbf{a} = -m + 6n$ и $\mathbf{b} = 3m + 4n$, где $|m| = 2$, $|n| = 5$; $(m, n) = \frac{2\pi}{3}$.

Найти: А) $\mathbf{a} * \mathbf{b}$;

Б) $\text{пр}_b(4\mathbf{a} - 5\mathbf{b})$;

В) $\cos(2\mathbf{b} - \mathbf{a}, 4\mathbf{b})$.

Решение

А) Вычисляем:

$$\begin{aligned} \mathbf{a} * \mathbf{b} &= (-m + 6n) * (3m + 4n) = -3m^2 + 14|m||n|\cos(m, n) + 24n^2 = \\ &= -3 * 2^2 + 14 * 2 * 5 \left(-\frac{1}{2}\right) + 24 * 5^2 = 518. \end{aligned}$$

Б) Пусть $\mathbf{c} = 4\mathbf{a} - 5\mathbf{b} = -19m + 4n$. Тогда $\text{пр}_b \mathbf{c} = \frac{\mathbf{c} * \mathbf{b}}{|\mathbf{b}|}$.

$$\begin{aligned} \mathbf{c} * \mathbf{b} &= (-19m + 4n) * (3m + 4n) = -57m^2 - 64|m||n|\cos(m, n) + 16n^2 = -148, \\ |\mathbf{b}| &= \sqrt{b^2} = \sqrt{(3m + 4n)^2} = \sqrt{9m^2 + 24|m||n|\cos(m, n) + 16n^2} = \sqrt{316}. \end{aligned}$$

Окончательно получаем:

$$\text{пр}_b(4\mathbf{a} - 5\mathbf{b}) = -148 / \sqrt{316}.$$

В) Пусть $\mathbf{d} = 2\mathbf{b} - \mathbf{a} = 7m + 2n$, $\mathbf{e} = 4\mathbf{b} = 12m + 16n$.

$$\cos(\mathbf{d}, \mathbf{e}) = \frac{\mathbf{d} * \mathbf{e}}{|\mathbf{d}||\mathbf{e}|},$$

$$\mathbf{d} * \mathbf{e} = (7m + 2n) * (12m + 16n) = 84m^2 + 136|m||n|\cos(m, n) + 32|n|^2 = 456,$$

$$|\mathbf{d}| = \sqrt{(7m + 2n)^2} = \sqrt{49m^2 + 28|m||n|\cos(m, n) + 4n^2} = \sqrt{156},$$

$$|\mathbf{e}| = \sqrt{(12m + 16n)^2} = \sqrt{144m^2 + 384|m||n|\cos(m, n) + 256n^2} = \sqrt{5056}.$$

В результате имеем:

$$\cos(2\mathbf{b} - \mathbf{a}, 4\mathbf{b}) = 456 / \sqrt{788736} \approx 0.5$$

Ч.Т.Д.

Задача №2

По координатам точек $A(-5, 1, 6)$, $B(1, 4, 3)$ и $C(6, 3, 9)$ найти:

А) модуль вектора $\mathbf{a} = 4\mathbf{AB} + \mathbf{BC}$;

Б) скалярное произведение векторов \mathbf{a} и $\mathbf{b} = \mathbf{BC}$;

В) проекцию вектора $\mathbf{c} = \mathbf{b}$ на вектор $\mathbf{d} = \mathbf{AB}$;

Г) координаты точки M , делящей отрезок $l = \mathbf{AB}$ в отношении 1:3.

Решение:

А) Последовательно находим $AB=(6, 3, -3)$, $BC=(5, -1, 6)$,
 $4AB+BC=(29, 11, -6)$

$$|4AB + BC| = \sqrt{29^2 + 11^2 + (-6)^2} = \sqrt{998}.$$

Б) Имеем $a=(29, 11, -6)$, $b=(5, -1, 6)$.

$$\text{Тогда } a \cdot b = 29 \cdot 5 + 11(-1) + (-6)6 = 98.$$

В) Так как

$$\text{пр}_{dc} = \frac{c \cdot d}{|d|}, \quad d=(6, 3, -3),$$

$$c \cdot d = 30 - 3 - 18 = 9, \quad |d| = \sqrt{36 + 9 + 9} = \sqrt{54},$$

то

$$\text{пр}_{AB} BC = \frac{9}{\sqrt{54}};$$

Г) Имеем: $\lambda = \frac{1}{3}$, $r_m = \frac{r_A + \lambda r_B}{1 + \lambda}$. Следовательно,

$$X_M = \frac{-5 + \frac{1}{3} \cdot 1}{1 + \frac{1}{3}} = -\frac{7}{2}, \quad Y_M = \frac{1 + 4 \cdot \frac{1}{3}}{1 + \frac{1}{3}},$$

$$Z_M = \frac{6 + \frac{1}{3} \cdot 3}{1 + \frac{1}{3}} = \frac{21}{4}, \quad M\left(-\frac{7}{2}, \frac{7}{4}, \frac{21}{4}\right).$$

Задача №3

Доказать, что векторы $a=(3, -1, 0)$, $b=(2, 3, 1)$, $c=(-1, 4, 3)$ образуют базис, и найти координаты вектора $d=(2, 3, 7)$ в этом базисе.

Вычислим:

$$abc = \begin{vmatrix} 3 & -1 & 0 \\ 2 & 3 & 1 \\ -1 & 4 & 3 \end{vmatrix} = 22 \neq 0.$$

Следовательно, векторы a, b, c образуют базис, и вектор d линейно выражается через базисные векторы: $d = \alpha a + \beta b + \gamma c$ или в координатной форме :

$$\left. \begin{aligned} 3\alpha + 2\beta - \gamma &= 2 \\ -\alpha + 3\beta + 4\gamma &= 3 \\ \beta + 3\gamma &= 7 \end{aligned} \right\}$$

Решаем полученную систему по формулам Крамера.

Находим $\Delta = 22$,

$$\Delta(\alpha) = \begin{vmatrix} 2 & 2 & -1 \\ 3 & 3 & 4 \\ 7 & 1 & 3 \end{vmatrix} = 66, \quad \Delta(\beta) = \begin{vmatrix} 3 & 2 & -1 \\ -1 & 3 & 4 \\ 0 & 7 & 3 \end{vmatrix} = -44, \quad \Delta(\gamma) = \begin{vmatrix} 2 & 2 & 2 \\ 3 & 3 & 3 \\ 7 & 1 & 7 \end{vmatrix} = 66,$$

$$\alpha = \frac{\Delta(\alpha)}{\Delta} = 3; \quad \beta = \frac{\Delta(\beta)}{\Delta} = -2; \quad \gamma = \frac{\Delta(\gamma)}{\Delta} = 3.$$

Поэтому $d = (3, -2, 3) = 3a - 2b + 3c$.

чтн.

Задача №4

Даны векторы $a = 4i + 4k$, $b = -i + 3j + 2k$ и $c = 3i + 5j$.

Необходимо:

- вычислить произведение векторов $a, b, 5c$;
- найти модуль векторного произведения $3c$ и b ;
- вычислить скалярное произведение векторов a и $3b$;
- проверить, будут ли коллинеарны или ортогональны векторы a и b ;
- проверить, будут ли компланарны вектора a , b и c ;

Решение:

А) Так как $5c = 15i + 25j$, то

$$(a \times b) \cdot 5c = \begin{vmatrix} 4 & 0 & 4 \\ -1 & 3 & 2 \\ 15 & 25 & 0 \end{vmatrix} = -100 - 180 - 200 = -480.$$

б) Поскольку $3c = 9i + 15j$, то

$$3c \times b = \begin{vmatrix} i & j & k \\ 9 & 15 & 0 \\ -1 & 3 & 2 \end{vmatrix} = 30i + 27k + 15k - 18j = 30i - 18j + 42k,$$

$$|3c \times b| = \sqrt{30^2 + (-18)^2 + 42^2} = \sqrt{2988}.$$

с) Находим: $3b = -3i + 9j + 6k$, $a * 3b = 4(-3) + 0*9 + 4*6 = 12$.

д) Так как $a = (4, 0, 4)$, $b = (-1, 3, 2)$ и $\frac{4}{-1} \neq \frac{0}{3} \neq \frac{4}{2}$, то векторы a и b не коллинеарны. Поскольку $a * b = 4(-1) + 0*3 + 4*2 \neq 0$, то векторы a и b не ортогональны;

е) векторы a, b и c компланарны, если $abc = 0$. Вычисляем :

$$abc = \begin{vmatrix} 4 & 0 & 4 \\ -1 & 3 & 2 \\ 3 & 5 & 0 \end{vmatrix} = -20 - 36 - 40 \neq 0, \text{ т.е. векторы } a, b \text{ и } c \text{ не компланарны.}$$

ЧГД.

Задача №5

Вершины пирамиды находятся в точках $A(2, 3, 4)$, $B(4, 7, 3)$, $C(1, 2, 2)$ и $D(-2, 0, -1)$. Вычислить: А) площадь грани ABC ;

Б) площадь сечения, проходящего через середину ребер AB , AC и AD ;

В) объем пирамиды $ABCD$.

А) Известно, что $S_{abc} = \frac{1}{2} |AB \times AC|$. Находим : $AB = (2, 4, -1)$, $AC = (-1, -1, -2)$

$$AB \times AC = \begin{vmatrix} i & j & k \\ 2 & 4 & -1 \\ -1 & -1 & -2 \end{vmatrix} = -9i + 5j + 2k.$$

Окончательно имеем: $S_{abc} = \frac{1}{2} \sqrt{9^2 + 5^2 + 2^2} = \frac{1}{2} \sqrt{110}$.

Б) Середины ребер AB , BC и AD находятся в точках $K(3, 5, 3.5)$, $M(1.5, 2.5, 3)$, $N(0, 1.5, 1.5)$.

Далее имеем: $S_{сеч} = \frac{1}{2} |KM \times KN|$, $KM = (-1.5, -2.5, -0.5)$, $KN = (-3, -3.5, -2)$

$$KM \times KN = \begin{vmatrix} i & j & k \\ -1.5 & -2.5 & -0.5 \\ -3 & -3.5 & -2 \end{vmatrix} = 3.25i - 1.5j - 2.25k.$$

$$S_{\text{сеч}} = \frac{1}{2} \sqrt{3.25^2 + 1.25^2 + 2.25^2} = \frac{1}{2} \sqrt{17.875}.$$

В) Поскольку $V_{\text{прд}} = \frac{1}{6} |(AB \times AC) \cdot AD|$, $AD = (-4, -3, -5)$,

$$(AB \times AC) \cdot AD = \begin{vmatrix} 2 & 4 & -1 \\ -1 & -1 & -2 \\ -4 & -3 & -5 \end{vmatrix} = 11 \Rightarrow V = \frac{11}{6}.$$

Задача №6

Сила $F = (2, 3, -5)$ приложена к точке $A(1, -2, 2)$. Вычислить:

А) работу силы F в случае, когда точка ее приложения, двигаясь прямолинейно, перемещается в точку $B(1, 4, 0)$;

Б) модуль момента силы F относительно точки B .

Решение:

А) Так как $A = F \cdot S$, $S = AB = (0, 6, -2)$, то $F \cdot AB = 2 \cdot 0 + 3 \cdot 6 + (-5) \cdot (-2) = 28$, $A = 28$.

Б) Момент силы $M = BA \times F$, $BA = (0, -6, 2)$

$$BA \times F = \begin{vmatrix} i & j & k \\ 0 & -6 & 2 \\ 2 & 3 & -5 \end{vmatrix} = 24i + 4j + 12k \Rightarrow |M| = \sqrt{24^2 + 4^2 + 12^2} = 4\sqrt{46}.$$

Семестр № 2

Контрольная работа № 3

Плоскость. Прямая в пространстве

Прямая и плоскость. Прямая на плоскости

Решение типового варианта

Контрольная работа № 3

(30 вариантов по 5 задач)

Задача №1

Даны четыре точки $A_1(x_1, y_1)$, $A_2(x_2, y_2)$, $A_3(x_3, y_3)$ и $A_4(x_4, y_4)$. Составить уравнения:

- а) плоскости $A_1A_2A_3$;
- б) прямой A_1A_2 ;
- в) прямой A_4M , перпендикулярной к плоскости $A_1A_2A_3$;
- г) прямой A_3N , параллельной прямой A_1A_2 ;
- д) плоскости, проходящей через точку A_4 перпендикулярно к прямой A_1A_2 .

Вычислить:

- е) синус угла между прямой A_1A_4 и плоскостью $A_1A_2A_3$;
- ж) косинус угла между координатной плоскостью OXY и плоскостью $A_1A_2A_3$.

1.1. $A_1(3, 1, 4)$, $A_2(-1, 6, 1)$, $A_3(-1, 1, 6)$, $A_4(0, 4, -1)$.

1.2. $A_1(3, -1, 2)$, $A_2(-1, 0, 1)$, $A_3(1, 7, 3)$, $A_4(8, 5, 8)$.

1.3. $A_1(3, 5, 4)$, $A_2(5, 8, 3)$, $A_3(1, 2, -2)$, $A_4(-1, 0, 2)$.

1.4. $A_1(2, 4, 3)$, $A_2(1, 1, 5)$, $A_3(4, 9, 3)$, $A_4(3, 6, 7)$.

1.5. $A_1(9, 5, 5)$, $A_2(-3, 7, 1)$, $A_3(5, 7, 8)$, $A_4(6, 9, 2)$.

1.6. $A_1(0, 7, 1)$, $A_2(2, -1, 5)$, $A_3(1, 6, 3)$, $A_4(3, -9, 8)$.

- 1.7. $A_1(5, 5, 4), A_2(1, -1, 4), A_3(3, 5, 1), A_4(5, 8, -1)$.
- 1.8. $A_1(6, 1, 1), A_2(4, 6, 6), A_3(4, 2, 0), A_4(1, 2, 6)$.
- 1.9. $A_1(7, 5, 3), A_2(9, 4, 4), A_3(4, 5, 7), A_4(7, 9, 6)$.
- 1.10. $A_1(6, 8, 2), A_2(5, 4, 7), A_3(2, 4, 7), A_4(7, 3, 7)$.
- 1.11. $A_1(4, 2, 5), A_2(0, 7, 1), A_3(0, 2, 7), A_4(1, 5, 0)$.
- 1.12. $A_1(4, 4, 10), A_2(7, 10, 2), A_3(2, 8, 4), A_4(9, 6, 9)$.
- 1.13. $A_1(4, 6, 5), A_2(6, 9, 4), A_3(2, 10, 10), A_4(7, 5, 9)$.
- 1.14. $A_1(3, 5, 4), A_2(8, 7, 4), A_3(5, 10, 4), A_4(4, 7, 8)$.
- 1.15. $A_1(10, 9, 6), A_2(2, 8, 2), A_3(9, 8, 9), A_4(7, 10, 3)$.
- 1.16. $A_1(1, 8, 2), A_2(5, 2, 6), A_3(5, 7, 4), A_4(4, 10, 9)$.
- 1.17. $A_1(6, 6, 5), A_2(4, 9, 5), A_3(4, 6, 11), A_4(6, 9, 3)$.
- 1.18. $A_1(7, 2, 2), A_2(-5, 7, -7), A_3(5, -3, 1), A_4(2, 3, 7)$.
- 1.19. $A_1(8, -6, 4), A_2(10, 5, -5), A_3(5, 6, -8), A_4(8, 10, 7)$.
- 1.20. $A_1(1, -1, 3), A_2(6, 5, 8), A_3(3, 5, 8), A_4(8, 4, 1)$.
- 1.21. $A_1(1, -2, 7), A_2(4, 2, 10), A_3(2, 3, 5), A_4(5, 3, 7)$.
- 1.22. $A_1(4, 2, 10), A_2(1, 2, 0), A_3(3, 5, 7), A_4(2, -3, 5)$.
- 1.23. $A_1(2, 3, 5), A_2(5, 3, -7), A_3(1, 2, 7), A_4(4, 2, 0)$.
- 1.24. $A_1(5, 3, 7), A_2(-2, 3, 5), A_3(4, 2, 10), A_4(1, 2, 7)$.
- 1.25. $A_1(4, 3, 5), A_2(1, 9, 7), A_3(0, 2, 0), A_4(5, 3, 10)$.
- 1.26. $A_1(3, 2, 5), A_2(4, 0, 6), A_3(2, 6, 5), A_4(6, 4, -1)$.
- 1.27. $A_1(2, 1, 6), A_2(1, 4, 9), A_3(2, -5, 8), A_4(5, 4, 2)$.
- 1.28. $A_1(2, 1, 7), A_2(3, 3, 6), A_3(2, -3, 9), A_4(1, 2, 5)$.
- 1.29. $A_1(2, -1, 7), A_2(6, 3, 1), A_3(3, 2, 8), A_4(2, -3, 7)$.
- 1.30. $A_1(0, 4, 5), A_2(3, -2, 1), A_3(4, 5, 6), A_4(3, 3, 2)$.

Задача №2

2.1. Найти величины отрезков, отсекаемых на осях координат плоскостью, проходящей через точку $M(-2, 7, 3)$ параллельно плоскости $x - 4y + 5z - 1 = 0$.

2.2. Составить уравнение плоскости, проходящей через середину отрезка M_1M_2 перпендикулярно к этому отрезку, если $M_1(1, 5, 6)$, $M_2(-1, 7, 10)$.

2.3. Найти расстояние от точки $M(2; 0; -0,5)$ до плоскости $4x - 4y + 2z + 17 = 0$.

2.4. Составить уравнение плоскости, проходящей через точку $A(2, -3, 5)$ параллельно плоскости OXY .

2.5. Составить уравнение плоскости, проходящей через ось OX и точку $A(2, 5, -1)$.

2.6. Составить уравнение плоскости, проходящей через точки $A(2, 5, -1)$, $B(-3, 1, 3)$ параллельно оси OY .

2.7. Составить уравнение плоскости, проходящей через точку $A(3, 4, 0)$ и прямую $\frac{x-2}{1} = \frac{y-3}{2} = \frac{z+1}{2}$.

2.8. Составить уравнение плоскости, проходящей через две параллельные прямые $\frac{x-3}{2} = \frac{y}{1} = \frac{z-1}{2}$ и $\frac{x+1}{2} = \frac{y-1}{1} = \frac{z}{2}$.

2.9. Составить общие уравнения прямой, образованной пересечением плоскости $3x - y - 7z + 9 = 0$ с плоскостью, проходящей через ось OX и точку $A(3, 2, -5)$.

2.10. Составить уравнение плоскости в «отрезках», если она проходит через точку $M(6, -10, 1)$ и отсекает на оси Ox отрезок $a = -3$, а на оси OZ — отрезок $c = 2$.

2.11. Составить уравнение плоскости, проходящей через точку $A(2, 3, -4)$ параллельно двум векторам $a = (4, 1, -1)$ и $b = (2, -1, 2)$.

- 2.12. Составить уравнение плоскости, проходящей через точки $A(1, 1, 0)$, $B(2, -1, -1)$ перпендикулярно к плоскости $5x + 2y + 3z - 7 = 0$.
- 2.13. Составить уравнение плоскости, проходящей через начало координат перпендикулярно к двум плоскостям $2x - 3y + z - 1 = 0$ и $x - y + 5z + 3 = 0$.
- 2.14. Составить уравнение плоскости, проходящей через точки $A(3, -1, 2)$, $B(2, 1, 4)$ параллельно вектору $a = (5, -2, -1)$.
- 2.15. Составить уравнение плоскости, проходящей через начало координат перпендикулярно к вектору \overline{AB} , если $A(5, -2, 3)$, $B(1, -3, 5)$.
- 2.16. Найти величины отрезков, отсекаемых на осях координат плоскостью, проходящей через точку $M(2, -3, 3)$ параллельно плоскости $3x + y - 3z = 0$.
- 2.17. Составить уравнение плоскости, проходящей через точку $M(1, -1, 2)$ перпендикулярно к отрезку M_1M_2 , если $M_1(2, 3, -4)$, $M_2(-1, 2, -3)$.
- 2.18. Показать, что прямая $\frac{x}{5} = \frac{y-3}{8} = \frac{z-1}{-9}$ параллельна плоскости $x + 3y - 2z - 1 = 0$, а прямая $x = t + 7$, $y = t - 2$, $z = 2t + 1$ лежит в этой плоскости.
- 2.19. Составить общее уравнение плоскости, проходящей через точку $A(3, -4, 1)$ параллельно координатной плоскости OXZ .
- 2.20. Составить уравнение плоскости, проходящей через ось OY и точку $M(3, -5, 2)$.
- 2.21. Составить уравнение плоскости, проходящей через точки $M(1, 2, 3)$ и $N(-3, 4, -5)$ параллельно оси OZ .
- 2.22. Составить уравнение плоскости, проходящей через точку $M(2, 3, -1)$ и прямую $x = t - 3$, $y = 2t + 5$, $z = -3t + 1$.
- 2.23. Найти проекцию точки $M(4, -3, 1)$ на плоскость $x - 2y - z - 15 = 0$.
- 2.24. Определить при каком значении B плоскости $x - 4y + z - 1 = 0$ и $2x + By + 10z - 3 = 0$ будут перпендикулярны.

2.25. Составить уравнение плоскости, которая проходит через точку $M(2, -3, -4)$ и отсекает на осях координат отличные от нуля отрезки одинаковой величины.

2.26. При каких значениях n и A прямая $\frac{x}{3} = \frac{y-5}{n} = \frac{z+5}{6}$ перпендикулярна к плоскости $Ax + 2y - 2z - 7 = 0$?

2.27. Составить уравнение плоскости, проходящей через точки $A(2, 3, -1)$, $B(1, 1, 4)$ перпендикулярно к плоскости $x - 4y + 3z + 2 = 0$.

2.28. Составить уравнение плоскости, проходящей через начало координат перпендикулярно к плоскостям $x + 5y - z + 7 = 0$ и $3x - y + 2z - 3 = 0$.

2.29. Составить уравнение плоскости, проходящей через точки $M(2, 3, -5)$ и $N(-1, 1, -6)$ параллельно вектору $a = (4, 4, 3)$.

2.30. Определить, при каком значении C плоскости $3x - 5y + Cz - 3 = 0$ и $x - 3y + 2z + 5 = 0$ будут перпендикулярны.

Задача №3

3.1. Доказать параллельность прямых $\frac{x-1}{6} = \frac{y+2}{2} = \frac{z}{-1}$ и $x - 2y + 2z - 8 = 0$, $x + 6z - 6 = 0$.

3.2. Доказать, что прямая $\frac{x+1}{2} = \frac{y+1}{-1} = \frac{z-3}{3}$ параллельна плоскости $2x + y - z = 0$, а прямая $\frac{x-2}{2} = \frac{y}{-1} = \frac{z-4}{3}$ лежит в этой плоскости.

3.3. Составить уравнение прямой, проходящей через точку $M(1, -3, 3)$ и образующей с осями координат углы, соответственно равные 60° , 45° и 120° .

3.4. Доказать, что прямая $\frac{x-1}{2} = \frac{y+2}{3} = \frac{z-1}{6}$ перпендикулярна к прямой

$$\left. \begin{aligned} 2x + y - 4z + 2 &= 0, \\ 4x - y - 5z + 4 &= 0. \end{aligned} \right\}$$

3.5. Составить параметрические уравнения медианы треугольника с вершинами $A(3, 6, -7)$, $B(-5, 1, -4)$, $C(0, 2, 3)$, проведенной из вершины S .

3.6. При каком значении n прямая $\frac{x+2}{3} = \frac{y-1}{n} = \frac{z}{1}$ параллельна прямой

$$\left. \begin{aligned} x + y - z &= 0, \\ x - y - 5z - 8 &= 0. \end{aligned} \right\}$$

3.7. Найти точку пересечения прямой $\frac{x-1}{1} = \frac{y+1}{-2} = \frac{z}{6}$ и плоскости $2x + 3y + z - 1 = 0$.

3.8. Найти проекцию точки $P(3, 1, -1)$ на плоскость $x + 2y + 3z - 30 = 0$.

3.9. При каком значении C плоскости $3x - 5y + Cz - 3 = 0$ и $x + 3y + 2z + 5 = 0$ перпендикулярны?

3.10. При каком значении A плоскость $Ax + 3y - 5z + 1 = 0$ параллельна прямой $\frac{x-1}{4} = \frac{y+2}{3} = \frac{z}{1}$?

3.11. При каких значениях m и C прямая $\frac{x-2}{m} = \frac{y+1}{4} = \frac{z-5}{-3}$ перпендикулярна к плоскости $3x - 2y + Cz + 1 = 0$?

3.12. Составить уравнение прямой, проходящей через начало координат параллельно прямой $x = 2t + 5$, $y = -3t + 1$, $z = -7t - 4$.

3.13. Проверить, лежат ли на одной прямой точки $A(0, 0, 2)$, $B(4, 2, 5)$ и $C(12, 6, 11)$.

3.14. Составить уравнение прямой, проходящей через точку $M(2, -5, 3)$ параллельно прямой $2x - y + 3z - 1 = 0$, $5x + 4y - z - 7 = 0$.

3.15. Составить уравнение прямой, проходящей через точку $M(2, -3, 4)$ перпендикулярно к прямым $\frac{x+2}{1} = \frac{y-3}{-1} = \frac{z+1}{1}$ и $\frac{x+4}{2} = \frac{y}{1} = \frac{z-4}{-3}$.

3.16. При каких значениях А и В плоскость $Ax + By + 6z - 7 = 0$ перпендикулярна к прямой $\frac{x-2}{2} = \frac{y+5}{-4} = \frac{z+1}{3}$?

3.17. Показать, что прямая $\frac{x}{6} = \frac{y-3}{-8} = \frac{z-1}{-9}$ параллельна плоскости $x + 3y - 2z + 1 = 0$, а прямая $x = t + 7, y = t - 2, z = 2t + 1$ лежит в этой плоскости.

3.18. Составить уравнение плоскости, проходящей через ось OZ и точку K(-3, 1, -2).

3.19. Показать, что прямые $\frac{x}{1} = \frac{y-1}{-2} = \frac{z}{3}$ и $3x + y - 5z + 1 = 0, 2x + 3y - 8z + 3 = 0$ перпендикулярны.

3.20. При каком значении D прямая $3x - y + 2z - 6 = 0, x + 4y - z + D = 0$ пересекает ось OZ?

3.21. При каком значении p прямые

$$\left. \begin{array}{l} x = 2t + 5, \\ y = -t + 2, \\ z = pt - 7. \end{array} \right\} \text{ и } \left. \begin{array}{l} x + 3y + z + 2 = 0, \\ x - y - 3z - 2 = 0. \end{array} \right\}$$

параллельны?

3.22. Найти точку пересечения прямой $\frac{x-7}{5} = \frac{y-1}{1} = \frac{z-5}{4}$ и плоскости $3x - y + 2z - 8 = 0$.

3.23. Составить уравнение плоскости, проходящей через точку K(2, -5, 3) параллельно плоскости OXZ.

3.24. Составить общие уравнения прямой, образованной пересечением плоскости $x + 2y - z + 5 = 0$ с плоскостью, проходящей через ось OY и точку M(5, 3, 2).

3.25. При каких значениях В и D прямая $x - 2y + z - 9 = 0, 3x + By + z + D = 0$ лежит в плоскости OXY?

3.26. Составить уравнение плоскости, проходящей через точку $M_0(2, 3, 3)$ параллельно двум векторам $\mathbf{a} = (-1, -3, 1)$ и $\mathbf{b} = (4, 1, 6)$.

3.27. Составить уравнение прямой, проходящей через точку $E(3, 4, 5)$ параллельно оси OX .

3.28. Составить уравнение прямой, проходящей через точку $M(2, 3, 1)$ перпендикулярно к прямой $\frac{x+1}{2} = \frac{y}{-1} = \frac{z-2}{3}$.

3.29. Составить канонические уравнения прямой, проходящей через точку $M(1, -5, 3)$ перпендикулярно к прямой $\frac{x}{2} = \frac{y-2}{3} = \frac{z+1}{-1}$ и $x = 3t + 1, y = -t - 5, z = 2t + 3$.

3.30. Найти точку, симметричную точке $M(4, 3, 10)$ относительно прямой $\frac{x-1}{2} = \frac{y-2}{4} = \frac{z-3}{5}$.

Задача №4

Даны вершины треугольника ABC : $A(x_1, y_1), B(x_2, y_2), C(x_3, y_3)$. Найти:

- уравнение стороны AB ;
- уравнение высоты CH ;
- уравнение медианы AM ;
- точку N пересечения медианы AM и высоты CH ;
- уравнение прямой, проходящей через вершину C параллельно стороне AB ;
- расстояние от точки C до прямой AB .

4.1. $A(-2, 4), B(3, 1), C(10, 7)$,

4.2. $A(-3, -2), B(14, 4), C(6, 8)$,

4.3. $A(1, 7), B(-3, -1), C(11, -3)$,

- 4.4. $A(1, 0)$, $B(-1, 4)$, $C(9, 5)$,
4.5. $A(1, -2)$, $B(7, 1)$, $C(3, 7)$,
4.6. $A(-2, -3)$, $B(1, 6)$, $C(6, 1)$,
4.7. $A(-4, 2)$, $B(-6, 6)$, $C(6, 2)$,
4.8. $A(4, -3)$, $B(7, 3)$, $C(1, 10)$,
4.9. $A(4, -4)$, $B(8, 2)$, $C(3, 8)$,
4.10. $A(-3, -3)$, $B(5, -7)$, $C(7, 7)$,
4.11. $A(1, -6)$, $B(3, 4)$, $C(-3, 3)$,
4.12. $A(-4, 2)$, $B(8, -6)$, $C(2, 6)$,
4.13. $A(-5, 2)$, $B(0, 4)$, $C(5, 7)$,
4.14. $A(4, -4)$, $B(6, 2)$, $C(-1, 8)$,
4.15. $A(-3, 8)$, $B(-6, 2)$, $C(0, -5)$,
4.16. $A(6, -9)$, $B(10, -1)$, $C(-4, 1)$,
4.17. $A(4, 1)$, $B(-3, -1)$, $C(7, -3)$,
4.18. $A(-4, 2)$, $B(6, -4)$, $C(4, 10)$,
4.19. $A(3, -1)$, $B(11, 3)$, $C(-6, 2)$,
4.20. $A(-7, -2)$, $B(-7, 4)$, $C(5, -5)$,
4.21. $A(-1, -4)$, $B(9, 6)$, $C(-5, 4)$,
4.22. $A(10, -2)$, $B(4, -5)$, $C(-3, 1)$,
4.23. $A(-3, -1)$, $B(-4, -5)$, $C(8, 1)$,
4.24. $A(-2, -6)$, $B(-3, 5)$, $C(4, 0)$,
4.25. $A(-7, -2)$, $B(3, -8)$, $C(-4, 6)$,
4.26. $A(0, 2)$, $B(-7, -4)$, $C(3, 2)$,
4.27. $A(7, 0)$, $B(1, 4)$, $C(-8, -4)$,
4.28. $A(1, -3)$, $B(0, 7)$, $C(-2, 4)$,
4.29. $A(-5, 1)$, $B(8, -2)$, $C(1, 4)$,

4.30 $A(2, 5)$, $B(-3, 1)$, $C(0, 4)$.

Задача №5

5.1. Найти уравнение прямой, проходящей через точку пересечения прямых $3x - 2y - 7 = 0$ и $x + 3y - 6 = 0$ и отсекающей на оси абсцисс отрезок, равный 3.

5.2. Найти проекцию точки $A(-8, 12)$ на прямую, проходящую через точки $B(2, -3)$ и $C(-5, 1)$.

5.3. Даны две вершины треугольника ABC : $A(-4, 4)$, $B(4, -12)$ и точка $M(4, 2)$ пересечения его высот. Найти вершину C .

5.4. Найти уравнение прямой, отсекающей на оси ординат отрезок, равный 2, и проходящей параллельно прямой $2y - x = 3$.

5.5. Найти уравнение прямой, проходящей через точку $A(2, -3)$ и точку пересечения прямых $2x - y = 5$ и $x + y = 1$.

5.6. Доказать, что четырехугольник $ABCD$ - трапеция, если $A(3, 6)$, $B(5, 2)$, $C(-1, -3)$, $D(-5, 5)$.

5.7. Записать уравнение прямой, проходящей через точку $A(3, 1)$ перпендикулярно к прямой BC , если $B(2, 5)$, $C(1, 0)$.

5.8. Найти уравнение прямой, проходящей через точку $A(-2, 1)$ параллельно прямой MN , если $M(-3, -2)$, $N(1, 6)$.

5.9. Найти точку, симметричную точке $M(2, -1)$ относительно прямой $x - 2y + 3 = 0$.

5.10. Найти точку O пересечения диагоналей четырехугольника $ABCD$, если $A(-1, -3)$, $B(3, 5)$, $C(5, 2)$, $D(3, -5)$

5.11. Через точку пересечения прямых $6x - 4y + 5 = 0$, $2x + 5y + 8 = 0$ провести прямую, параллельную оси абсцисс.

5.12. Известны уравнения стороны АВ треугольника ABC $4x + y = 12$, его высот ВН $5x - 4y = 12$ и АМ $x + y = 6$. Найти уравнения двух других сторон треугольника ABC.

5.13. Даны две вершины треугольника ABC: A(-6, 2), B(2, -2) и точка пересечения его высот Н(1, 2). Найти координаты точки М пересечения стороны AC и высоты ВН.

5.14. Найти уравнения высот треугольника ABC, проходящих через вершины А и В, если A(-4, 2), B(3, -5), C(5, 0).

5.15. Вычислить координаты точки пересечения перпендикуляров, проведенных через середины сторон треугольника, вершинами которого служат точки A(2, 3), B(0, -3), C(6, -3).

5.16. Составить уравнение высоты, проведенной через вершину А треугольника ABC, зная уравнения его сторон: АВ - $2x - y - 3 = 0$, AC - $x + 5y - 7 = 0$, BC - $3x - 2y + 13 = 0$.

5.17. Дан треугольник с вершинами A(3, 1), B(-3, -1), и C(5, -12). Найти уравнение и вычислить длину его медианы, проведенной из вершины С.

5.18. Составить уравнение прямой, проходящей через начало координат и точку пересечения прямых $2x + 5y - 8 = 0$ и $2x + 3y + 4 = 0$.

5.19. Найти уравнения перпендикуляров к прямой $3x + 5y - 15 = 0$, проведенных через точки пересечения данной прямой с осями координат.

5.20. Даны уравнения сторон четырехугольника: $x - y = 0$, $x + 3y = 0$, $x - y - 4 = 0$, $3x + y - 12 = 0$. Найти уравнения его диагоналей.

5.21. Составить уравнение медианы СМ и высоты СК треугольника ABC, если A(4, 6), B(-4, 0), C(-1, -4).

5.22. Через точку P(5, 2) провести прямую: а) отсекающие равные отрезки на осях координат; б) параллельную оси Ох; в) параллельную оси Оу.

5.23. Записать уравнение прямой, проходящей через точку $A(-2, 3)$ и составляющей с осью Ox угол: а) 45° , б) 90° , в) 0° .

5.24. Какую ординату имеет точка C , лежащая на одной прямой с точками $A(-6, -6)$ и $B(-3, -1)$ и имеющая абсциссу, равную 3 ?

5.25. Через точку пересечения прямых $2x - 5y - 1 = 0$ и $x + 4y - 7 = 0$ провести прямую, делящую отрезок между точками $A(4, -3)$ и $B(-1, 2)$ в отношении $\lambda = \frac{2}{3}$.

5.26. Известны уравнения двух сторон ромба $2x - 5y - 1 = 0$ и $2x - 5y - 34 = 0$ и уравнение одной из его диагоналей $x + 3y - 6 = 0$. Найти уравнение второй диагонали.

5.27. Найти точку E пересечения медиан треугольника, вершинами которого являются точки $A(-3, 1)$, $B(7, 5)$ и $C(5, -3)$.

5.28. Записать уравнения прямых, проходящих через точку $A(-1, 1)$ под углом 45° к прямой $2x + 3y = 6$.

5.29. Даны уравнения высот треугольника ABC $2x - 3y + 1 = 0$, $x + 2y + 1 = 0$ и координаты его вершины $A(2, 3)$. Найти уравнения сторон AB и AC треугольника.

5.30. Даны уравнения двух сторон параллелограмма $x - 2y = 0$, $x - y - 1 = 0$ и точка пересечения его диагоналей $M(3, -1)$. Найти уравнения двух других сторон.

Решение типового варианта.

Задача №1.

Даны четыре точки $A_1(4, 7, 8)$, $A_2(-1, 13, 0)$, $A_3(2, 4, 9)$, $A_4(1, 8, 9)$. Составить уравнения:

а) плоскости $A_1A_2A_3$;

б) прямой A_1A_2 ;

в) прямой A_4M , перпендикулярной к плоскости $A_1A_2A_3$;

г) прямой A_4N , параллельной прямой A_1A_2 ;

Вычислить:

д) синус угла между прямой A_1A_4 и плоскостью $A_1A_2A_3$;

е) косинус угла между координатной плоскостью Oxy и плоскостью $A_1A_2A_3$.

Решение.

а) Составим уравнение на плоскости $A_1A_2A_3$ по трем точкам:

$$\begin{vmatrix} x-4 & y-7 & z-8 \\ -5 & 6 & -8 \\ -2 & -3 & 1 \end{vmatrix} = 0,$$

откуда $6x - 7y - 9z + 97 = 0$.

б) Учитывая уравнения прямой, проходящей через две точки, уравнения прямой A_1A_2 можно записать в виде

$$\frac{x-4}{5} = \frac{y-7}{-6} = \frac{z-8}{8}.$$

в) Из условия перпендикулярности прямой A_4M и плоскости $A_1A_2A_3$ следует, что в качестве направляющего вектора прямой s можно взять нормальный вектор $n = (6, -7, -9)$ плоскости $A_1A_2A_3$. Тогда уравнение прямой A_4M запишется в виде

$$\frac{x-1}{6} = \frac{y-8}{-7} = \frac{z-9}{-9}.$$

г) Так как прямая A_4N параллельна прямой A_1A_2 , то их направляющие векторы s_1 и s_2 можно считать совпадающими: $s_1 = s_2 = (5, -6, 8)$. Следовательно уравнение прямой A_4N имеет вид

$$\frac{x-1}{5} = \frac{y-8}{-6} = \frac{z-9}{8}.$$

д) По формуле (3.18)

$$\sin \varphi = \frac{|6 \cdot 5 + (-7)(-6) + (-9)8|}{\sqrt{6^2 + (-7)^2 + (-9)^2} \sqrt{5^2 + (6)^2 + 8^2}} = \frac{34}{\sqrt{11} \sqrt{166}} \approx 0,8.$$

е) В соответствии с формулой (3.5)

$$\cos \varphi = \frac{n_1 \cdot n_2}{|n_1| |n_2|} = \frac{0 \cdot 6 + 0 \cdot (-7) + 1 \cdot (-9)}{\sqrt{1} \sqrt{6^2 + (-7)^2 + (-9)^2}} = \frac{-9}{\sqrt{166}} \approx -0,7.$$

Что и требовалось.

Задача №2

Составить уравнение плоскости, проходящей через точки $M(4, 3, 1)$ и $N(-2, 0, -1)$ параллельно прямой, проведенной через точки $A(1, 1, -1)$ и $B(-3, 1, 0)$.

Решение.

Уравнение прямой AB имеет вид

$$\frac{x-1}{-4} = \frac{y-1}{0} = \frac{z+1}{1}.$$

Если плоскость проходит через точку $M(4, 3, 1)$, то ее уравнение можно записать в виде $A(x-4) + B(y-3) + C(z-1) = 0$. Так как эта плоскость проходит через точку $N(-2, 0, -1)$, то выполняется условие

$$A(-2-4) + B(0-3) + C(-1-1) = 0 \text{ или}$$

$$6A + 3B + 2C = 0.$$

Поскольку искомая плоскость параллельна найденной прямой AB , то с учетом условия параллельности имеем:

$$-4A + 0B + 1C = 0 \text{ или } 4A - C = 0.$$

Решая систему

$$\left. \begin{array}{l} 6A + 3B + 2C = 0, \\ 4A - C = 0, \end{array} \right\}$$

находим, что $C = 4A$, $B = -\frac{14}{3}A$. Подставив полученные значения C и B в

уравнение искомой плоскости, имеем

$$A(x - 4) - \frac{14}{3}A(y - 3) + 4A(z - 1) = 0.$$

Так как $A \neq 0$, то полученное уравнение эквивалентно уравнению

$$3(x - 4) - 14(y - 3) + 12(z - 1) = 0.$$

Что и требовалось.

Задача №3

Найти координаты x_2, y_2, z_2 точки M_2 , симметричной точке $M_1(6, -4, -2)$ относительно плоскости $x + y + z - 3 = 0$.

Решение.

Запишем параметрическое уравнение прямой M_1M_2 , перпендикулярной к данной плоскости: $x = 6 + t$, $y = -4 + t$, $z = -2 + t$. Решив их совместно с уравнением данной плоскости, найдем $t = 1$ и, следовательно, точку M пересечения прямой M_1M_2 с данной плоскостью: $M(7, -3, -1)$. Так как точка M является серединой отрезка M_1M_2 , то верны равенства:

$$7 = \frac{6 + x_2}{2}, \quad -3 = \frac{-4 + y_2}{2}, \quad -1 = \frac{-2 + z_2}{2},$$

из которых находим координаты точки M_2 : $x_2 = 8, y_2 = -2, z_2 = 0$,

что и требовалось.

Задача №4

Даны вершины треугольника ABC : $A(4, 3)$, $B(-3, -3)$, $C(2, 7)$. Найти:

а) уравнение стороны AB ;

б) уравнение высоты CH ;

- в) уравнение медианы АМ;
 г) точку N пересечения медианы АМ и высоты СН;
 д) уравнение прямой, проходящей через вершину С параллельно стороне АВ;
 е) расстояние от точки С до прямой АВ.

Решение.

а) Воспользовавшись уравнением прямой, проходящей через две точки, получим уравнение стороны АВ:

$$\frac{x-4}{-3-4} = \frac{y-3}{-3-3},$$

откуда

$$6(x-4) = 7(y-3) \text{ или } 6x - 7y - 3 = 0.$$

б) Угловой коэффициент прямой АВ $k_1=6/7$. С учетом условия перпендикулярности прямых АВ и СН угловой коэффициент высоты СН $k_2 = -7/6$ ($k_1 k_2 = -1$). По точке С(2, 7) и угловому коэффициенту $k_2 = -7/6$ составляем уравнение высоты СН

$$y-7 = -\frac{7}{6}(x-2) \text{ или } 7x + 6y - 56 = 0.$$

в) По известным формулам находим координаты х, у середины М отрезка ВС:

$$x = (-3 + 2)/2 = -1/2, \quad y = (-3 + 7)/2 = 2.$$

Теперь по двум известным точкам А и М составляем уравнение медианы АМ:

$$\frac{x-4}{-1/2-4} = \frac{y-3}{2-3} \text{ или } 2x - 9y + 19 = 0.$$

г) Для нахождения координат точки N пересечения медианы АМ и высоты СН составляем систему уравнений

$$\left. \begin{aligned} 7x + 6y - 56 &= 0 \\ 2x - 9y + 19 &= 0 \end{aligned} \right\}$$

Решая ее, получаем $N(26/5, 49/15)$.

д) Так как прямая, проходящая через вершину C , параллельна стороне AB , то их угловые коэффициенты равны $k_1 = 6/7$. Тогда по точке C и угловому коэффициенту k_1 составляем уравнение прямой CD :

$$y - 7 = \frac{6}{7}(x - 2) \text{ или } 6x - 7y + 37 = 0.$$

е) Расстояние от точки C до прямой AB вычисляем по формуле (3.29):

$$d = |CH| = \frac{|6 \cdot 2 - 7 \cdot 7 - 37|}{\sqrt{6^2 + (-7)^2}} = \frac{40}{\sqrt{85}} \approx 4.4.$$

Решение данной задачи проиллюстрировано на рис. 3.1, что и требовалось.

Задача №5

Известны вершины $O(0, 0)$, $A(-2, 0)$ параллелограмма $OACD$ и точка пересечения его диагоналей $B(2, -2)$. Записать уравнения сторон параллелограмма.

Решение.

Уравнение стороны OA можно записать сразу: $y = 0$. Далее, так как точка B является серединой диагонали AD (рис. 3.2), то по формулам деления отрезка пополам можно вычислить координаты вершины $D(x, y)$:

$$2 = \frac{-2+x}{2}, \quad -2 = \frac{0+y}{2},$$

откуда $x = 6, y = -4$.

Теперь можно найти уравнения всех остальных сторон. Учитывая параллельность сторон OA и CD , составляем уравнение стороны CD : $y = -4$. Уравнение стороны OD составляем по двум известным точкам:

$$\frac{x-0}{6-0} = \frac{y-0}{-4-0},$$

откуда $y = -\frac{2}{3}x, 2x + 3y = 0$.

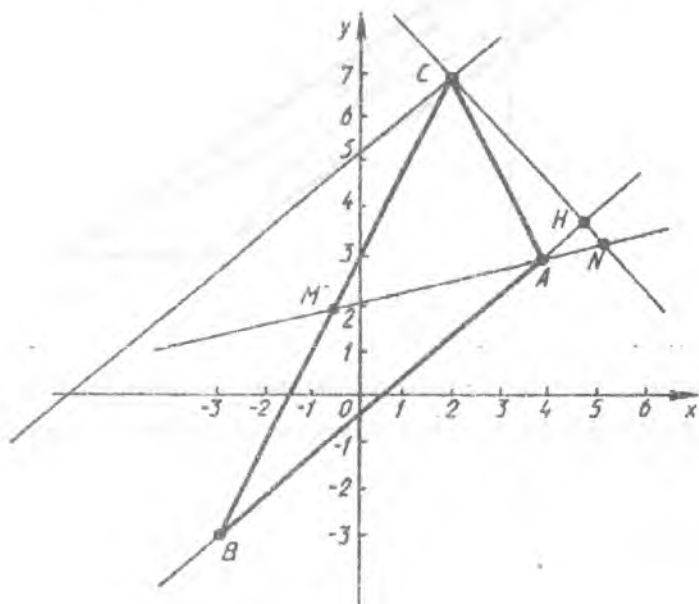


Рис. 3.1

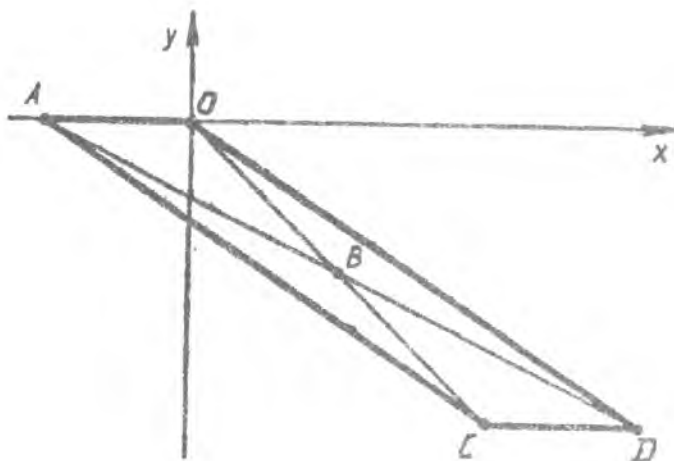


Рис.3.2

Наконец, уравнение стороны AC находим, учитывая тот факт, что она проходит через известную точку $A(-2, 0)$ параллельно известной прямой OD:

$$y - 0 = -\frac{2}{3}(x + 2) \text{ или } 2x + 3y + 4 = 0.$$

Что и требовалось.

Контрольная работа № 4

Линейные пространства

Линейные операторы

Приложение самосопряженных операторов к исследованию КВП и

ПВП

Решение типового варианта

Контрольная работа № 4 (30 вариантов по 8 задач)

Задача №1

1.1. Выяснить, является ли вещественным линейным пространством множество всех вещественных матриц 2-го порядка.

1.2. Является ли множество \mathbb{R} всех вещественных чисел вещественным линейным пространством?

1.3. Является ли множество \mathbb{Z} всех целых чисел вещественным линейным пространством?

1.4. Является ли множество \mathbb{Q} всех рациональных чисел вещественным линейным пространством?

1.5. Каким должно быть число α , чтобы множество, состоящее из одного этого числа, являлось вещественным линейным пространством?

1.6. Является ли вещественным линейным пространством множество всех многочленов степени не выше n .

1.7. Является ли вещественным линейным пространством множество всех многочленов степени n .

1.8. Является ли вещественным линейным пространством множество всех многочленов степени выше n .

1.9. Является ли множество всех вещественных матриц размерности $m \times n$ вещественным линейным пространством?

1.10. Пусть $R_{1 \times 2}$ – множество всех вещественных матриц вида (α_1, α_2) . Является ли это множество вещественным линейным пространством,

если операция сложения определена обычным способом, а операция умножения на число $\alpha \in \mathbb{R}$ равенством $\alpha(\alpha_1, \alpha_2) = (\alpha\alpha_1, \alpha\alpha_2)$?

1.11. Показать, что множество \mathbb{C} комплексных чисел над полем \mathbb{R} действительных чисел образует пространство размерности $n=2$.

1.12. Является ли вещественным линейным пространством множество всех вещественных функций, область определения которых – вся числовая прямая.

1.13. Является ли вещественным линейным пространством множество всех числовых последовательностей $\{\alpha_n\}$, где $\alpha_n \in \mathbb{R}$?

1.14. Является ли вещественным линейным пространством множество всех геометрических векторов, удовлетворяющих условию $|\mathbf{x}| > \alpha$, где α – фиксированное число.

1.15. Является ли вещественным линейным пространством множество всех сходящихся последовательностей?

1.16. Является ли вещественным линейным пространством множество всех расходящихся последовательностей?

1.17. Является ли подмножество L элементов линейного пространства V его подпространством, если L – множество рациональных чисел, V – множество вещественных чисел?

Является ли подмножество L элементов линейного пространства V его подпространством, если V множество квадратных матриц $A=(\alpha_{ij})$ третьего порядка ($\alpha_{ij} \in \mathbb{R}$), L – множество матриц вида:

$$1.18. \begin{pmatrix} 0 & a & 0 \\ 0 & 0 & 0 \\ 0 & 0 & 0 \end{pmatrix} \quad (a \in \mathbb{R})$$

$$1.19. \begin{pmatrix} 0 & 1 & 0 \\ 0 & 0 & 0 \\ 0 & 0 & 0 \end{pmatrix}$$

$$1.20. \begin{pmatrix} a & 0 & 0 \\ 0 & b & 0 \\ 0 & 0 & c \end{pmatrix} \quad (\alpha, b, c) \in \mathbb{R}$$

$$1.21. \begin{pmatrix} a & b & c \\ 0 & 0 & 0 \\ 0 & 0 & 0 \end{pmatrix} \quad (\alpha, b, c) \in \mathbb{R}$$

Является ли подмножество L элементов линейного пространства V его подпространством, если V – множество многочленов с вещественными коэффициентами, степень каждого из которых не выше трех, L – множество многочленов вида

$$1.22. \quad \alpha x^2 + bx + c \quad (\alpha, b, c \in \mathbb{R}).$$

$$1.23. \quad \alpha x^2 + bx + c \quad (\alpha, b, c \in \mathbb{R}, \alpha \neq 0)$$

$$1.24. \quad \alpha x^2 + b \quad (a, b \in \mathbb{R})$$

1.25. Пусть α – фиксированный вектор евклидова пространства V , α – фиксированное действительное число. Будет ли множество всех векторов x , для которых $(x, \alpha) = \alpha$, линейным подпространством пространства V ?

1.26. Будет ли линейным пространством множество многочленов $f(t)$ от одного переменного с действительными коэффициентами, удовлетворяющих условиям:

$$а) \quad f(0) = 1, \quad б) \quad f(0) = 0.$$

$$в) \quad 2f(0) - 3f(1) = 0; \quad г) \quad f(1) + f(2) + \dots + f(k) = 0.$$

1.27. Будет ли линейным пространством множество всех многочленов данной степени n ?

1.28. Является ли линейным пространством множество векторов на плоскости, концы которых лежат на данной прямой? Предполагается, что начало каждого вектора находится в фиксированной точке "0" плоскости, являющейся началом прямоугольной системы координат.

1.29. Можно ли определить на множестве из двух элементов операции сложения и умножения на число так, чтобы это множество стало линейным пространством ?

1.30. Выяснить образует ли данное множество функций на произвольном отрезке $[\alpha, b]$ линейное пространство относительно обычных операций сложения и умножения на число:

множество функций, непрерывных на $[\alpha, b]$;

множество функций, дифференцируемых на $[\alpha, b]$;

множество функций, интегрируемых на $[\alpha, b]$;

множество функций, неотрицательных на $[\alpha, b]$;

Задача № 2

2.1. Показать, что в линейном вещественном пространстве вещественных квадратных матриц второго порядка векторы $e_1 = \begin{pmatrix} 1 & 0 \\ 0 & 0 \end{pmatrix}$,

$$e_2 = \begin{pmatrix} 0 & 2 \\ 0 & 0 \end{pmatrix},$$

$$e_3 = \begin{pmatrix} 0 & 0 \\ 3 & 0 \end{pmatrix},$$

$e_4 = \begin{pmatrix} 0 & 0 \\ 0 & -1 \end{pmatrix}$ образуют базис, и найти в

указанном базисе координаты вектора $x = \begin{pmatrix} 2 & 6 \\ -3 & 5 \end{pmatrix}$.

2.2. Известно, что любой вектор $x \in V$ линейно выражается через векторы e_1, e_2, \dots, e_n этого пространства. Образуют ли векторы e_1, e_2, \dots, e_n базис пространства V ?

2.3. Выяснить, образует ли базис в пространстве $R^3 = \{x = (\alpha_1; \alpha_2; \alpha_3) \mid \alpha_i \in R\}$ данная система векторов:

а) $(1, 0, 0)$, $(0, 1, 0)$, $(0, 0, 1)$

б) $(1, 2, -7)$, $(0, 3, 1)$, $(0, 0, 1)$

в) $(1, 0, 0)$, $(0, 1, 0)$, $(1, 1, 0)$

г) $(3, 0, 5)$, $(1, 2, -1)$

д) $(1, 2, -1)$, $(2, 3, 4)$, $(-1, 7, 2)$, $(3, 4, 6)$.

Выяснить, образует ли базис в линейном пространстве квадратных матриц $A=(a_{ij})$ ($a_{ij} \in \mathbb{R}$) 2-го порядка данная система векторов:

$$2.4. \text{ а) } \begin{pmatrix} 1 & 0 \\ 0 & 0 \end{pmatrix}, \begin{pmatrix} 0 & 1 \\ 0 & 0 \end{pmatrix}, \begin{pmatrix} 0 & 0 \\ 1 & 0 \end{pmatrix}, \begin{pmatrix} 0 & 0 \\ 0 & 1 \end{pmatrix};$$

$$\text{б) } \begin{pmatrix} 1 & 0 \\ 0 & 0 \end{pmatrix}, \begin{pmatrix} 0 & 1 \\ 0 & 0 \end{pmatrix}, \begin{pmatrix} 0 & 0 \\ 1 & 0 \end{pmatrix};$$

$$\text{в) } \begin{pmatrix} 1 & 0 \\ 0 & 0 \end{pmatrix}, \begin{pmatrix} 0 & 1 \\ 0 & 0 \end{pmatrix}, \begin{pmatrix} 0 & 0 \\ 0 & 1 \end{pmatrix}, \begin{pmatrix} 1 & 0 \\ 1 & 0 \end{pmatrix};$$

$$2.5. \text{ а) } \begin{pmatrix} -1 & 0 \\ 0 & 0 \end{pmatrix}, \begin{pmatrix} 0 & -1 \\ 0 & 0 \end{pmatrix}, \begin{pmatrix} 0 & 0 \\ 1 & 0 \end{pmatrix}, \begin{pmatrix} 0 & 0 \\ 0 & -1 \end{pmatrix};$$

$$\text{б) } \begin{pmatrix} 2 & 3 \\ 0 & 4 \end{pmatrix}, \begin{pmatrix} -1 & 7 \\ 2 & 4 \end{pmatrix}, \begin{pmatrix} 3 & 4 \\ 0 & 7 \end{pmatrix}, \begin{pmatrix} -1 & 0 \\ 0 & 5 \end{pmatrix}, \begin{pmatrix} 0 & 0 \\ 5 & 7 \end{pmatrix}.$$

Выяснить, образует ли базис в линейном пространстве многочленов с вещественными коэффициентами, степень каждого из которых не выше двух, данная система векторов.

$$2.6. \text{ а) } 1, x, x^2; \text{ б) } 3, x-2, x+1.$$

$$2.7. \text{ а) } 3x+3, x^2-1, x^2+3x+2; \text{ б) } 1, (x-2), (x-2)^2.$$

2.8. Доказать, что если e_1, e_2, e_3, e_4 - базис линейного пространства, то $e_1, x = \sum_{i=1}^4 \alpha_i e_i$ ($\alpha_2 \neq 0$), e_3, e_4 - также базис этого пространства.

Найти размерность и один из базисов линейного пространства решений системы:

$$2.9. \begin{cases} x_1 + 2x_2 - 3x_3 = 0, \\ 2x_1 - x_2 + x_3 = 0. \end{cases}$$

$$2.10. \begin{cases} 3x_1 - x_2 + x_3 + x_4 - x_5 = 0, \\ x_1 + 3x_2 - 2x_3 + x_4 - x_5 = 0, \\ 4x_1 + 2x_2 - x_3 + 2x_4 - 2x_5 = 0. \end{cases}$$

2.11. Указать координаты векторов α, β, γ в базисе e_1, e_2, e_3, e_4 , если:

$$\alpha = 2e_1 - e_2 + 3e_3 + 5e_4, \beta = 4e_2 - e_1, \gamma = e_3.$$

2.12. Найти координаты вектора $(3, 1, -2, 5, 6) \in \mathbb{R}^5$ в базисе.

$(1, 0, 0, 0, 0)$, $(0, 1, 0, 0, 0)$, $(0, 0, 1, 0, 0)$, $(0, 0, 0, 1, 0)$, $(0, 0, 0, 0, 1)$.

2.13. Найти координаты вектора $(3, 1, -2, 5, 6) \in \mathbb{R}^5$ в базисе: $(0, 1, 0, 0, 0)$, $(0, 0, 0, 1, 0)$, $(1, 0, 0, 0, 0)$, $(0, 0, 0, 0, 1)$, $(0, 0, 1, 0, 0)$.

2.14. Найти координаты каждого из указанных векторов пространства $\mathbb{R}_2(x)$ в базисе $x^2, x, 1$:

а) $3x^2 - 2x + 5$; б) $4x - 1$.

2.15. Найти координаты каждого из указанных векторов пространства $\mathbb{R}_2(x)$ в базисе $x^2, x, 1$: а) $4x - 1$, б) $(2x + 3)^2$.

2.16. Найти координаты каждого из указанных векторов пространства $\mathbb{R}_{2 \times 2}$ в базисе $\begin{pmatrix} 1 & 0 \\ 0 & 0 \end{pmatrix}, \begin{pmatrix} 0 & 0 \\ 1 & 0 \end{pmatrix}, \begin{pmatrix} 0 & 1 \\ 0 & 0 \end{pmatrix}, \begin{pmatrix} 0 & 0 \\ 0 & 1 \end{pmatrix}$:

а) $\begin{pmatrix} -1 & 2 \\ 5 & 1 \end{pmatrix}$, б) $\begin{pmatrix} 3 & -4 \\ 7 & 12 \end{pmatrix}$.

Даны координаты векторов α и β в некотором базисе. Найти координаты вектора γ в этом же базисе, если:

2.17. $\alpha(-1, 3, 4, 1)$, $\beta(2, 0, 1, -1)$, $\gamma = 3\alpha - \beta$.

2.18. $\alpha(0, 2, 4, 7)$, $\beta(-1, 8, 5, -3)$, $\gamma = 2\alpha + \beta$.

2.19. Даны векторы $\alpha = e_1 + e_2$, $\beta = 2e_1 - e_2$, где e_1, e_2 – базис. Доказать, что векторы α и β образуют базис. Найти координаты вектора $\gamma = 2e_1 - 4e_2$ в базисе e_1, e_2 .

2.20. Даны векторы $\alpha = 2e_1 + 3e_2 + e_3$, $\beta = -3e_1 + 2e_2 + 4e_3$, $\gamma = e_1 - e_2 - 5e_3$, где e_1, e_2, e_3 – базис. Доказать, что векторы α, β, γ образуют базис. Найти координаты вектора $\delta = 4e_1 + e_2 - 9e_3$ в базисе α, β, γ .

Выяснить, является ли вектор δ линейной комбинацией остальных векторов, и если является, то найти эту линейную комбинацию:

2.21. $\alpha_1(2, -3, 4)$, $\alpha_2(3, -1, 4)$, $\delta(5, 3, 4)$.

$$2.22. \alpha_1 = \begin{pmatrix} 1 & 2 \\ -3 & 4 \end{pmatrix}, \alpha_2 = \begin{pmatrix} 3 & 7 \\ 2 & 1 \end{pmatrix}, d = \begin{pmatrix} 1 & 4 \\ 2 & 3 \end{pmatrix}.$$

$$2.23. \alpha_1(2, -3, 4), \alpha_2(3, -1, 4), d(0, 0, 9).$$

$$2.24. \alpha_1 = \begin{pmatrix} 1 & 2 \\ -3 & 1 \end{pmatrix}, \alpha_2 = \begin{pmatrix} 0 & 7 \\ 2 & -1 \end{pmatrix}, d = \begin{pmatrix} 2 & 39 \\ 4 & -3 \end{pmatrix}.$$

$$2.25. \alpha_1 = 2 + x + x^2, \alpha_2 = 3 + 5x, d = 1 - 3x + 2x^2.$$

$$2.26. \alpha_1 = 1 + x + x^2, \alpha_2 = 1 - x, d = 2 + 4x + 3x^2.$$

Найти наибольшее число линейно независимых векторов в системе:

$$2.27. x_1(2, -1, 3, 4), x_2(1, 5, 13), x_3(-1, 0, 2, 5), x_4(0, -6, 4, 6), x_5(1, 6, -2, 1).$$

$$2.28. x_1(-1, 2, 0, 7), x_2(1, 3, -1, 0), x_3(4, 1, 2, 5), x_4(4, 6, 1, 12), x_5(7, 14, 2, 31).$$

Найти все значения λ , при которых вектор d является линейной комбинацией векторов $\alpha_1, \alpha_2, \alpha_3$, если

$$2.29. \alpha_1(2, -1, 3), \alpha_2(3, 1, 4), \alpha_3(1, -1, 2), d(8, \lambda, 12).$$

$$2.30. \alpha_1(3, \lambda, 4), \alpha_2(\lambda, 1, 3), \alpha_3(0, 5, 1), d(3 - 3\lambda, \lambda + 2, -4).$$

Задача № 3

3.1. В линейном вещественном пространстве вещественных квадратных матриц 2-го порядка найти матрицу перехода от базиса

$$e_1 = \begin{pmatrix} 1 & 0 \\ 0 & 0 \end{pmatrix}, e_2 = \begin{pmatrix} 0 & 1 \\ 0 & 0 \end{pmatrix}, e_3 = \begin{pmatrix} 0 & 0 \\ 1 & 0 \end{pmatrix}, e_4 = \begin{pmatrix} 0 & 0 \\ 0 & 1 \end{pmatrix} \text{ к базису } e_1' = \begin{pmatrix} 2 & 0 \\ 0 & 0 \end{pmatrix},$$

$$e_2' = \begin{pmatrix} 1 & 2 \\ 0 & 0 \end{pmatrix}, e_3' = \begin{pmatrix} 0 & 2 \\ 3 & 0 \end{pmatrix}, e_4' = \begin{pmatrix} 0 & 0 \\ 0 & -1 \end{pmatrix}.$$

3.2. Дана матрица $T = \begin{pmatrix} 3 & -2 \\ 1 & 2 \end{pmatrix}$ перехода от базиса e_1, e_2 к базису e_1', e_2' .

Найти координаты вектора $\alpha = 4e_1 + e_2$ в базисе e_1', e_2' .

3.3. В пространстве V_3 найти матрицу перехода от базиса $\bar{i}, \bar{j}, \bar{k}$ к базису:

$$a) \bar{i}, \bar{j}, -\bar{k}; \quad б) \bar{j}, \bar{i}, \bar{k}.$$

3.4. Найти матрицу перехода от базиса e_1, e_2, e_3, e_4, e_5 к базису e_2, e_3, e_1, e_5, e_4 .

3.5. В пространстве $R_3(x)$ найти матрицу перехода от базиса $x^2, x, 1$ к базису $(x+1)^2, (x+1), 1$.

3.6. В пространстве R^2 найти матрицу перехода от базиса α, b к базису $\alpha+b, \alpha-b$.

Дана матрица $\begin{pmatrix} 2 & -1 & 0 \\ 1 & -2 & 1 \\ -1 & 1 & 0 \end{pmatrix}$ перехода от базиса e_1, e_2, e_3 к базису e_1', e_2', e_3' ,

e_3' . Найти координаты вектора:

3.7. e_2' в базисе e_1, e_2, e_3 .

3.8. e_3 в базисе e_1', e_2', e_3'

Найти матрицу перехода от базиса e_1, e_2, e_3 к базису α, b, c и матрицу перехода от базиса α, b, c к e_1, e_2, e_3 , если:

3.9. $\alpha=2e_1+2e_3, b=3e_3-e_2, c=3e_1+e_3$.

3.10. $\alpha=e_1+e_2+e_3, b=e_3, c=e_1+2e_2+3e_3$.

3.11. $\alpha=e_1-3e_2+2e_3, b=2e_1+4e_2+e_3, c=3e_2$.

3.12. $\alpha=5e_2, b=2e_1+3e_2+e_3, c=2e_2-e_1-2e_3$.

Даны два базиса: e_1, e_2 и e_1', e_2' . Найти координаты вектора x в базисе e_1, e_2 , если:

3.13. $e_1'=2e_1+3e_2, e_2'=e_2-e_1, x=e_1'-3e_2'$.

3.14. $e_1'=e_2-e_1, e_2'=3e_2, x=2e_1'+4e_2'$.

Даны два базиса: e_1, e_2 и e_1', e_2' . Найти координаты вектора x в базисе e_1', e_2' , если:

3.15. $e_1'=e_1+3e_2, e_2'=e_1-e_2, x=2e_1-5e_2$.

3.16. $e_1'=2e_1+3e_2, e_2'=e_1+4e_2, x=5e_1+7e_2$.

Даны два базиса: e_1, e_2, e_3 и e'_1, e'_2, e'_3 . Найти координаты вектора x в базисе e'_1, e'_2, e'_3 если:

3.17. $e'_1 = e_1 + e_2 + e_3, e'_2 = 3e_1 + 4e_3, e'_3 = e_3, x = 3e_1 - 2e_2 + e_3$.

3.18. $e'_1 = 2e_1 + 2e_2 + e_3, e'_2 = -2e_1 + e_2 + 2e_3, e'_3 = e_1 - 2e_2 + 2e_3, x = 2e_1 + 2e_2 + e_3$.

Найти матрицу перехода от базиса α_1, α_2 к базису b_1, b_2 по указанным разложениям этих векторов в базисе e_1, e_2 :

3.19. $\alpha_1 = e_1 + 4e_2, \alpha_2 = 3e_1 + 5e_2, b_1 = 7e_1 + e_2, b_2 = e_2$.

3.20. $\alpha_1 = e_1 - e_2, \alpha_2 = 2e_1 + 5e_2, b_1 = 2e_1 - 3e_2, b_2 = 5e_2 - 3e_1$.

Найти матрицу перехода от базиса $\alpha_1, \alpha_2, \alpha_3$ к базису b_1, b_2, b_3 по указанным разложениям этих векторов в базисе e_1, e_2, e_3 :

3.21. $\alpha_1 = 3e_1 + 2e_2 + e_3, \alpha_2 = e_1 - 2e_2 + e_3, \alpha_3 = 2e_1 + 2e_2 + 3e_3, b_1 = e_1 + e_2, b_2 = e_1 - e_3, b_3 = e_1 + e_2 + e_3$.

3.22. $\alpha_1 = e_1 + e_3, \alpha_2 = 2e_1 + e_2, \alpha_3 = 3e_1 + 2e_2, b_1 = 3e_1 + 2e_2, b_2 = e_1 + 7e_2 + e_3, b_3 = 4e_3 - 2e_1$.

3.23. Доказать, что любой ненулевой вектор пространства можно включить в некоторый базис этого пространства.

3.24. Доказать, что любую линейно независимую систему векторов можно дополнить до базиса пространства.

3.25. В пространстве R^4 найти два различных базиса, имеющих общие векторы $e_1 = (1, 1, 0, 0), e_2 = (0, 0, 1, 1)$.

3.26. Систему многочленов $t^5 + t^4, t^5 - 3t^3, t^5 + 2t^2, t^5 - t$ дополнить до базиса пространства $R^5(t)$ (пространство многочленов степени ≤ 5 с действительными коэффициентами).

Проверить, образуют ли векторы e_1, \dots, e_n базис пространства R^4 и найти координаты вектора x в этом базисе:

3.27. $e_1 = (2, 2, -1), e_2 = (2, -1, 2), e_3 = (-1, 2, 2), x = (1, 1, 1)$.

3.28. $e_1 = (1, 2, 1, 1), e_2 = (2, 3, 1, 0), e_3 = (3, 1, 1, -2), e_4 = (4, 2, -1, -6), x = (0, 0, 2, 7)$.

Найти коэффициенты многочлена $t^5 - t^4 + t^3 - t^2 - t + 1$ в базисе пространства $R^5(t)$ (многочленов с действительными коэффициентами степени ≤ 5).

$$3.29. 1, t+1, t^2+1, t^3+1, t^4+1, t^5+1.$$

$$3.30. 1+t^3, t+t^3, t^2+t^3, t^3, t^4+t^3, t^5+t^3.$$

Задача № 4

Выяснить, какие из преобразований трехмерного пространства R^3 являются линейными. Для линейных преобразований найти матрицу в каноническом базисе: $e_1=(1,0,0)$, $e_2=(0,1,0)$, $e_3=(0,0,1)$.

$$4.1. \begin{cases} f(x) = (\alpha_1 + \alpha_2, \alpha_3 + \alpha_1, 2\alpha_1 + \alpha_2 + \alpha_3) \\ \varphi(x) = (\alpha_1^2, \alpha_1 + 2\alpha_2, \alpha_3 + \alpha_1) \end{cases}$$

$$4.2. \begin{cases} f(x) = (\alpha_1 - \alpha_2 + 1, 3\alpha_1 + \alpha_2, \alpha_3) \\ \varphi(x) = (-\alpha_1 + 2\alpha_2, \alpha_2 - \alpha_1, \alpha_1 + 2\alpha_2 - 2\alpha_3) \end{cases}$$

$$4.3. \begin{cases} f(x) = (\alpha_1 + 2\alpha_2, \alpha_2 - \alpha_3, \alpha_1 + 2\alpha_2) \\ \varphi(x) = (\alpha_1 + 3\alpha_2, \alpha_2 + 2, \alpha_3 - \alpha_1) \end{cases}$$

$$4.4. \begin{cases} f(x) = (\alpha_1 + \alpha_2 + \alpha_3, 2\alpha_1 + 2\alpha_2 + 2\alpha_3, \alpha_1 + \alpha_2 + \alpha_3) \\ \varphi(x) = (\alpha_1 + 5\alpha_2 + \alpha_3, \alpha_2, \alpha_3 - 1) \end{cases}$$

$$4.5. \begin{cases} f(x) = (\alpha_1 - \alpha_2, \alpha_3 - \alpha_2, 2\alpha_1 - \alpha_2 + \alpha_3) \\ \varphi(x) = (2\alpha_1, 3\alpha_2 + \alpha_3, \alpha_3 - 1) \end{cases}$$

$$4.6. \begin{cases} f(x) = (\alpha_1 - \alpha_2 + \alpha_3, 2\alpha_1 - 2\alpha_2 + 2\alpha_3, \alpha_1 - \alpha_2 + \alpha_3) \\ \varphi(x) = (2\alpha_1 - \alpha_3, \alpha_2 + \alpha_3 - 2, 3\alpha_3) \end{cases}$$

$$4.7. \begin{cases} f(x) = (\alpha_1 + 2\alpha_2, \alpha_3^2, \alpha_3 - \alpha_2) \\ \varphi(x) = (\alpha_2, \alpha_3 - \alpha_1, -3\alpha_1 + 2\alpha_2 + 3\alpha_3) \end{cases}$$

$$4.8. \begin{cases} f(x) = (\alpha_2 - \alpha_3, \alpha_3 - \alpha_1, \alpha_1 + 2\alpha_2 - \alpha_3) \\ \varphi(x) = (\alpha_2 + 2\alpha_3, \alpha_1 - \alpha_2 + 3, \alpha_1 + \alpha_2) \end{cases}$$

$$4.9. \begin{cases} f(x) = (2\alpha_1 - 1, \alpha_2 - \alpha_1, \alpha_3 - \alpha_1) \\ \varphi(x) = (-\alpha_1, 3\alpha_1 + \alpha_2 + \alpha_3, \alpha_2 + \alpha_3) \end{cases}$$

$$4.10. \begin{cases} f(x) = (3\alpha_1 - 3, \alpha_2 - \alpha_3, \alpha_1 + \alpha_2 - \alpha_3) \\ \varphi(x) = (2\alpha_1 + \alpha_3, \alpha_1 + \alpha_2 + \alpha_3, -2\alpha_2 - \alpha_3) \end{cases}$$

- 4.11. $f(x) = (2\alpha_1 - \alpha_2, \alpha_3 - \alpha_1, 2\alpha_3 - \alpha_2)$
 $\varphi(x) = (3\alpha_1 + \alpha_2, \alpha_2^2 + \alpha_3, \alpha_3 - \alpha_1)$
- 4.12. $f(x) = ((\alpha_2 - \alpha_1)^2, \alpha_2 - \alpha_3, \alpha_3 - \alpha_1)$
 $\varphi(x) = (5\alpha_1 - \alpha_2, -\alpha_2 + \alpha_3, 5\alpha_1 + \alpha_2 - 2\alpha_3)$
- 4.13. $f(x) = (\alpha_1 + 2\alpha_2 + \alpha_3, \alpha_1 + 2\alpha_2 + \alpha_3, \alpha_1 + 2\alpha_2 + \alpha_3)$
 $\varphi(x) = (\alpha_2 - \alpha_3, \alpha_2 - 2, \alpha_3 - \alpha_1)$
- 4.14. $f(x) = (\alpha_1 - 2\alpha_2, \alpha_1 - \alpha_2 + 2\alpha_3, \alpha_2 + 2\alpha_3)$
 $\varphi(x) = (\alpha_1 - 3\alpha_3, \alpha_2 - \alpha_3, \alpha_3 - 2)$
- 4.15. $f(x) = (\alpha_1 + \alpha_2 - \alpha_3, \alpha_1 + \alpha_2 - \alpha_3, 2\alpha_1 + 2\alpha_2 - 2\alpha_3)$
 $\varphi(x) = (\alpha_3 - \alpha_1, 2\alpha_2 - \alpha_1, \alpha_1 - 1)$
- 4.16. $f(x) = (\alpha_1 - \alpha_2 - \alpha_3, 2\alpha_1 + \alpha_2, 3\alpha_2 + 2\alpha_3)$
 $\varphi(x) = (\alpha_1, (\alpha_2 - \alpha_1)^2, \alpha_2 + \alpha_3)$
- 4.17. $f(x) = (2\alpha_1 - \alpha_2 + \alpha_3, \alpha_1 - \alpha_2 + \alpha_3, \alpha_1)$
 $\varphi(x) = (2\alpha_1 + \alpha_3, \alpha_2 + \alpha_3 - 1, 3\alpha_3)$
- 4.18. $f(x) = (\alpha_1 - 2\alpha_2 + 3\alpha_3, 2\alpha_1 - 4\alpha_2 + 6\alpha_3, -\alpha_1 + 2\alpha_2 - 3\alpha_3)$
 $\varphi(x) = (\alpha_1 + \alpha_2, \alpha_2 + \alpha_3, \alpha_3 + \alpha_1 - 1)$
- 4.19. $f(x) = (\alpha_1 - 2\alpha_2 + \alpha_3, 2\alpha_1 - 2\alpha_2 - \alpha_3, -\alpha_1 + 2\alpha_3)$
 $\varphi(x) = (\alpha_1 - 1, \alpha_2 + 2\alpha_3, \alpha_3)$
- 4.20. $f(x) = (-2\alpha_1 - 3\alpha_3, \alpha_2 + 3\alpha_3, -2\alpha_1 + \alpha_2)$
 $\varphi(x) = (\alpha_2^2, \alpha_1 - \alpha_1, \alpha_1 + 2\alpha_3)$
- 4.21. $f(x) = (2\alpha_2, \alpha_1 + \alpha_2 - \alpha_3, \alpha_1 - \alpha_3)$
 $\varphi(x) = (\alpha_1 + 2\alpha_2, \alpha_3 - 1, \alpha_1 + 2\alpha_2)$
- 4.22. $f(x) = (-\alpha_1 + \alpha_3, \alpha_2 + 2\alpha_3, 2\alpha_1 + 2\alpha_2)$
 $\varphi(x) = (\alpha_1 - 2\alpha_3, \alpha_3 - 2\alpha_2, \alpha_1 - 1)$
- 4.23. $f(x) = (2\alpha_1 - \alpha_2 - \alpha_3, 2\alpha_1 - \alpha_2 - \alpha_3, 2\alpha_1 - \alpha_2 - \alpha_3)$
 $\varphi(x) = (\alpha_1 + 2\alpha_1, \alpha_2 + 2, \alpha_3 - \alpha_1)$
- 4.24. $f(x) = (\alpha_2 - 2\alpha_1, \alpha_3 - 1, \alpha_2 + 2\alpha_3)$
 $\varphi(x) = (\alpha_1 - \alpha_2 + 2\alpha_3, -\alpha_1 + \alpha_2 - 2\alpha_3, 2\alpha_1 - 2\alpha_2 + 4\alpha_3)$

$$4.25. \quad \begin{aligned} f(x) &= (\alpha_2 - 3\alpha_3, \alpha_3 - 3\alpha_2, \alpha_1 - 3) \\ \varphi(x) &= (\alpha_1 + 5\alpha_2, \alpha_2 + 5\alpha_3, \alpha_1 + 4\alpha_2 - 5\alpha_3) \end{aligned}$$

$$4.26. \quad \begin{aligned} f(x) &= (2\alpha_1 - \alpha_3, 2\alpha_2 - \alpha_1, 4\alpha_2 - \alpha_3) \\ \varphi(x) &= (2\alpha_1 - 3, \alpha_1 - 3\alpha_3, \alpha_3 - 3\alpha_2) \end{aligned}$$

$$4.27. \quad \begin{aligned} f(x) &= (4\alpha_1 - \alpha_2, 4\alpha_2 - \alpha_1, 4\alpha_1 + 3\alpha_2 - \alpha_3) \\ \varphi(x) &= ((\alpha_1 + \alpha_2)^2, \alpha_1 + \alpha_2, \alpha_3) \end{aligned}$$

$$4.28. \quad \begin{aligned} f(x) &= (3\alpha_1 - \alpha_3, 3\alpha_2 - \alpha_1, 2\alpha_1 + 3\alpha_2 - \alpha_3) \\ \varphi(x) &= (\alpha_3 - \alpha_1, \alpha_2 - \alpha_1, \alpha_1 - 5) \end{aligned}$$

$$4.29. \quad \begin{aligned} f(x) &= (\alpha_3 - 2\alpha_1, \alpha_2 - 2\alpha_3, \alpha_2 - 4\alpha_1) \\ \varphi(x) &= (\alpha_1 - \alpha_2, (\alpha_2 - \alpha_3)^2, \alpha_3 - \alpha_1) \end{aligned}$$

$$4.30. \quad \begin{aligned} f(x) &= (\alpha_1 + 2\alpha_3, \alpha_1 + \alpha_2 - \alpha_3, \alpha_2 + \alpha_3) \\ \varphi(x) &= (\alpha_3 - \alpha_1, \alpha_2 + 2\alpha_1, \alpha_1 - 3) \end{aligned}$$

Задача № 5

Линейный оператор f пространства V^2 в базисе e_1, e_2 имеет матрицу A , а линейный оператор φ задан своим действием на базисные векторы $\alpha_1 = c_{11}e_1 + c_{21}e_2, \alpha_2 = c_{12}e_1 + c_{22}e_2$, следующим образом:

$$\varphi(\alpha_1) = \beta_{11}\alpha_1 + \beta_{21}\alpha_2,$$

$$\varphi(\alpha_2) = \beta_{12}\alpha_1 + \beta_{22}\alpha_2.$$

Найти матрицы линейных операторов $f\varphi, \gamma_1 f + \gamma_2 \varphi$ в базисе α_1, α_2 .

$$5.1. \quad A = \begin{pmatrix} 1 & 3 \\ 2 & 5 \end{pmatrix}; \quad \begin{cases} \alpha_1 = e_1 - e_2; \\ \alpha_2 = e_1; \end{cases} \quad \begin{cases} \varphi(\alpha_1) = 2\alpha_1 - \alpha_2; & \gamma_1 = 1, \\ \varphi(\alpha_2) = 2\alpha_1 + 5\alpha_2; & \gamma_2 = 3. \end{cases}$$

$$5.2. \quad A = \begin{pmatrix} 1 & 0 \\ -1 & 5 \end{pmatrix}; \quad \begin{cases} \alpha_1 = 2e_1 - e_2; \\ \alpha_2 = e_1 + e_2; \end{cases} \quad \begin{cases} \varphi(\alpha_1) = \alpha_1 + \alpha_2; & \gamma_1 = 2, \\ \varphi(\alpha_2) = \alpha_1 + 2\alpha_2; & \gamma_2 = 1. \end{cases}$$

$$5.3. \quad A = \begin{pmatrix} 1 & -3 \\ -2 & 4 \end{pmatrix}; \quad \begin{cases} \alpha_1 = 2e_1; \\ \alpha_2 = e_1 - e_2; \end{cases} \quad \begin{cases} \varphi(\alpha_1) = \alpha_1 + \alpha_2; & \gamma_1 = 2, \\ \varphi(\alpha_2) = \alpha_1; & \gamma_2 = 3. \end{cases}$$

$$5.4. \quad A = \begin{pmatrix} 1 & -2 \\ 2 & 1 \end{pmatrix}; \quad \begin{cases} \alpha_1 = 3e_2; \\ \alpha_2 = e_1 + e_2; \end{cases} \quad \begin{cases} \varphi(\alpha_1) = \alpha_1 - \alpha_2; & \gamma_1 = -1, \\ \varphi(\alpha_2) = 2\alpha_2; & \gamma_2 = 3. \end{cases}$$

$$5.5. A = \begin{pmatrix} 0 & 2 \\ 1 & 3 \end{pmatrix}; \begin{cases} a_1 = 5e_1; \\ a_2 = e_1 + 5e_2; \end{cases} \begin{cases} \varphi(a_1) = 2a_2; \\ \varphi(a_2) = a_1 + 2a_2; \end{cases} \begin{cases} \gamma_1 = -2, \\ \gamma_2 = 1. \end{cases}$$

$$5.6. A = \begin{pmatrix} 0 & -3 \\ -1 & 2 \end{pmatrix}; \begin{cases} a_1 = 3e_1 - e_2; \\ a_2 = e_1 + 5e_2; \end{cases} \begin{cases} \varphi(a_1) = 3a_1 - a_2; \\ \varphi(a_2) = a_1 - 2a_2; \end{cases} \begin{cases} \gamma_1 = 3, \\ \gamma_2 = 1. \end{cases}$$

$$5.7. A = \begin{pmatrix} 1 & 1 \\ -5 & 3 \end{pmatrix}; \begin{cases} a_1 = 2e_1 - e_2; \\ a_2 = 2e_1 + e_2; \end{cases} \begin{cases} \varphi(a_1) = 2a_1 - a_2; \\ \varphi(a_2) = a_1; \end{cases} \begin{cases} \gamma_1 = 5, \\ \gamma_2 = 1. \end{cases}$$

$$5.8. A = \begin{pmatrix} 2 & 3 \\ 1 & 4 \end{pmatrix}; \begin{cases} a_1 = e_1 - 2e_2; \\ a_2 = 5e_2; \end{cases} \begin{cases} \varphi(a_1) = a_1 + 2a_2; \\ \varphi(a_2) = a_2; \end{cases} \begin{cases} \gamma_1 = 3, \\ \gamma_2 = 2. \end{cases}$$

$$5.9. A = \begin{pmatrix} 1 & 2 \\ 3 & 5 \end{pmatrix}; \begin{cases} a_1 = e_2 - 2e_1; \\ a_2 = e_1 - e_2; \end{cases} \begin{cases} \varphi(a_1) = a_1 - 3a_2; \\ \varphi(a_2) = 2a_2; \end{cases} \begin{cases} \gamma_1 = -1, \\ \gamma_2 = -3. \end{cases}$$

$$5.10. A = \begin{pmatrix} 2 & -1 \\ 1 & 2 \end{pmatrix}; \begin{cases} a_1 = e_1 + 3e_2; \\ a_2 = 4e_1; \end{cases} \begin{cases} \varphi(a_1) = -2a_1; \\ \varphi(a_2) = a_1 - 2a_2; \end{cases} \begin{cases} \gamma_1 = 1, \\ \gamma_2 = 2. \end{cases}$$

$$5.11. A = \begin{pmatrix} 3 & 1 \\ 4 & 2 \end{pmatrix}; \begin{cases} a_1 = -e_1 + e_2; \\ a_2 = -e_1 + 2e_2; \end{cases} \begin{cases} \varphi(a_1) = -5a_1; \\ \varphi(a_2) = -a_1 + 2a_2; \end{cases} \begin{cases} \gamma_1 = 1, \\ \gamma_2 = 3. \end{cases}$$

$$5.12. A = \begin{pmatrix} -3 & 4 \\ 1 & 1 \end{pmatrix}; \begin{cases} a_1 = e_1 - 2e_2; \\ a_2 = e_1 - e_2; \end{cases} \begin{cases} \varphi(a_1) = 3a_1 + a_2; \\ \varphi(a_2) = 3a_2; \end{cases} \begin{cases} \gamma_1 = 2, \\ \gamma_2 = 5. \end{cases}$$

$$5.13. A = \begin{pmatrix} 3 & 1 \\ -1 & 2 \end{pmatrix}; \begin{cases} a_1 = 4e_1; \\ a_2 = e_1 + e_2; \end{cases} \begin{cases} \varphi(a_1) = -4a_1 - a_2; \\ \varphi(a_2) = a_1 + a_2; \end{cases} \begin{cases} \gamma_1 = 2, \\ \gamma_2 = 6. \end{cases}$$

$$5.14. A = \begin{pmatrix} 5 & 2 \\ 3 & 1 \end{pmatrix}; \begin{cases} a_1 = e_1; \\ a_2 = 5e_1 - e_2; \end{cases} \begin{cases} \varphi(a_1) = a_2; \\ \varphi(a_2) = 2a_1 + a_2; \end{cases} \begin{cases} \gamma_1 = 1, \\ \gamma_2 = 5. \end{cases}$$

$$5.15. A = \begin{pmatrix} 5 & 3 \\ -1 & 2 \end{pmatrix}; \begin{cases} a_1 = e_2; \\ a_2 = e_1 - e_2; \end{cases} \begin{cases} \varphi(a_1) = 2a_2; \\ \varphi(a_2) = 3a_1 - a_2; \end{cases} \begin{cases} \gamma_1 = 1, \\ \gamma_2 = 6. \end{cases}$$

$$5.16. A = \begin{pmatrix} 5 & -3 \\ 1 & 0 \end{pmatrix}; \begin{cases} a_1 = 2e_2; \\ a_2 = e_1 + 2e_2; \end{cases} \begin{cases} \varphi(a_1) = 3a_1; \\ \varphi(a_2) = a_1 + 5a_2; \end{cases} \begin{cases} \gamma_1 = 3, \\ \gamma_2 = -1. \end{cases}$$

$$5.17. A = \begin{pmatrix} 4 & -3 \\ 0 & 1 \end{pmatrix}; \begin{cases} a_1 = 3e_2; \\ a_2 = e_1 + 3e_2; \end{cases} \begin{cases} \varphi(a_1) = 4a_1; \\ \varphi(a_2) = 2a_1 - 4a_2; \end{cases} \begin{cases} \gamma_1 = 3, \\ \gamma_2 = -3. \end{cases}$$

$$5.18. A = \begin{pmatrix} 4 & 2 \\ 1 & 0 \end{pmatrix}; \begin{cases} a_1 = 4e_2; \\ a_2 = e_1 - 3e_2; \end{cases} \begin{cases} \varphi(a_1) = a_1 - 2a_2; \\ \varphi(a_2) = a_2 - a_1; \end{cases} \begin{cases} \gamma_1 = 3, \\ \gamma_2 = 4. \end{cases}$$

- 5.19. $A = \begin{pmatrix} 4 & 1 \\ 0 & -1 \end{pmatrix}$; $\begin{cases} a_1 = 5e_2; \\ a_2 = -e_1 + 2e_2; \end{cases} \begin{cases} \varphi(a_1) = a_1 - a_2; & \gamma_1 = 1, \\ \varphi(a_2) = 2a_2; & \gamma_2 = 7. \end{cases}$
- 5.20. $A = \begin{pmatrix} 3 & 2 \\ 0 & 1 \end{pmatrix}$; $\begin{cases} a_1 = -e_2; \\ a_2 = e_1 - 2e_2; \end{cases} \begin{cases} \varphi(a_1) = 2a_1 - a_2; & \gamma_1 = -2, \\ \varphi(a_2) = -2a_2; & \gamma_2 = 2. \end{cases}$
- 5.21. $A = \begin{pmatrix} 3 & -2 \\ 0 & -1 \end{pmatrix}$; $\begin{cases} a_1 = -2e_2; \\ a_2 = -e_1 + 3e_2; \end{cases} \begin{cases} \varphi(a_1) = 2a_1 + 5a_2; & \gamma_1 = -2, \\ \varphi(a_2) = -3a_1; & \gamma_2 = 3. \end{cases}$
- 5.22. $A = \begin{pmatrix} 0 & -2 \\ 3 & 1 \end{pmatrix}$; $\begin{cases} a_1 = -3e_2; \\ a_2 = 2e_1 - 3e_2; \end{cases} \begin{cases} \varphi(a_1) = 2a_1 - 5a_2; & \gamma_1 = -2, \\ \varphi(a_2) = -4a_2; & \gamma_2 = 4. \end{cases}$
- 5.23. $A = \begin{pmatrix} 0 & 1 \\ -3 & 2 \end{pmatrix}$; $\begin{cases} a_1 = -4e_2; \\ a_2 = 4e_1 - 3e_2; \end{cases} \begin{cases} \varphi(a_1) = 2a_1 - 6a_2; & \gamma_1 = -2, \\ \varphi(a_2) = 4a_2; & \gamma_2 = -4. \end{cases}$
- 5.24. $A = \begin{pmatrix} 0 & 3 \\ 5 & 2 \end{pmatrix}$; $\begin{cases} a_1 = -5e_2; \\ a_2 = 3e_1 - 2e_2; \end{cases} \begin{cases} \varphi(a_1) = 2a_1 - 7a_2; & \gamma_1 = -3, \\ \varphi(a_2) = a_2; & \gamma_2 = 1. \end{cases}$
- 5.25. $A = \begin{pmatrix} 0 & -1 \\ -5 & 2 \end{pmatrix}$; $\begin{cases} a_1 = 5e_2; \\ a_2 = 3e_1 + e_2; \end{cases} \begin{cases} \varphi(a_1) = 2a_1 - a_2; & \gamma_1 = -3, \\ \varphi(a_2) = 3a_2; & \gamma_2 = -1. \end{cases}$
- 5.26. $A = \begin{pmatrix} 0 & 2 \\ 5 & -2 \end{pmatrix}$; $\begin{cases} a_1 = 2e_2; \\ a_2 = -e_1 + 4e_2; \end{cases} \begin{cases} \varphi(a_1) = 3a_1 - a_2; & \gamma_1 = 4, \\ \varphi(a_2) = -3a_2; & \gamma_2 = 1. \end{cases}$
- 5.27. $A = \begin{pmatrix} 1 & 3 \\ 2 & 5 \end{pmatrix}$; $\begin{cases} a_1 = 3e_2; \\ a_2 = -e_1 + 4e_2; \end{cases} \begin{cases} \varphi(a_1) = 4a_1 - a_2; & \gamma_1 = 4, \\ \varphi(a_2) = a_1 - 4a_2; & \gamma_2 = -1. \end{cases}$
- 5.28. $A = \begin{pmatrix} 1 & -3 \\ -2 & 5 \end{pmatrix}$; $\begin{cases} a_1 = -e_1; \\ a_2 = e_1 + 2e_2; \end{cases} \begin{cases} \varphi(a_1) = 5a_1; & \gamma_1 = 1, \\ \varphi(a_2) = a_1 - 4a_2; & \gamma_2 = 2. \end{cases}$
- 5.29. $A = \begin{pmatrix} -1 & 3 \\ 2 & 0 \end{pmatrix}$; $\begin{cases} a_1 = -2e_1; \\ a_2 = e_1 - 3e_2; \end{cases} \begin{cases} \varphi(a_1) = a_1 - a_2; & \gamma_1 = 5, \\ \varphi(a_2) = -a_1 + 2a_2; & \gamma_2 = 1. \end{cases}$
- 5.30. $A = \begin{pmatrix} -1 & 5 \\ 3 & 0 \end{pmatrix}$; $\begin{cases} a_1 = e_1 - e_2; \\ a_2 = e_1 - 2e_2; \end{cases} \begin{cases} \varphi(a_1) = -2a_1; & \gamma_1 = -1, \\ \varphi(a_2) = 3a_1 - a_2; & \gamma_2 = -1. \end{cases}$

Задача № 6

Найти собственные значения и собственные векторы линейного оператора, заданного в некотором базисе матрицей:

6.1.
$$\begin{pmatrix} 5 & -4 & 2 \\ -4 & 5 & 2 \\ 2 & 2 & 8 \end{pmatrix}$$

6.8.

6.13.
$$\begin{pmatrix} 5 & 4 & 3 \\ 4 & 5 & 3 \\ 3 & 3 & 2 \end{pmatrix}$$

6.2.
$$\begin{pmatrix} 6 & -2 & 2 \\ -2 & 5 & 0 \\ 2 & 0 & 7 \end{pmatrix}$$

$$\begin{pmatrix} 2 & 2 & -4 \\ 2 & 5 & 2 \\ -4 & 2 & 2 \end{pmatrix}$$

6.14.

6.3.
$$\begin{pmatrix} 2 & 2 & -10 \\ 2 & 11 & 8 \\ -10 & 8 & 5 \end{pmatrix}$$

6.9.

$$\begin{pmatrix} 9 & -3 & -3 \\ -3 & 6 & 0 \\ -3 & 0 & 6 \end{pmatrix}$$

6.4.
$$\begin{pmatrix} 13 & -2 & 4 \\ -2 & 10 & -2 \\ 4 & -2 & 13 \end{pmatrix}$$

$$\begin{pmatrix} 17 & 8 & -4 \\ 8 & 17 & -4 \\ -4 & -4 & 11 \end{pmatrix}$$

6.15.

6.5.

$$\begin{pmatrix} 4 & 4 & -2 \\ 4 & 4 & -2 \\ -2 & -2 & 1 \end{pmatrix}$$

$$\begin{pmatrix} 2 & -2 & 0 \\ -2 & 1 & -2 \\ 0 & -2 & 0 \end{pmatrix}$$

6.16.

$$\begin{pmatrix} 1 & -4 & 0 \\ -4 & 5 & 4 \\ 0 & 4 & 1 \end{pmatrix}$$

6.11.

$$\begin{pmatrix} 1 & -2 & 0 \\ -2 & 2 & -2 \\ 0 & -2 & 3 \end{pmatrix}$$

6.6.

$$\begin{pmatrix} 7 & -2 & 4 \\ -2 & 4 & -2 \\ 4 & -2 & 7 \end{pmatrix}$$

6.17.

$$\begin{pmatrix} 5 & 8 & -10 \\ 8 & 11 & 8 \\ -10 & 8 & 5 \end{pmatrix}$$

6.12.

$$\begin{pmatrix} 6 & -2 & 2 \\ -2 & 5 & 0 \\ 2 & 0 & 7 \end{pmatrix}$$

6.7.

$$\begin{pmatrix} 14 & 2 & -4 \\ 2 & 17 & 2 \\ -4 & 2 & 14 \end{pmatrix}$$

6.18.

$$\begin{pmatrix} 7 & -8 & 16 \\ -8 & -5 & -8 \\ 16 & -8 & 7 \end{pmatrix}$$

$$\begin{pmatrix} 1 & -3 & -1 \\ -3 & 1 & 1 \\ -1 & 1 & 5 \end{pmatrix}$$

6.19.

$$\begin{pmatrix} -6 & 0 & 0 \\ 0 & -3 & 3 \\ 0 & 3 & -3 \end{pmatrix}$$

6.23.

$$\begin{pmatrix} 7 & -2 & 0 \\ -2 & 6 & -2 \\ 0 & -2 & 5 \end{pmatrix}$$

6.27.

$$\begin{pmatrix} 4 & -2 & 6 \\ -2 & 1 & -3 \\ 6 & -3 & 9 \end{pmatrix}$$

6.20.

$$\begin{pmatrix} 2 & -2 & -1 \\ -2 & 5 & 2 \\ -1 & 2 & 2 \end{pmatrix}$$

6.24.

$$\begin{pmatrix} 1 & 2 & -4 \\ 2 & 2 & -2 \\ -4 & -2 & 1 \end{pmatrix}$$

6.28.

$$\begin{pmatrix} 5 & -1 & 1 \\ -1 & 2 & -2 \\ 1 & -2 & 2 \end{pmatrix}$$

6.21.

$$\begin{pmatrix} 0 & 2 & 5 \\ 2 & -3 & -2 \\ 5 & -2 & 0 \end{pmatrix}$$

6.25.

$$\begin{pmatrix} 2 & 0 & 0 \\ 0 & 1 & -2\sqrt{2} \\ 0 & -2\sqrt{2} & 3 \end{pmatrix}$$

6.29.

$$\begin{pmatrix} -4 & 0 & 0 \\ 0 & -1 & 3 \\ 0 & 3 & -1 \end{pmatrix}$$

6.22.

$$\begin{pmatrix} -1 & 0 & 3 \\ 0 & 1 & 2 \\ 3 & 2 & -5 \end{pmatrix}$$

6.26.

$$\begin{pmatrix} -8 & -2 & 2 \\ -2 & -5 & 5 \\ 2 & 5 & -5 \end{pmatrix}$$

$$6.30. \begin{pmatrix} 8 & 2 & -2 \\ 2 & -1 & -11 \\ -2 & -11 & -1 \end{pmatrix}$$

Задача №7

Привести к каноническому виду уравнение линии 2-го порядка и схематически изобразить эту линию.

$$7.1. 32x^2 + 52xy - 7y^2 + 180 = 0$$

$$7.2. 5x^2 - 6xy + 5y^2 - 32 = 0.$$

$$7.3. 17x^2 - 12xy + 8y^2 = 0.$$

$$7.4. 5x^2 + 24xy - 5y^2 = 0.$$

- 7.5. $5x^2 - 6xy + 5y^2 + 8 = 0$.
- 7.6. $3x^2 + 10xy + 3y^2 - 2x - 14y - 13 = 0$.
- 7.7. $25x^2 - 14xy + 25y^2 + 64x - 64y - 224 = 0$.
- 7.8. $4xy + 3y^2 + 16x + 12y - 36 = 0$.
- 7.9. $7x^2 + 6xy - y^2 + 28x + 12y + 28 = 0$.
- 7.10. $19x^2 + 6xy + 11y^2 + 38x + 6y + 29 = 0$.
- 7.11. $5x^2 - 2xy + 5y^2 - 4x + 20y + 20 = 0$.
- 7.12. $14x^2 + 24xy + 21y^2 - 4x + 18y - 139 = 0$.
- 7.13. $11x^2 - 20xy - 4y^2 - 20x - 8y + 1 = 0$.
- 7.14. $7x^2 + 60xy + 32y^2 - 14x - 60y + 7 = 0$.
- 7.15. $50x^2 - 8xy + 35y^2 + 100x - 8y + 67 = 0$.
- 7.16. $41x^2 + 24xy + 34y^2 + 34x - 112y + 129 = 0$.
- 7.17. $29x^2 - 24xy + 36y^2 + 82x - 96y - 91 = 0$.
- 7.18. $4x^2 + 24xy + 11y^2 + 64x + 42y + 51 = 0$.
- 7.19. $41x^2 + 24xy + 9y^2 + 24x + 18y - 36 = 0$.
- 7.20. $9x^2 - 24xy + 16y^2 - 20x + 110y - 50 = 0$.
- 7.21. $9x^2 + 12xy + 4y^2 - 24x - 16y + 3 = 0$.
- 7.22. $16x^2 - 24xy + 9y^2 - 160x + 120y + 425 = 0$.
- 7.23. $9x^2 + 24xy + 16y^2 - 18x + 226y + 209 = 0$.
- 7.24. $x^2 - 2xy + y^2 - 12x + 12y - 14 = 0$.
- 7.25. $4x^2 + 12xy + 9y^2 - 4x - 6y + 1 = 0$.
- 7.26. $5x^2 + 4xy + 8y^2 - 32x - 56y + 80 = 0$.
- 7.27. $5x^2 + 12xy - 12y - 22x - 19 = 0$.
- 7.28. $x^2 - 4xy + 4y^2 + 4x - 3y - 7 = 0$.
- 7.29. $x^2 - 5xy + 4y^2 + x + 2y - 2 = 0$.
- 7.30. $4x^2 - 12xy + 9y^2 - 2x + 3y - 2 = 0$.

Задача № 8

Привести к каноническому виду уравнение поверхности 2-го порядка и схематично изобразить эту поверхность.

- 8.1. $x^2-2y^2+z^2+4xy-8zx-4yz-14x-4y+14z+16=0$.
- 8.2. $x^2+y^2-3z^2-6yz-6zx-2xy+2x+2y+4z=0$.
- 8.3. $6x^2-2y^2+6z^2+4xz+8x-4y-8z+1=0$.
- 8.4. $2x^2+9y^2+2z^2-4xy+4yz-1=0$.
- 8.5. $4y^2-3z^2+4xy-4xz+8yz=0$.
- 8.6. $x^2+y^2+4z^2-2xy+4xz-4yz-2x+2y+2z=0$.
- 8.7. $x^2+y^2+z^2-xy+xz+yz+3x+3y-3z=0$.
- 8.8. $x^2-3z^2-4yz-4y+2z+5=0$.
- 8.9. $x^2+y^2+z^2-2xy-4x+4y+3=0$.
- 8.10. $y^2+2xz+2x+2z+1=0$.
- 8.11. $x^2+2y^2+5z^2+4yz+20y+20z-10=0$.
- 8.12. $-x^2+5y^2+5z^2+8yz+2x+12y+24z+36=0$.
- 8.13. $2x^2+5y^2+5z^2+6yz+4x+16y+16z+10=0$.
- 8.14. $4x^2+4y^2-4xy-12x-12y-5z+1=0$.
- 8.15. $x^2+y^2+z^2+2xy-12x+4y+6z-3=0$.
- 8.16. $4x^2+9y^2-12xy+2x+10y+1=0$.
- 8.17. $6xy-8y^2-z^2+60y+2z+89=0$.
- 8.18. $5x^2+8y^2+4xy+2x+44y-36z+65=0$.
- 8.19. $16x^2+9y^2-z^2-24xy-9x-12y+4z+71=0$.
- 8.20. $2x^2+2y^2+z^2-10xy+20x-8y+29=0$.
- 8.21. $-x^2+7y^2-24yz+2x+120y=0$.
- 8.22. $x^2-4y^2-4z^2+10yz+2x+2y+2z+3=0$.
- 8.23. $3x^2+4xy+8x+8y-4z=0$.
- 8.24. $-x^2-9y^2+6xy+50x-50y-15z-100=0$.
- 8.25. $-x^2+y^2+z^2-2yz+2x+3y-5z+1=0$.
- 8.26. $5x^2+5y^2+3z^2+2xy+2\sqrt{2}xz+2\sqrt{2}yz+26x+34y+10\sqrt{2}z+49=0$.
- 8.27. $2x^2+9y^2+2z^2-4xy+4yz+4x+2y-4z-1=0$.
- 8.28. $4y^2-3z^2+4xy-4xz+8yz+4x-2z-1=0$.
- 8.29. $2x^2+2y^2+2z^2+2xy+2xz+2yz+4x-4y+4=0$.
- 8.30. $3x^2+3y^2+3z^2-2xy-2xz-2yz-8x+8y+4=0$.

Решение типового варианта

Задача № 1: Пусть R^+ - множество всех положительных чисел. Будем обозначать их буквами a, b, c, \dots . Сумму двух чисел a и b будем в этом множестве обозначать через $a \oplus b$ и определим равенства, $a \oplus b \stackrel{def}{=} a \cdot b$, где $a \cdot b$ - обычное произведение чисел a и b . Произведение любого числа λ на число $a \in R^+$ обозначим через $\lambda(\cdot)a$ и определим равенством $\lambda(\cdot)a \stackrel{def}{=} a^\lambda$. Показать, что R^+ - линейное действительное пространство размерности 1.

Решение: Заметим, что если $a \in R^+$, $b \in R^+$ то и $a \oplus b \in R^+$. Проведем доказательство аксиом 1°-8°.

$$1^\circ a \oplus b = b \oplus a, \text{ так как } ab = ba.$$

$$2^\circ (a \oplus b) \oplus c = a \oplus (b \oplus c), \text{ так как } (ab)c = a(bc).$$

3° В R^+ существует Θ , обозначаемый через 1, такой, что $a \oplus 1 = a$, так как $a \oplus 1 = 1 \cdot a = a$.

4° $\forall a \in R^+$ существует противоположный элемент, обозначаемый в R^+ через $1/a$, такой, что $a \oplus (1/a) = \Theta$, так как $a \oplus (1/a) = a \cdot (1/a) = 1$, где $1 = \Theta$.

$$5^\circ \alpha(\cdot)(a \oplus b) = (\alpha(\cdot)a) \oplus (\alpha(\cdot)b), \text{ так как } \alpha(\cdot)(a \oplus b) = (a \oplus b)^\alpha = (ab)^\alpha = a^\alpha \cdot b^\alpha = a^\alpha \oplus b^\alpha = (\alpha(\cdot)a) \oplus (\alpha(\cdot)b).$$

$$6^\circ (\alpha + \beta)(\cdot)a = (\alpha(\cdot)a) \oplus (\beta(\cdot)a), \text{ так как } (\alpha + \beta)(\cdot)a = a^{\alpha + \beta} = a^\alpha \cdot a^\beta = (\alpha(\cdot)a) \oplus (\beta(\cdot)a).$$

$$7^\circ \alpha(\cdot)(\beta(\cdot)a) = (\alpha\beta)(\cdot)a, \text{ так как } \alpha(\cdot)(\beta(\cdot)a) = (\beta(\cdot)a)^\alpha = (a^\beta)^\alpha = a^{\alpha\beta} = (\alpha\beta)(\cdot)a.$$

$$8^\circ 1(\cdot)a = a, \text{ так как } 1(\cdot)a = a^1 = a.$$

Таким образом, аксиомы выполнены, значит R^+ - линейное пространство.

В этом пространстве имеются ненулевые элементы, т.е. числа, отличные от 1. Поэтому его размерность больше 0. Однако любые два его элемента уже линейно зависимы, так как равенству

$$(\alpha(\cdot)a) \oplus (\beta(\cdot)b) = 1 \quad (*)$$

можно удовлетворить при одном из коэффициентов α или β , не равном 0. Действительно, равенство (*) равносильно равенству

$$\alpha^a \cdot \alpha^b = 1. (**)$$

Если $\alpha=1$ (т.е. $\alpha=\ominus$), то можно положить $\alpha=2, \beta=0$. Если $b=1$, то можно положить $\alpha=0, \beta=1$. Если $\alpha=b=1$, то равенство (**) справедливо при любых α и β .

Пусть $\alpha \neq 1, b \neq 1$. Положим $\alpha=2$. Тогда $\alpha^2 b^\beta = 1$, откуда $2 \ln a + \beta \ln b = 0$ и, следовательно, $\beta = -\frac{2 \ln a}{\ln b} \neq 0$.

Таким образом, равенство (**), а следовательно и равносильное ему равенство (*), имеет место хотя бы при одном из коэффициентов, не равном 0. Следовательно, любые два числа α и b из R^+ линейно зависимы. Это означает, что $\dim R^+ = 1$, что и требовалось.

Задача №2: Определить размерность и указать какой-либо базис линейной оболочки векторов $x_1=(3,2,0)$ $x_2=(-1,4,5)$ $x_3=(7,0,-5)$.

Решение: ранг матрицы $\begin{pmatrix} 3 & 2 & 0 \\ -1 & 4 & 5 \\ 7 & 0 & -5 \end{pmatrix}$ равен 2 и векторы x_1 и x_2 линейно

независимы.

Следовательно, размерность данного пространства равна 2 и в качестве базиса можно взять векторы x_1 и x_2 .

Задача №3: Найти матрицу перехода от базиса e_1, e_2, e_3, e_4 к базису e_3, e_4, e_2, e_1 .

Решение: Так как $(e_3, e_4, e_2, e_1) = (e_1, e_2, e_3, e_4)$ $\begin{pmatrix} 0 & 0 & 0 & 1 \\ 0 & 0 & 1 & 0 \\ 1 & 0 & 0 & 0 \\ 0 & 1 & 0 & 0 \end{pmatrix}$, то искомая матрица

$$C = \begin{pmatrix} 0 & 0 & 0 & 1 \\ 0 & 0 & 1 & 0 \\ 1 & 0 & 0 & 0 \\ 0 & 1 & 0 & 0 \end{pmatrix}.$$

$f(x) = (\alpha_1 - \alpha_2 + \alpha_3, \alpha_2 + 2\alpha_3, \alpha_1 + 3\alpha_3)$, $\varphi(x) = (\alpha_1 + 2\alpha_2, \alpha_1 - \alpha_2 - 1, 3\alpha_3)$ заданы своим действием на произвольный вектор $x = (\alpha_1, \alpha_2, \alpha_3)$.

1) Выяснить, какие из преобразований f, φ являются линейными.

2) Для линейных преобразований найти матрицу в каноническом базисе.

Решение: 1) Если $x_1 = (\beta_1, \beta_2, \beta_3)$, $x_2 = (\gamma_1, \gamma_2, \gamma_3) \in \mathbb{R}^3$, то $x_1 + x_2 = (\beta_1 + \gamma_1, \beta_2 + \gamma_2, \beta_3 + \gamma_3) \in \mathbb{R}^3$ и $\lambda x = (\lambda\alpha_1, \lambda\alpha_2, \lambda\alpha_3) \in \mathbb{R}^3$.

$$\begin{aligned} \text{Вычислим: } f(x_1 + x_2) &= ((\beta_1 + \gamma_1) - (\beta_2 + \gamma_2) + (\beta_3 + \gamma_3), (\beta_2 + \gamma_2) + 2(\beta_3 + \gamma_3), (\beta_1 + \gamma_1) + 3(\beta_3 + \gamma_3)) = \\ &= (\beta_1 - \beta_2 + \beta_3, \beta_2 + 2\beta_3, \beta_1 + 3\beta_3) + (\gamma_1 - \gamma_2 + \gamma_3, \gamma_2 + 2\gamma_3, \gamma_1 + 3\gamma_3) = f(x_1) + f(x_2). \end{aligned}$$

$$\begin{aligned} \text{Вычислим: } f(\lambda x) &= (\lambda\alpha_1 - \lambda\alpha_2 + \lambda\alpha_3, \lambda\alpha_2 + 2\lambda\alpha_3, \lambda\alpha_1 + 3\lambda\alpha_3) = \lambda(\alpha_1 - \\ & - \alpha_2 + \alpha_3, \alpha_2 + 2\alpha_3, \alpha_1 + 3\alpha_3) = \lambda f(x). \end{aligned}$$

Отсюда следует, что f - линейное преобразование (оператор) пространства \mathbb{R}^3 .

$$\text{Вычислим: } \varphi(x_1 + x_2) = ((\beta_1 + \gamma_1) + 2(\beta_2 + \gamma_2), (\beta_1 + \gamma_1) - (\beta_2 + \gamma_2) - 1, (\beta_3 + \gamma_3)).$$

$$\begin{aligned} \varphi(x_1) + \varphi(x_2) &= (\beta_1 + 2\beta_2, \beta_1 - \beta_2 - 1, \beta_3) + (\gamma_1 + 2\gamma_2, \gamma_1 - \gamma_2 - 1, \gamma_3) = ((\beta_1 + \gamma_1) + 2(\beta_2 + \gamma_2), (\beta_1 + \gamma_1) - \\ & - (\beta_2 + \gamma_2) - 2, \beta_3 + \gamma_3). \end{aligned}$$

Из последних равенств получаем, что $\varphi(x_1 + x_2) \neq \varphi(x_1) + \varphi(x_2)$ и, следовательно, преобразование φ не является линейным.

2) Найдем матрицу линейного оператора f в каноническом базисе:

$e_1 = (1, 0, 0)$, $e_2 = (0, 1, 0)$, $e_3 = (0, 0, 1)$, используя формулу для задания линейного оператора f , получим:

$$f(e_1) = (1, 0, 1) = 1e_1 + 0e_2 + 1e_3,$$

$$f(e_2) = (-1, 1, 0) = -1e_1 + 1e_2 + 0e_3,$$

$$f(e_3) = (1, 2, 3) = 1e_1 + 2e_2 + 3e_3.$$

Из определения матрицы линейного оператора следует, что $A = \begin{pmatrix} 1 & -1 & 1 \\ 0 & 1 & 2 \\ 1 & 0 & 3 \end{pmatrix}$

является матрицей преобразования f в каноническом базисе e_1, e_2, e_3 .

Задача №5: Линейное преобразование f пространства V_2 в базисе e_1, e_2 имеет матрицу $A = \begin{pmatrix} 1 & 2 \\ 0 & 1 \end{pmatrix}$, а линейное преобразование φ задано своим действием на базисные векторы $\alpha_1 = e_1 + e_2$, $\alpha_2 = 2e_1 + e_2$ следующим образом: $\varphi(\alpha_1) = \alpha_1 + \alpha_2$, $\varphi(\alpha_2) = \alpha_2$. Найти матрицы линейных преобразований $f\varphi$, $f+2\varphi$ в базисе α_1, α_2 .

Решение. Из определения матрицы линейного преобразования следует, что матрица $B = \begin{pmatrix} 1 & 0 \\ 1 & 1 \end{pmatrix}$ является матрицей преобразования φ в базисе α_1, α_2 . Пусть D -

матрица f в базисе α_1, α_2 , тогда $D = C^{-1}AC$, где $C = \begin{pmatrix} 1 & 2 \\ 1 & 1 \end{pmatrix}$ - матрица перехода от

базиса e_1, e_2 к базису α_1, α_2 . Имеем $|C| = -1$; $C^{-1} = \begin{pmatrix} -1 & -2 \\ 2 & 3 \end{pmatrix}$;

$$D = \begin{pmatrix} -1 & -2 \\ 2 & 3 \end{pmatrix} \begin{pmatrix} 1 & 2 \\ 0 & 1 \end{pmatrix} \begin{pmatrix} 1 & 2 \\ 1 & 1 \end{pmatrix} = \begin{pmatrix} -1 & -2 \\ 2 & 3 \end{pmatrix}.$$

Матрица $f\varphi$ в базисе α_1, α_2 равна $DB = \begin{pmatrix} -1 & -2 \\ 2 & 3 \end{pmatrix} \begin{pmatrix} 1 & 0 \\ 1 & 1 \end{pmatrix} = \begin{pmatrix} -3 & -2 \\ 5 & 3 \end{pmatrix}$, а матрица

$f+2\varphi$ в базисе α_1, α_2 равна $D+2B = \begin{pmatrix} -1 & -2 \\ 2 & 3 \end{pmatrix} + 2 \begin{pmatrix} 1 & 0 \\ 1 & 1 \end{pmatrix} = \begin{pmatrix} 1 & -2 \\ 4 & 5 \end{pmatrix}$, что и требовалось.

Задача № 6: Найти собственные значения и собственные векторы линейного оператора, заданного в некотором базисе матрицей $A = \begin{pmatrix} 9 & -2 & 2 \\ -2 & 10 & 0 \\ 2 & 0 & 8 \end{pmatrix}$.

Решение: Составим характеристический многочлен $\varphi(\lambda)$ линейного оператора $\varphi(\lambda) = |\lambda E - A| = \begin{vmatrix} \lambda - 9 & 2 & -2 \\ 2 & \lambda - 10 & 0 \\ -2 & 0 & \lambda - 8 \end{vmatrix} = \lambda^3 - 27\lambda^2 + 234\lambda - 648$.

Найдем собственные значения линейного оператора, решив характеристическое уравнение $\varphi(\lambda) = 0$:

$$\lambda^3 - 27\lambda^2 + 234\lambda - 648 = 0.$$

Если это уравнение имеет целые корни, то все они находятся среди делителей свободного члена $648 = 2 \cdot 2 \cdot 3 \cdot 3 \cdot 3 \cdot 3$.

Проверка подстановкой показывает, что $\lambda_1=9$ - одно из собственных значений, и

$$\varphi(\lambda)=(\lambda-9)(\lambda^2-18\lambda+72).$$

Решив уравнение $\lambda^2-18\lambda+72=0$, получим еще два собственных значения $\lambda_2=12$, $\lambda_3=6$.

Для нахождения собственных векторов надо решить систему $(\lambda E-A)X=\theta$ (*) трижды: при $\lambda=\lambda_1=9$, при $\lambda=\lambda_2=12$, при $\lambda=\lambda_3=6$.

При $\lambda=9$ система (*) примет вид

$$\begin{pmatrix} 0 & 2 & -2 \\ 2 & -1 & 0 \\ -2 & 0 & 1 \end{pmatrix} \begin{pmatrix} \alpha_1 \\ \alpha_2 \\ \alpha_3 \end{pmatrix} = \begin{pmatrix} 0 \\ 0 \\ 0 \end{pmatrix}$$

Фундаментальная система решений имеет вид: $C_1 = \begin{pmatrix} 1 \\ 2 \\ 2 \end{pmatrix}$.

Отсюда заключаем, что собственные векторы, соответствующие собственному значению $\lambda_1=9$, имеют вид: $x_{\lambda_1}=\xi C_1$, где $\xi \in \mathbb{R}$, $\xi \neq 0$, то есть

$$x_{\lambda_1} = \xi \begin{pmatrix} 1 \\ 2 \\ 2 \end{pmatrix}, \quad \xi \neq 0.$$

При $\lambda=12$ имеем систему

$$\begin{pmatrix} 3 & 2 & -2 \\ 2 & 2 & 0 \\ -2 & 0 & 4 \end{pmatrix} \begin{pmatrix} \beta_1 \\ \beta_2 \\ \beta_3 \end{pmatrix} = \begin{pmatrix} 0 \\ 0 \\ 0 \end{pmatrix}$$

фундаментальная система решений

$$C_1 = \begin{pmatrix} 2 \\ -2 \\ 1 \end{pmatrix},$$

а собственные векторы, соответствующие собственному значению $\lambda_2=12$ имеют вид

$$x_{\lambda_2} = \eta C_2, \quad \text{где } \eta \in \mathbb{R}, \quad \eta \neq 0, \text{ то есть}$$

$$x_{\lambda_2} = \eta \begin{pmatrix} 2 \\ -2 \\ 1 \end{pmatrix}, \eta \neq 0.$$

При $\lambda=6$ имеем систему

$$\begin{pmatrix} -3 & 2 & -2 \\ 2 & -4 & 0 \\ -2 & 0 & -2 \end{pmatrix} \begin{pmatrix} \gamma_1 \\ \gamma_2 \\ \gamma_3 \end{pmatrix} = \begin{pmatrix} 0 \\ 0 \\ 0 \end{pmatrix}.$$

Найдя фундаментальную систему решений

$$C_2 = \begin{pmatrix} 2 \\ 1 \\ -2 \end{pmatrix},$$

получим собственные векторы, соответствующие собственному значению

$\lambda_3=6$:

$x_{\lambda_3} = \zeta C_2$, где $\zeta \in \mathbb{R}$, $\zeta \neq 0$, т.е.

$$x_{\lambda_3} = \zeta \begin{pmatrix} 2 \\ 1 \\ -2 \end{pmatrix}, \zeta \neq 0.$$

Задача №7: а) Привести к каноническому виду уравнение линии второго порядка $5x^2 + 8xy + 5y^2 - 18x - 18y + 9 = 0$ и схематически изобразить эту линию.

Решение: Это центральная кривая эллиптического типа, так как

$$\delta = \begin{vmatrix} 5 & 4 \\ 4 & 5 \end{vmatrix} = 9 \neq 0.$$

Вычислим координаты центра кривой

$$\begin{cases} 10x + 8y - 18 = 0 \\ 8x + 10y - 18 = 0 \end{cases} \quad x_0 = 1, y_0 = 1, O_1(1, 1).$$

Перенесем начало координат в точку $O_1(1, 1)$. Уравнение примет вид $5x^2 + 8xy + 5y^2 - 9 = 0$, так как $F(x_0, y_0) = -9$. Составим характеристическое уравнение и решим его

$$\begin{vmatrix} 5 - \lambda & 4 \\ 4 & 5 - \lambda \end{vmatrix} = 0, (5 - \lambda)^2 - 16 = 0; \lambda_1 = 1, \lambda_2 = 9.$$

Найдем собственные векторы, отвечающие собственным значениям $\lambda_1=1$ и

$$\lambda_2=9.$$

$$\begin{cases} (5-\lambda)x + 4y = 0 \\ 4x + (5-\lambda)y = 0 \end{cases}$$

При $\lambda=1$: $4x+4y=0$, $x=-y$; $\vec{i}_1 = \left\{ \frac{1}{\sqrt{2}}; -\frac{1}{\sqrt{2}} \right\}$.

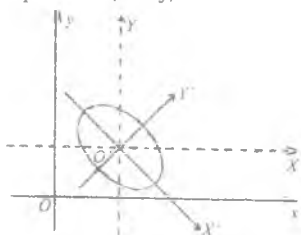
При $\lambda=9$: $-4x+4y=0$, $x=y$; $\vec{j}_1 = \left\{ \frac{1}{\sqrt{2}}; \frac{1}{\sqrt{2}} \right\}$.

Перейдем к новой системе координат $O_1X_1Y_1$ с ортами \vec{i}_1 и \vec{j}_1 .

В этой системе уравнение запишется в виде

$$x_1^2 + 9y_1^2 - 9 = 0, \text{ или } \frac{x_1^2}{9} + \frac{y_1^2}{1} = 1.$$

Это эллипс.



б) Привести к каноническому виду уравнение линии второго порядка $4x^2 - 4xy + y^2 - 2x - 14y + 7 = 0$ и схематически изобразить эту линию.

Решение: Это уравнение параболического вида, так как

$$\delta = \begin{vmatrix} 4 & -2 \\ -2 & 1 \end{vmatrix} = 0.$$

Составим характеристическое уравнение и решим его:

$$\begin{vmatrix} 4-\lambda & -2 \\ -2 & 1-\lambda \end{vmatrix} = 0 \text{ или } \lambda^2 - 5\lambda = 0; \lambda_1=0, \lambda_2=5.$$

Найдем собственные векторы, отвечающие собственным числам $\lambda_1=0$ и

$$\lambda_2=5. \begin{cases} (4-\lambda)x - 2y = 0 \\ -2x + (1-\lambda)y = 0; \end{cases}$$

при $\lambda=0$ $\begin{cases} 4x - 2y = 0 \\ -2x + y = 0; \end{cases} \Leftrightarrow 2x - y = 0 \Leftrightarrow y = 2x.$

Находим решение (любое ненулевое): $x=1, y=2$ - координаты собственного вектора. После нормировки имеем

$$\bar{i}_1 = \frac{\{-2, 1\}}{\{|-2, 1|\}} = \left\{ \frac{1}{\sqrt{5}}, \frac{2}{\sqrt{5}} \right\}.$$

$$\text{при } \lambda=5 \begin{cases} x+2y=0 \\ 2x+4y=0; \end{cases} \Leftrightarrow x=-2y.$$

Находим решение (любое ненулевое): $x=-2, y=1$ - координаты собственного вектора. После нормировки имеем

$$\bar{j}_1 = \frac{\{-2, 1\}}{\{|-2, 1|\}} = \left\{ -\frac{2}{\sqrt{5}}, \frac{1}{\sqrt{5}} \right\}.$$

Перейдем к новой системе координат OXY с осями \bar{i}_1, \bar{j}_1 :

$$\bar{i}_1 = \cos \alpha \bar{i} - \sin \alpha \bar{j};$$

$$\bar{j}_1 = -\sin \alpha \bar{i} + \cos \alpha \bar{j}, \text{ где } \cos \alpha = \frac{1}{\sqrt{5}}, \sin \alpha = \frac{2}{\sqrt{5}}.$$

При этом формулы преобразования координат будут:

$$x = \cos \alpha X - \sin \alpha Y = \frac{X - 2Y}{\sqrt{5}};$$

$$y = \sin \alpha X + \cos \alpha Y = \frac{2X + Y}{\sqrt{5}}.$$

Переходя в данном уравнении к новым координатам, получим

$$5y^2 - 6\sqrt{5}x - 2\sqrt{5}y + 7 = 0.$$

Заметим, что квадратичный член здесь определяется сразу согласно теории, так как $\lambda_1=0, \lambda_2=5$; свободный член переходит из данного уравнения без изменения. Таким образом, преобразование потребовалось лишь по отношению к членам первой степени.

Перепишем предыдущее уравнение

$$5\left(y - \frac{\sqrt{5}}{5}\right)^2 - 6\sqrt{5}\left(x - \frac{\sqrt{5}}{5}\right) = 0.$$

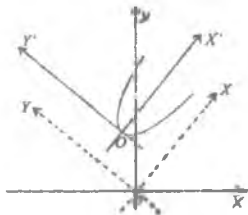
Теперь видно, что нужен параллельный перенос системы OXY , при этом координаты преобразуются по формулам

$$x = x' + \frac{\sqrt{5}}{5}, \quad y = y' + \frac{\sqrt{5}}{5},$$

и данное уравнение принимает канонический вид

$$5y'^2 - 6\sqrt{5}x' = 0.$$

Это уравнение определяет параболу.



Задача №8: Привести к каноническому виду уравнение поверхности второго порядка $9x^2 + 20y^2 + 20z^2 - 40yz - 36x + 4\sqrt{2}y - 4\sqrt{2}z + 4 = 0$ и схематически изобразить эту поверхность.

Решение: Квадратичная форма, соответствующая этому уравнению, имеет

вид $9x^2 + 20y^2 + 20z^2 - 40yz = 0$, а ее матрица $A = \begin{pmatrix} 9 & 0 & 0 \\ 0 & 20 & -20 \\ 0 & -20 & 20 \end{pmatrix}$.

Собственные числа самосопряженного оператора с матрицей A равны $\lambda_1=9$, $\lambda_2=40$, $\lambda_3=0$. Следовательно, канонический вид квадратичной формы будет следующим:

$$9x_1^2 + 40y_1^2. \quad (*)$$

Найдем базис, в котором квадратичная форма имеет вид выражения (*). По аналогии с задачей 6 находим

$\bar{e}_1 = (1, 0, 0)$ - собственный вектор с собственным числом $\lambda_1=9$,

$\bar{e}_2 = (0, s, -s)$ - собственный вектор с собственным числом $\lambda_2=40$,

$\bar{e}_3 = (0, r, r)$ - собственный вектор с собственным числом $\lambda_3=0$.

Здесь t, s, r - любые действительные числа, отличные от нуля. Пронормировав векторы $\bar{e}_1, \bar{e}_2, \bar{e}_3$, получим новый ортонормированный базис

$$\bar{i}_1, \bar{j}_1, \bar{k}_1, \text{ где } \bar{i}_1 = (1, 0, 0), \bar{j}_1 = \left(0, \frac{1}{\sqrt{2}}, -\frac{1}{\sqrt{2}}\right), \bar{k}_1 = \left(0, \frac{1}{\sqrt{2}}, \frac{1}{\sqrt{2}}\right).$$

Матрица $C = \begin{pmatrix} 1 & 0 & 0 \\ 0 & \frac{1}{\sqrt{2}} & \frac{1}{\sqrt{2}} \\ 0 & -\frac{1}{\sqrt{2}} & \frac{1}{\sqrt{2}} \end{pmatrix}$ является матрицей перехода от старого базиса к

новому.

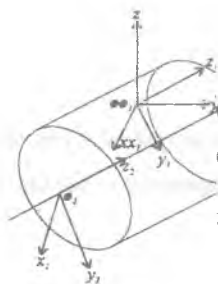
Поэтому

$$\begin{pmatrix} x \\ y \\ z \end{pmatrix} = C \begin{pmatrix} x_1 \\ y_1 \\ z_1 \end{pmatrix} \Rightarrow \begin{cases} x = x_1, \\ y = \frac{1}{\sqrt{2}}y_1 + \frac{1}{\sqrt{2}}z_1, \\ z = -\frac{1}{\sqrt{2}}y_1 + \frac{1}{\sqrt{2}}z_1. \end{cases} \quad (**)$$

Найдем уравнение данной фигуры в системе Ox_1, Y_1, Z_1 . Подставив в данное уравнение значения x, y, z из формул (**), получим

$$9x_1^2 + 40y_1^2 - 36x_1 + 8y_1 + 4 = 0$$

$$\text{или } \frac{(x_1 - 2)^2}{3,6} + \frac{(y_1 + 0,1)^2}{0,81} = 1.$$



Осуществляя параллельный перенос системы Ox_1, Y_1, Z_1 на вектор $\vec{OO}_2 = 2\vec{i}_1 - 0,1\vec{j}_1$, получим систему Ox_2, Y_2, Z_2 , в которой уравнение данного геометрического объекта имеет вид $\frac{x_2^2}{a^2} + \frac{y_2^2}{b^2} = 1$, где $a = \sqrt{3,6}$ $b = 0,9$.

Рис. 1

Это уравнение, а следовательно и исходное уравнение, определяет эллиптический цилиндр,

изображенный на рис.1.

6) Построить в пространстве поверхность, определяемую уравнением $x^2 + 6x + 4y - 2z + 1 = 0$, приведя предварительно данное к каноническому виду.

Решение: Обращаем внимание на то, что в уравнении присутствует квадрат только одной переменной и первые степени двух других переменных. Полагая

$$x_1 = x; \quad y_1 = \frac{2y - z}{\sqrt{5}}; \quad z_1 = \frac{y + 2z}{\sqrt{5}},$$

получаем

$x = x_1$; $y = \frac{2y_1 + z_1}{\sqrt{5}}$; $z = \frac{-y_1 + 2z_1}{\sqrt{5}}$, что соответствует переходу к новому

ортонормированному базису $\bar{i}_1, \bar{j}_1, \bar{k}_1$ с матрицей перехода $C = \begin{pmatrix} 1 & 0 & 0 \\ 0 & \frac{2}{\sqrt{5}} & \frac{1}{\sqrt{5}} \\ 0 & -\frac{1}{\sqrt{5}} & \frac{2}{\sqrt{5}} \end{pmatrix}$, в

столбцах которой записаны координаты базисных векторов $\bar{i}_1 = (1, 0, 0)$;

$\bar{j}_1 = \left(0, \frac{2}{\sqrt{5}}, \frac{1}{\sqrt{5}}\right)$; $\bar{k}_1 = \left(0, \frac{1}{\sqrt{5}}, \frac{2}{\sqrt{5}}\right)$. В результате перехода к новому базису исходное

уравнение принимает вид $x_1^2 + 6x_1 + 2\sqrt{5}y_1 + 1 = 0$ или $(x_1 + 3)^2 + 2\sqrt{5}\left(y_1 - \frac{8}{2\sqrt{5}}\right)^2 = 0$.

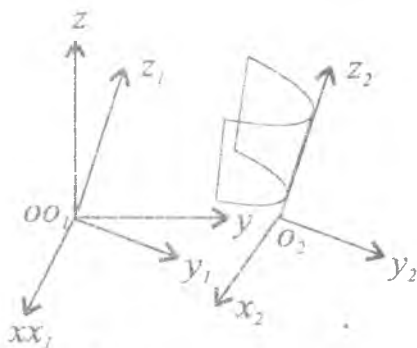


Рис. 2

Осуществив параллельный перенос системы OX_1, Y_1, Z_1 на вектор $\overline{OO_2} = 3\bar{i}_1 - \frac{8}{2\sqrt{5}}\bar{j}_1$, получим систему OX_2, Y_2, Z_2 , в которой уравнение данной поверхности имеет вид $x_2^2 = -2\sqrt{5}y_2$.

Это уравнение, а следовательно и исходное уравнение, определяет параболический цилиндр, изображенный на рис. 2.

СОДЕРЖАНИЕ

<u>Контрольная работа №1</u>	3
Решение типового варианта	18
<u>Контрольная работа №2</u>	24
Решение типового варианта	33
<u>Контрольная работа №3</u>	38
Решение типового варианта	49
<u>Контрольная работа №4</u>	57
Решение типового варианта	75

Учебное издание
ЛИНЕЙНАЯ АЛГЕБРА

Контрольные работы

Составитель: *Прокофьев Леонтий Николаевич*

Редактор Н. С. Купринова

Корректор Т. И. Щелокова

Подписано в печать 16.08.99 г. Формат 60 × 84 1/16.

Бумага офсетная. Печать офсетная.

Усл. печ. л. 5,11. Усл. кр.-отт. 5,23. Уч.- изд. л. 5,5.

Тираж 200 экз. Заказ 100,

Самарский государственный аэрокосмический университет
имени академика С. П. Королева
443086 Самара, Московское шоссе, 34.

ИПО Самарского аэрокосмического университета.
443001 Самара, ул. Молодогвардейская, 151.